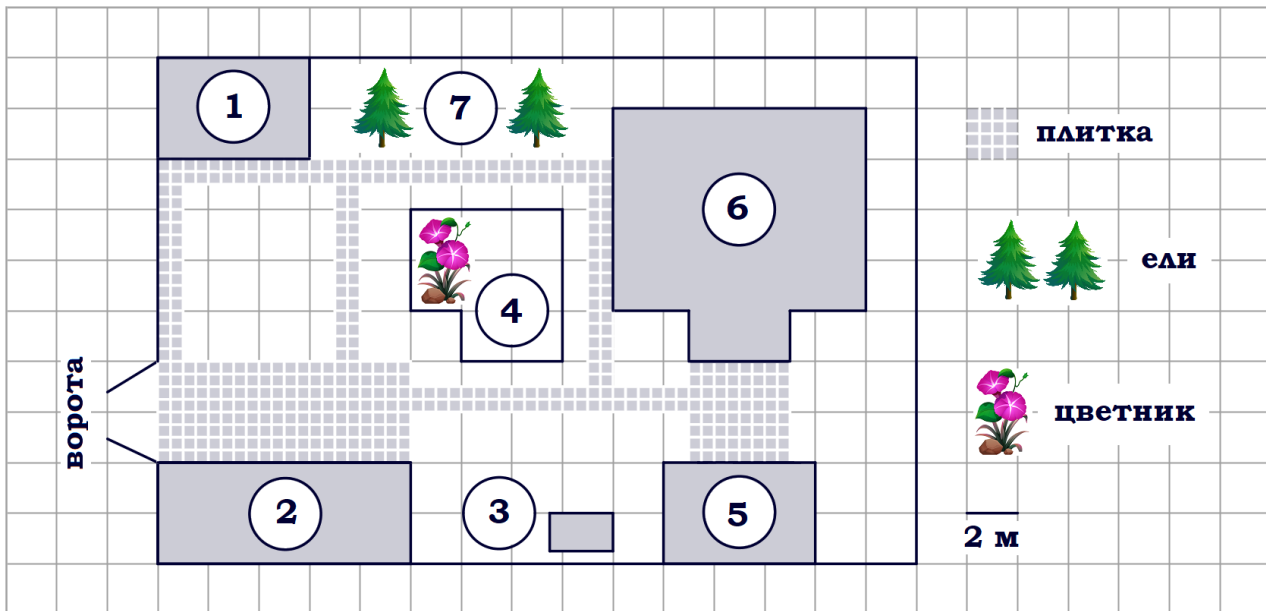


**01-05. Задачи с практическим содержанием**  
**Часть 1. ФИПИ «Участок»**



**Задание 1.** На плане изображено домохозяйство по адресу: СНТ «Прибор», 2-я Линия, д. 26 (сторона каждой клетки на плане равна 2 м). Участок имеет прямоугольную форму. Выезд и въезд осуществляются через единственные ворота. При входе на участок справа от ворот находится гараж, а слева в углу участка расположен сарай, отмеченный на плане цифрой 1. Площадь, занятая сараем, равна 24 кв. м. Жилой дом находится в глубине территории и обозначен на плане цифрой 6. Помимо гаража, жилого дома и сарая, на участке имеется летняя беседка, расположенная напротив входа в дом, и мангал рядом с ней. На участке также растут ели. В центре участка расположен цветник. Все дорожки внутри участка имеют ширину 1 м и вымощены тротуарной плиткой размером 50 см × 50 см. Перед гаражом и между домом и беседкой имеются площадки площадью 40 и 16 кв. м соответственно, вымощенные такой же плиткой. К домохозяйству подведено электричество. Имеется магистральное газоснабжение.

1. Для объектов, указанных в таблице, определите, какими цифрами они обозначены на плане. Заполните таблицу, в бланк ответов перенесите последовательность четырёх цифр без пробелов, запятых и других дополнительных символов.

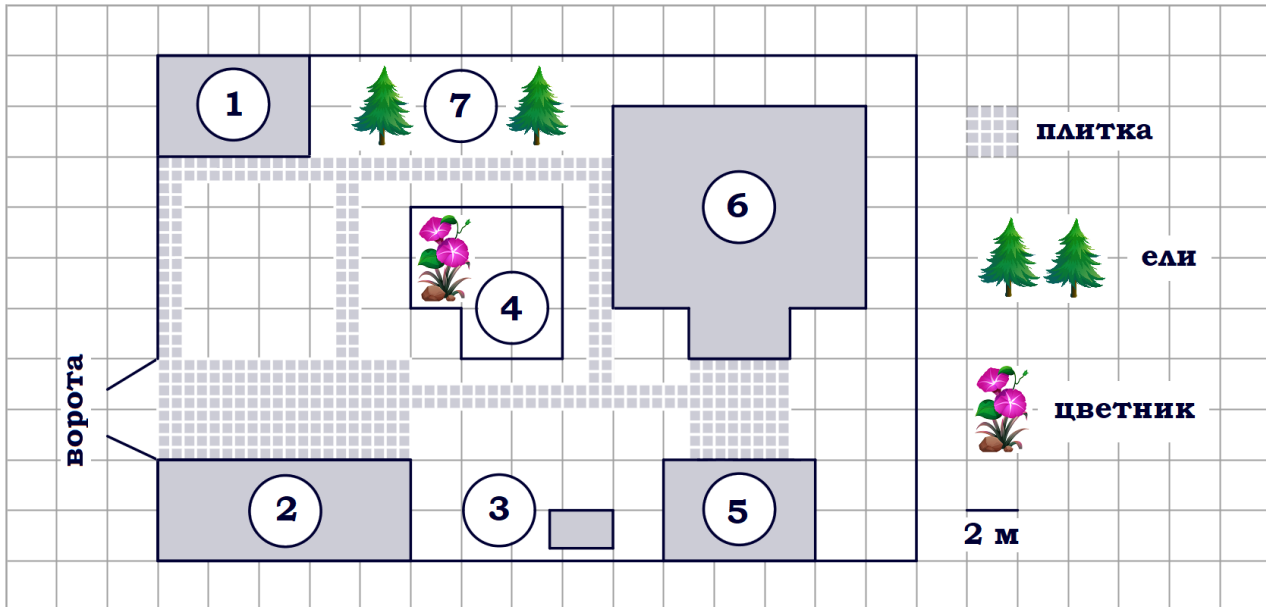
Объекты	беседка	ели	гараж	мангал
Цифры				

2. Найдите площадь, которую занимает цветник. Ответ дайте в квадратных метрах.

3. Сколько процентов площади всего участка занимает беседка?
4. Тротуарная плитка продаётся в упаковках, рассчитанных на 2,5 кв. м. Сколько упаковок такой плитки понадобилось, чтобы выложить все дорожки и обе площадки?
5. Хозяин участка решил покрасить весь забор вокруг участка (только с внешней стороны) в зелёный цвет. Площадь забора равна 232 кв. м, а купить краску можно в одном из двух ближайших магазинов. Цены и характеристики краски и стоимость доставки заказа даны в таблице.

Номер магазина	Расход краски	Масса краски в одной банке	Стоимость одной банки краски	Стоимость доставки заказа
1	0,6 кг/кв. м	5 кг	2400 руб.	400 руб.
2	0,4 кг/кв. м	4 кг	2300 руб.	600 руб.

Во сколько рублей обойдётся наиболее дешёвый вариант покупки с доставкой?



**Задание 2.** На плане изображено домохозяйство по адресу: СНТ «Прибор», 2-я Линия, д. 26 (сторона каждой клетки на плане равна 2 м). Участок имеет прямоугольную форму. Выезд и въезд осуществляются через единственные ворота. При входе на участок справа от ворот находится гараж, а слева в углу участка расположен сарай, отмеченный на плане цифрой 1. Площадь, занятая сараем, равна 24 кв. м. Жилой дом находится в глубине территории и обозначен на плане цифрой 6. Помимо гаража, жилого дома и сарая, на участке имеется летняя беседка, расположенная напротив входа в дом, и мангал рядом с ней. На участке также растут ели. В центре участка расположен цветник. Все дорожки внутри участка имеют ширину 1 м и вымощены тротуарной плиткой размером 50 см × 50 см. Перед гаражом и между домом и беседкой имеются площадки площадью 40 и 16 кв. м соответственно, вымощенные такой же плиткой. К домохозяйству подведено электричество. Имеется магистральное газоснабжение.

1. Для объектов, указанных в таблице, определите, какими цифрами они обозначены на плане. Заполните таблицу, в бланк ответов перенесите последовательность четырёх цифр без пробелов, запятых и других дополнительных символов.

Объекты	цветник	гараж	мангал	беседка
Цифры				

2. Найдите площадь, которую занимает жилой дом. Ответ дайте в квадратных метрах.

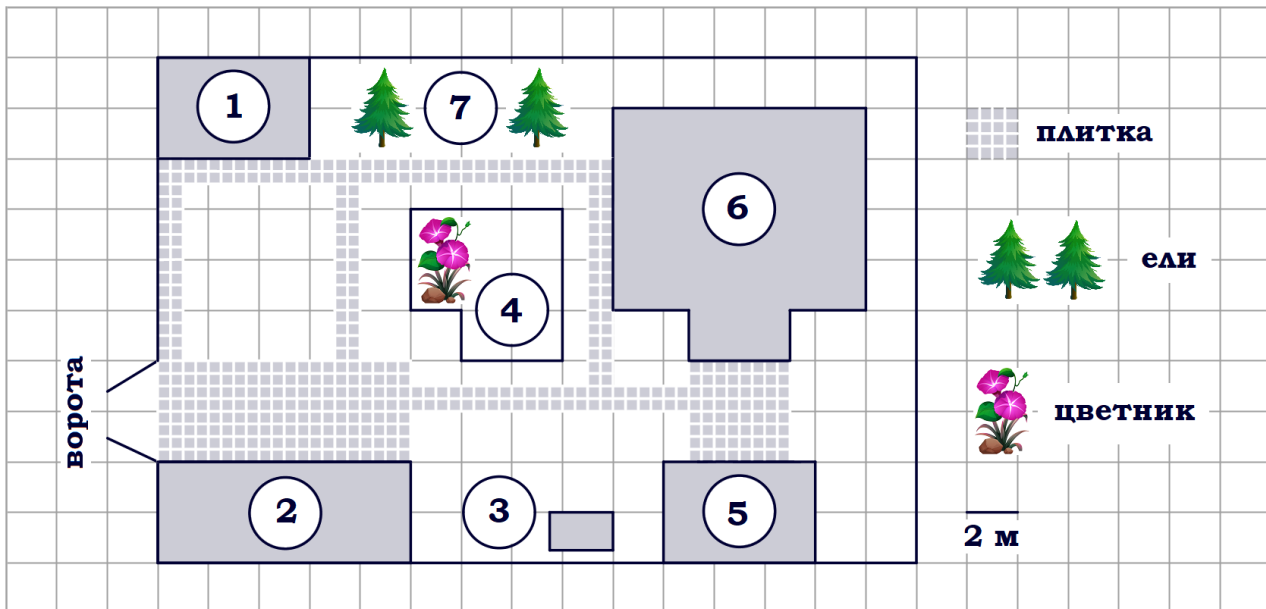
3. Сколько процентов площади всего участка занимает сарай?

4. Тротуарная плитка продаётся в упаковках, рассчитанных на 3,5 кв. м. Сколько упаковок такой плитки понадобилось, чтобы выложить все дорожки и обе площадки?

5. Хозяин участка решил покрасить весь забор вокруг участка (только с внешней стороны) в зелёный цвет. Площадь забора равна 232 кв. м, а купить краску можно в одном из двух ближайших магазинов. Цены и характеристики краски и стоимость доставки заказа даны в таблице.

Номер магазина	Расход краски	Масса краски в одной банке	Стоимость одной банки краски	Стоимость доставки заказа
1	0,25 кг/кв. м	4 кг	2800 руб.	700 руб.
2	0,3 кг/кв. м	3 кг	2000 руб.	300 руб.

Во сколько рублей обойдётся наиболее дешёвый вариант покупки с доставкой?



**Задание 3.** На плане изображено домохозяйство по адресу: СНТ «Прибор», 2-я Линия, д. 26 (сторона каждой клетки на плане равна 2 м). Участок имеет прямоугольную форму. Выезд и въезд осуществляются через единственные ворота. При входе на участок справа от ворот находится гараж, а слева в углу участка расположен сарай, отмеченный на плане цифрой 1. Площадь, занятая сараем, равна 24 кв. м. Жилой дом находится в глубине территории и обозначен на плане цифрой 6. Помимо гаража, жилого дома и сарая, на участке имеется летняя беседка, расположенная напротив входа в дом, и мангал рядом с ней. На участке также растут ели. В центре участка расположен цветник. Все дорожки внутри участка имеют ширину 1 м и вымощены тротуарной плиткой размером 50 см × 50 см. Перед гаражом и между домом и беседкой имеются площадки площадью 40 и 16 кв. м соответственно, вымощенные такой же плиткой. К домохозяйству подведено электричество. Имеется магистральное газоснабжение.

1. Для объектов, указанных в таблице, определите, какими цифрами они обозначены на плане. Заполните таблицу, в бланк ответов перенесите последовательность четырёх цифр без пробелов, запятых и других дополнительных символов.

Объекты	сарай	мангал	ели	гараж
Цифры				

2. Найдите расстояние от гаража до жилого дома (расстояние между двумя ближайшими точками по прямой) в метрах.

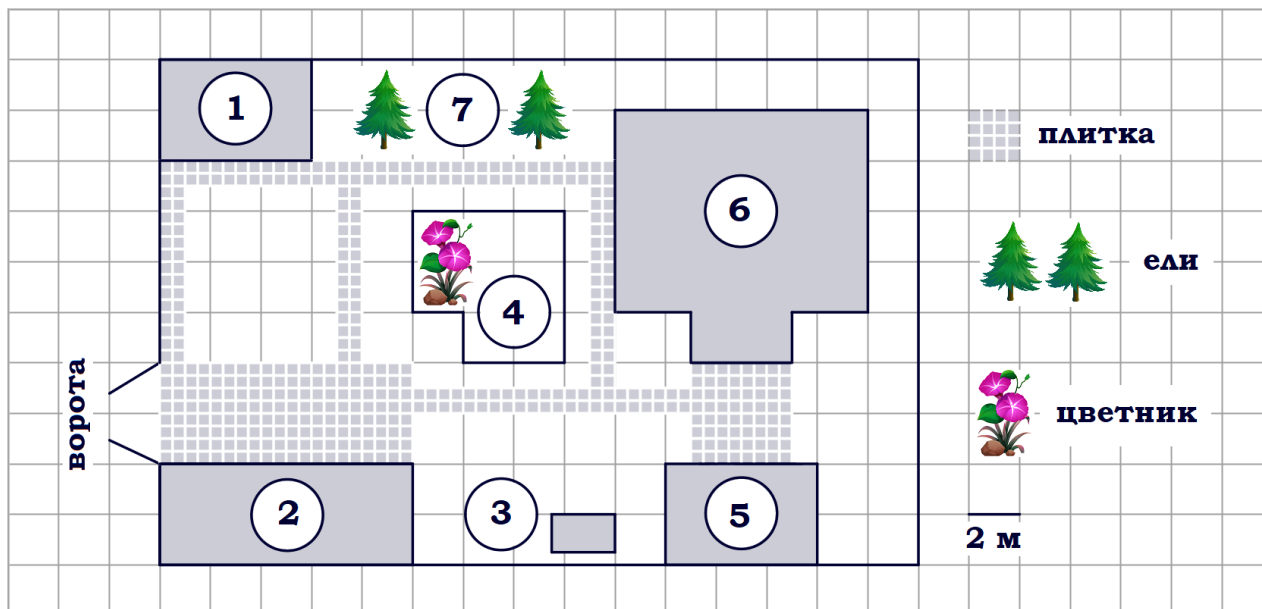
3. Сколько процентов площади всего участка занимает цветник? Ответ округлите до целого.

4. Тротуарная плитка продаётся в упаковках по 12 штук. Сколько упаковок плитки понадобилось, чтобы выложить только дорожки?

5. Хозяин участка планирует установить в жилом доме систему отопления. Он рассматривает два варианта: электрическое или газовое отопление. Цены на оборудование и стоимость его установки, данные о расходе газа, электроэнергии и их стоимости даны в таблице.

	Нагреватель (котёл)	Прочее оборудование и монтаж	Средн. расход газа/средн. потребл. мощность	Стоимость газа/электроэнергии
Газовое отопление	23 000 руб.	12 204 руб.	1,6 куб. м/ч	4,7 руб./куб. м
Электр. отопление	19 000 руб.	10 000 руб.	4,7 кВт	4,9 руб./(кВт·ч)

Обдумав оба варианта, хозяин решил установить газовое отопление. Через сколько часов непрерывной работы отопления экономия от использования газа вместо электричества компенсирует разницу в стоимости покупки и установки газового и электрического оборудования?



**Задание 4.** На плане изображено домохозяйство по адресу: СНТ «Прибор», 2-я Линия, д. 26 (сторона каждой клетки на плане равна 2 м). Участок имеет прямоугольную форму. Выезд и въезд осуществляются через единственные ворота. При входе на участок справа от ворот находится гараж, а слева в углу участка расположен сарай, отмеченный на плане цифрой 1. Площадь, занятая сараем, равна 24 кв. м. Жилой дом находится в глубине территории и обозначен на плане цифрой 6. Помимо гаража, жилого дома и сарая, на участке имеется летняя беседка, расположенная напротив входа в дом, и мангал рядом с ней. На участке также растут ели. В центре участка расположен цветник. Все дорожки внутри участка имеют ширину 1 м и вымощены тротуарной плиткой размером 50 см×50 см. Перед гаражом и между домом и беседкой имеются площадки площадью 40 и 16 кв. м соответственно, вымощенные такой же плиткой. К домохозяйству подведено электричество. Имеется магистральное газоснабжение.

1. Для объектов, указанных в таблице, определите, какими цифрами они обозначены на плане. Заполните таблицу, в бланк ответов перенесите последовательность четырёх цифр без пробелов, запятых и других дополнительных символов.

Объекты	беседка	жилой дом	цветник	сарай
Цифры				

2. Найдите расстояние от цветника до жилого дома (расстояние между двумя ближайшими точками по прямой) в метрах.

3. Сколько процентов площади всего участка занимает гараж? Ответ округлите до целого.

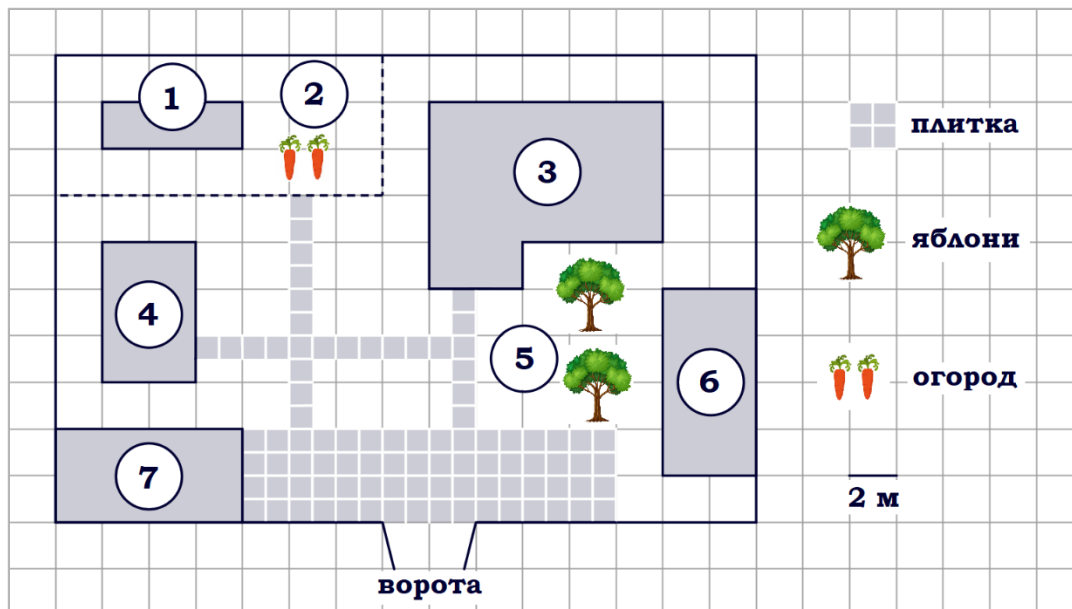
4. Тротуарная плитка продаётся в упаковках по 15 штук. Сколько упаковок плитки понадобилось, чтобы выложить только дорожки?

5. Хозяин участка планирует установить в жилом доме систему отопления. Он рассматривает два варианта: электрическое или газовое отопление. Цены на оборудование и стоимость его установки, данные о расходе газа, электроэнергии и их стоимости даны в таблице.

	Нагреватель (котёл)	Прочее оборудова- ние и монтаж	Средн. расход газа/ средн. потребл. мощность	Стоимость газа/электро- энергии
Газовое отопление	22 000 руб.	14 832 руб.	1,1 куб. м/ч	4,6 руб./куб. м
Электр. отопление	17 000 руб.	11 000 руб.	4,6 кВт	4,3 руб./(кВт·ч)

Обдумав оба варианта, хозяин решил установить газовое отопление. Через сколько часов непрерывной работы отопления экономия от использования газа вместо электричества компенсирует разницу в стоимости покупки и установки газового и электрического оборудования?





**Задание 5.** На плане изображено домохозяйство по адресу: с. Авдеево, 3-й Поперечный пер., д. 13 (сторона каждой клетки на плане равна 2 м). Участок имеет прямоугольную форму. Выезд и въезд осуществляются через единственные ворота. При входе на участок справа от ворот находится баня, а слева – гараж, отмеченный на плане цифрой 7. Площадь, занятая гаражом, равна 32 кв. м. Жилой дом находится в глубине территории. Помимо гаража, жилого дома и бани, на участке имеется сарай, расположенный рядом с гаражом, и теплица, построенная на территории огорода (огород отмечен цифрой 2). Перед жилым домом имеются яблоневые посадки. Все дорожки внутри участка имеют ширину 1 м и вымощены тротуарной плиткой размером 1 м x 1 м . Между баней и гаражом имеется площадка площадью 64 кв. м, вымощенная плиткой такого же размера, но другой фактуры и цвета. К домохозяйству подведено электричество. Имеется магистральное газоснабжение.

1. Для объектов, указанных в таблице, определите, какими цифрами они обозначены на плане. Заполните таблицу, в бланк ответов перенесите последовательность четырёх цифр без пробелов, запятых и других дополнительных символов.

Объекты	яблони	теплица	жилой дом	баня
Цифры				

2. Найдите расстояние от жилого дома до гаража (расстояние между двумя ближайшими точками по прямой) в метрах.

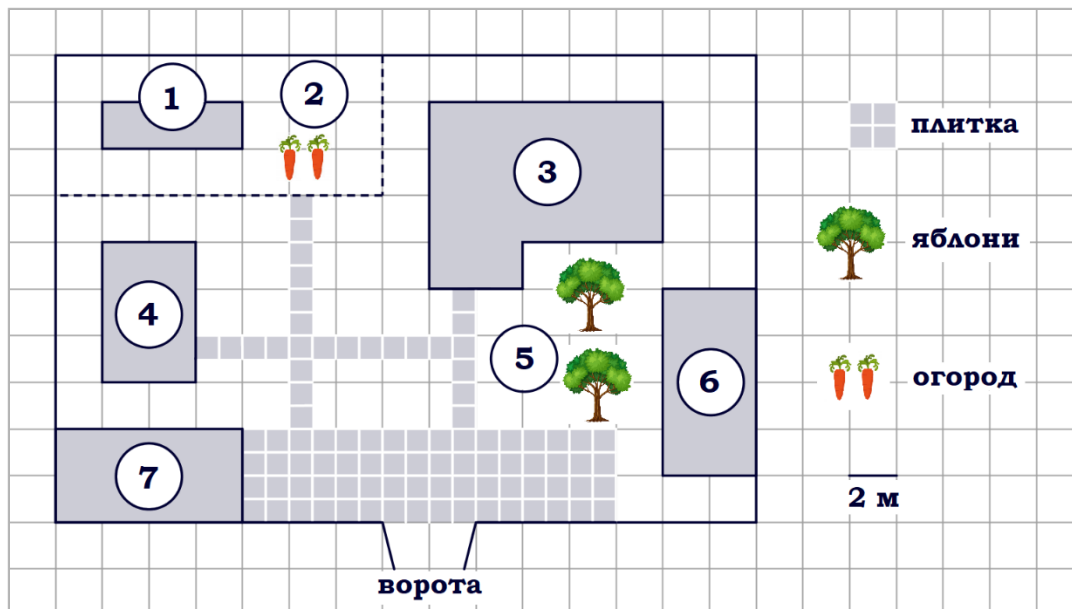
3. Найдите площадь, которую занимает жилой дом. Ответ дайте в квадратных метрах.

4. Тротуарная плитка продаётся в упаковках по 5 штук. Сколько упаковок такой плитки понадобилось, чтобы выложить все дорожки?

5. Хозяин участка планирует устроить в жилом доме зимнее отопление. Он рассматривает два варианта: электрическое или газовое отопление. Цены на оборудование и стоимость его установки, данные о расходе газа, электроэнергии и их стоимости даны в таблице.

	Нагреватель (котёл)	Прочее оборудование и монтаж	Средн. расход газа/средн. потребл. мощность	Стоимость газа/электроэнергии
Газовое отопление	24 000 руб.	18 280 руб.	1,2 куб. м/ч	5,6 руб./куб. м
Электр. отопление	20 000 руб.	15 000 руб.	5,6 кВт	3,8 руб./(кВт·ч)

Обдумав оба варианта, хозяин решил установить газовое оборудование. Через сколько часов непрерывной работы отопления экономия от использования газа вместо электричества компенсирует разность в стоимости устройства газового и электрического отопления?



**Задание 6.** На плане изображено домохозяйство по адресу: с. Авдеево, 3-й Поперечный пер., д. 13 (сторона каждой клетки на плане равна 2 м). Участок имеет прямоугольную форму. Выезд и въезд осуществляются через единственные ворота. При входе на участок справа от ворот находится баня, а слева – гараж, отмеченный на плане цифрой 7. Площадь, занятая гаражом, равна 32 кв. м. Жилой дом находится в глубине территории. Помимо гаража, жилого дома и бани, на участке имеется сарай, расположенный рядом с гаражом, и теплица, построенная на территории огорода (огород отмечен цифрой 2). Перед жилым домом имеются яблоневые посадки. Все дорожки внутри участка имеют ширину 1 м и вымощены тротуарной плиткой размером 1 м x 1 м . Между баней и гаражом имеется площадка площадью 64 кв. м, вымощенная плиткой такого же размера, но другой фактуры и цвета. К домохозяйству подведено электричество. Имеется магистральное газоснабжение.

1. Для объектов, указанных в таблице, определите, какими цифрами они обозначены на плане. Заполните таблицу, в бланк ответов перенесите последовательность четырёх цифр без пробелов, запятых и других дополнительных символов.

Объекты	жилой дом	сарай	баня	теплица
Цифры				

2. Найдите расстояние от ворот до сарая (расстояние между двумя ближайшими точками по прямой) в метрах.

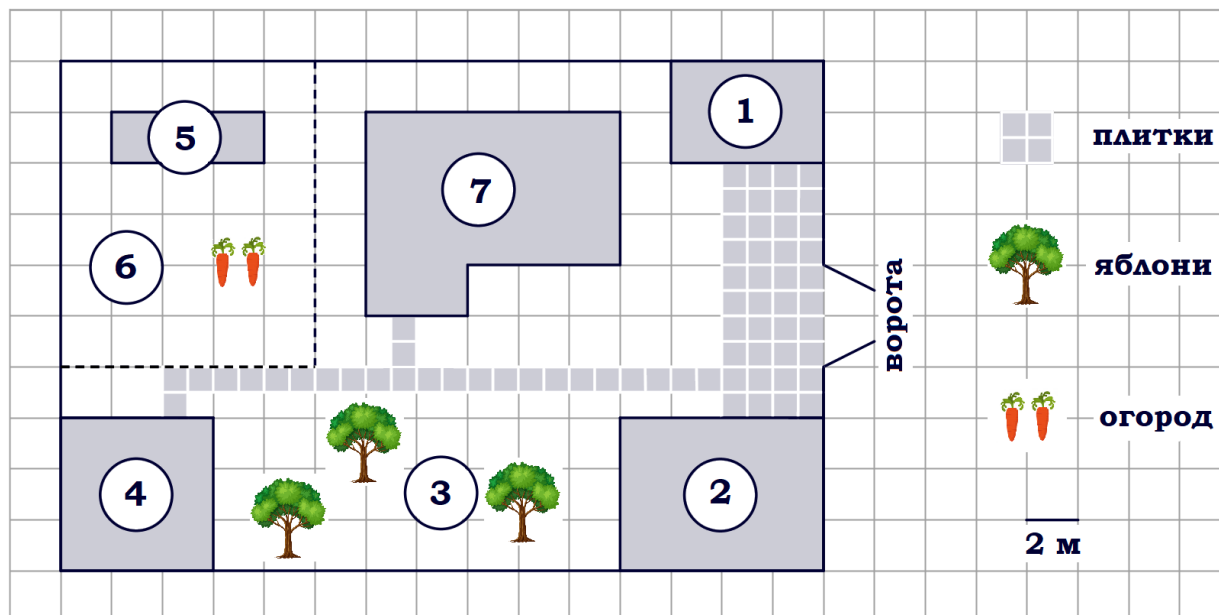
3. Найдите площадь открытого грунта огорода (вне теплицы). Ответ дайте в квадратных метрах.

4. Тротуарная плитка продаётся в упаковках по 4 штуки. Сколько упаковок плитки понадобилось, чтобы выложить все дорожки и площадку перед гаражом?

5. Хозяин участка планирует установить в жилом доме систему отопления. Он рассматривает два варианта: электрическое или газовое отопление. Цены на оборудование и стоимость его установки, данные о расходе газа, электроэнергии и их стоимости даны в таблице.

	Нагреватель (котёл)	Прочее оборудование и монтаж	Средн. расход газа/средн. потребл. мощность	Стоимость газа/электроэнергии
Газовое отопление	22 000 руб.	14 580 руб.	1,4 куб. м/ч	5,5 руб./куб. м
Электр. отопление	15 000 руб.	13 000 руб.	5,5 кВт	3,8 руб./(кВт·ч)

Обдумав оба варианта, хозяин решил установить газовое оборудование. Через сколько часов непрерывной работы отопления экономия от использования газа вместо электричества компенсирует разницу в стоимости устройства газового и электрического оборудования?



**Задание 7.** На плане изображён дачный участок по адресу: п. Сосновка, ул. Зелёная, д. 19 (сторона каждой клетки на плане равна 2 м). Участок имеет прямоугольную форму. Выезд и въезд осуществляются через единственные ворота. При входе на участок слева от ворот находится гараж. Справа от ворот находится сарай площадью 24 кв. м, а чуть подальше – жилой дом. Напротив жилого дома расположены яблоневые посадки. Также на участке есть баня, к которой ведёт дорожка, выложенная плиткой, и огород с теплицей внутри (огород отмечен на плане цифрой 6). Все дорожки внутри участка имеют ширину 1 м и вымощены тротуарной плиткой размером 1 м x 1 м. Между гаражом и сараем находится площадка, вымощенная такой же плиткой. К участку подведено электричество. Имеется магистральное газоснабжение.

1. Для объектов, указанных в таблице, определите, какими цифрами они обозначены на плане. Заполните таблицу, в бланк ответов перенесите последовательность четырёх цифр.

Объекты	яблони	теплица	сарай	жилой дом
Цифры				

2. Найдите расстояние от жилого дома до гаража (расстояние между двумя ближайшими точками по прямой) в метрах.

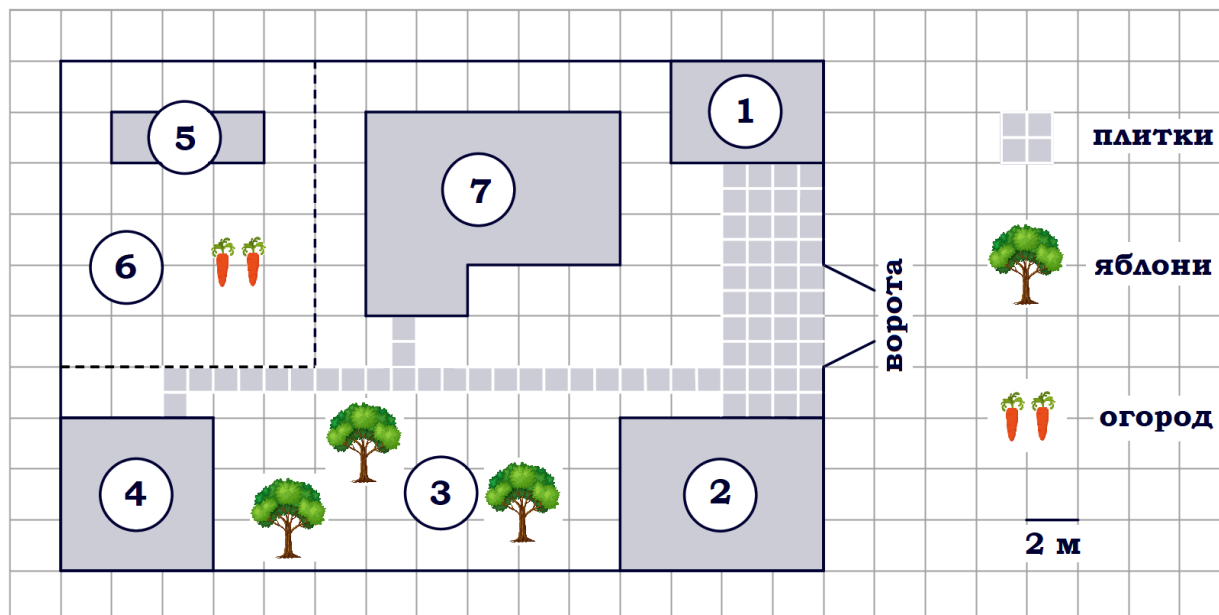
3. Найдите площадь, которую занимает гараж. Ответ дайте в квадратных метрах.

4. Сколько процентов от площади всего участка занимают строения (жилой дом, гараж, сарай, баня)? Ответ округлите до целого.

5. Хозяин участка решил покрасить весь забор вокруг участка (только с внешней стороны) в зелёный цвет. Площадь забора равна 232 кв. м, а купить краску можно в одном из двух ближайших магазинов. Цена и характеристика краски и стоимость доставки заказа даны в таблице.

Номер магазина	Расход краски	Масса краски в одной банке	Стоимость одной банки краски	Стоимость доставки заказа
1	0,25 кг/кв. м	6 кг	3000 руб.	500 руб.
2	0,4 кг/кв. м	5 кг	1900 руб.	800 руб.

Во сколько рублей обойдётся наиболее дешёвый вариант покупки с доставкой?



**Задание 8.** На плане изображён дачный участок по адресу: п. Сосновка, ул. Зелёная, д. 19 (сторона каждой клетки на плане равна 2 м). Участок имеет прямоугольную форму. Выезд и въезд осуществляются через единственные ворота. При входе на участок слева от ворот находится гараж. Справа от ворот находится сарай площадью 24 кв. м, а чуть подальше – жилой дом. Напротив жилого дома расположены яблоневые посадки. Также на участке есть баня, к которой ведёт дорожка, выложенная плиткой, и огород с теплицей внутри (огород отмечен на плане цифрой 6). Все дорожки внутри участка имеют ширину 1 м и вымощены тротуарной плиткой размером 1 м x 1 м. Между гаражом и сараем находится площадка, вымощенная такой же плиткой. К участку подведено электричество. Имеется магистральное газоснабжение.

1. Для объектов, указанных в таблице, определите, какими цифрами они обозначены на плане. Заполните таблицу, в бланк ответов перенесите последовательность четырёх цифр.

Объекты	жилой дом	баня	гараж	теплица
Цифры				

2. Найдите периметр фундамента жилого дома. Ответ дайте в метрах.

3. Найдите площадь, которую занимает баня. Ответ дайте в квадратных метрах.

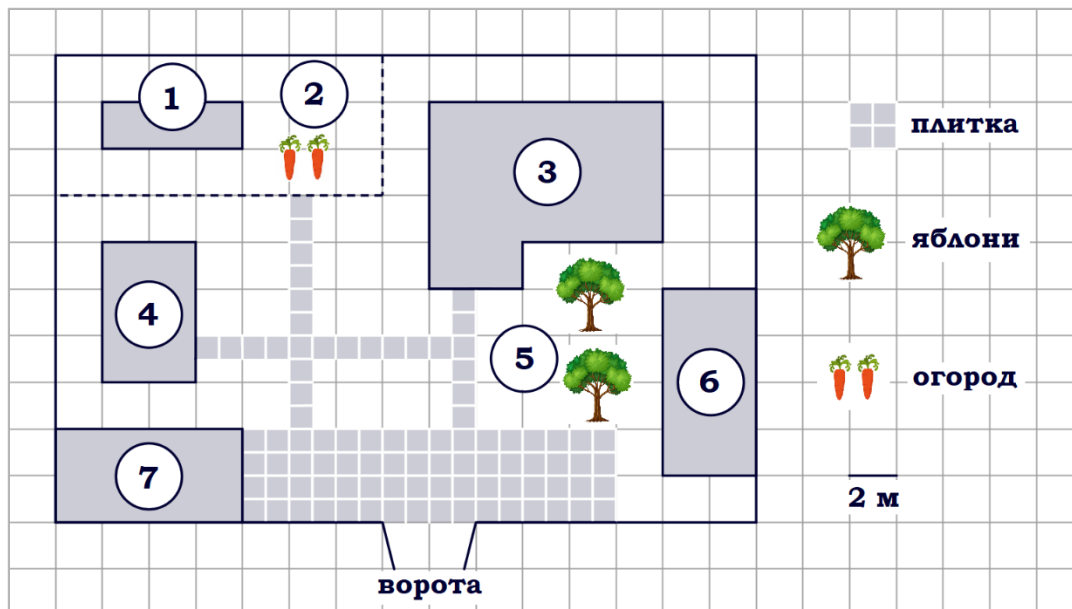
4. Сколько процентов от площади всего огорода занимает теплица?

5. Хозяин участка решил покрасить весь забор вокруг участка (только с внешней стороны) в зелёный цвет. Площадь забора равна 232 кв. м, а купить краску можно в одном из двух ближайших магазинов. Цена и характеристика краски и стоимость доставки заказа даны в таблице.

Номер магазина	Расход краски	Масса краски в одной банке	Стоимость одной банки краски	Стоимость доставки заказа
1	0,5 кг/кв. м	6 кг	2300 руб.	600 руб.
2	0,4 кг/кв. м	4 кг	1700 руб.	300 руб.

Во сколько рублей обойдётся наиболее дешёвый вариант покупки с доставкой?





**Задание 9.** На плане изображено домохозяйство по адресу: с. Авдеево, 3-й Поперечный пер., д. 13 (сторона каждой клетки на плане равна 2 м). Участок имеет прямоугольную форму. Выезд и въезд осуществляются через единственные ворота. При входе на участок справа от ворот находится баня, а слева – гараж, отмеченный на плане цифрой 7. Площадь, занятая гаражом, равна 32 кв. м. Жилой дом находится в глубине территории. Помимо гаража, жилого дома и бани, на участке имеется сарай, расположенный рядом с гаражом, и теплица, построенная на территории огорода (огород отмечен цифрой 2). Перед жилым домом имеются яблоневые посадки. Все дорожки внутри участка имеют ширину 1 м и вымощены тротуарной плиткой размером 1 м x 1 м. Между баней и гаражом имеется площадка площадью 64 кв. м, вымощенная плиткой такого же размера, но другой фактуры и цвета. К домохозяйству подведено электричество. Имеется магистральное газоснабжение.

1. Для объектов, указанных в таблице, определите, какими цифрами они обозначены на плане. Заполните таблицу, в бланк ответов перенесите последовательность четырёх цифр без пробелов, запятых и других дополнительных символов.

Объекты	сарай	гараж	жилой дом	теплица
Цифры				

2. Найдите расстояние от жилого дома до теплицы (расстояние между двумя ближайшими точками по прямой) в метрах.

3. Сколько процентов от площади всего участка занимает плитка (дорожки и площадка)?

4. Тротуарная плитка продаётся в упаковках по 3 штуки. Сколько упаковок плитки понадобилось, чтобы выложить площадку перед гаражом?

5. Хозяин участка планирует установить в жилом доме систему отопления. Он рассматривает два варианта: электрическое или газовое отопление. Цены на оборудование и стоимость его установки, данные о расходе газа, электроэнергии и их стоимости даны в таблице.

	Нагреватель (котёл)	Прочее оборудование и монтаж	Средн. расход газа/средн. потребл. мощность	Стоимость газа/электроэнергии
Газовое отопление	23 000 руб.	17 672 руб.	1,4 куб. м/ч	4,6 руб./куб. м
Электр. отопление	17 000 руб.	13 000 руб.	4,6 кВт	4,3 руб./(кВт·ч)

Обдумав оба варианта, хозяин решил установить газовое отопление. Через сколько часов непрерывной работы отопления экономия от использования газа вместо электричества компенсирует разницу в стоимости установки газового и электрического оборудования?

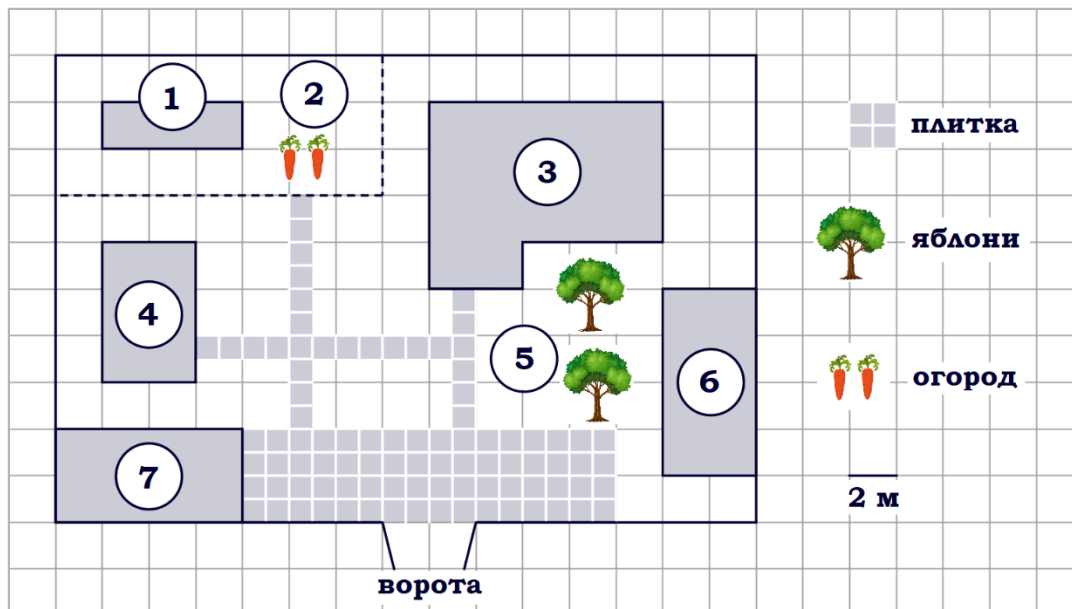


4. Плитки для садовых дорожек продаются в упаковках по 8 штук. Сколько упаковок плиток понадобилось, чтобы выложить все дорожки и площадку между сараем и гаражом?

5. Хозяин участка планирует установить в жилом доме систему отопления. Он рассматривает два варианта: электрическое или газовое отопление. Цены на оборудование и стоимость его установки, данные о расходе газа, электроэнергии и их стоимости даны в таблице.

	Нагреватель (котёл)	Прочее оборудование и монтаж	Средн. расход газа/ средн. потребл. мощность	Стоимость газа/электро- энергии
Газовое отопление	18 000 руб.	9980 руб.	1,2 куб. м/ч	4,8 руб./куб. м
Электр. отопление	13 000 руб.	10 500 руб.	6,4 кВт	4,4 руб./кВт·ч

Обдумав оба варианта, хозяин решил установить газовое отопление. Через сколько часов непрерывной работы отопления экономия от использования газа вместо электричества компенсирует разницу в стоимости покупки и установки газового и электрического оборудования?



**Задание 11.** На плане изображено домохозяйство по адресу: с. Авдеево, 3-й Поперечный пер., д. 13 (сторона каждой клетки на плане равна 2 м). Участок имеет прямоугольную форму. Выезд и въезд осуществляются через единственные ворота. При входе на участок справа от ворот находится баня, а слева – гараж, отмеченный на плане цифрой 7. Площадь, занятая гаражом, равна 32 кв. м. Жилой дом находится в глубине территории. Помимо гаража, жилого дома и бани, на участке имеется сарай, расположенный рядом с гаражом, и теплица, построенная на территории огорода (огород отмечен цифрой 2). Перед жилым домом имеются яблоневые посадки. Все дорожки внутри участка имеют ширину 1 м и вымощены тротуарной плиткой размером 1 м x 1 м. Между баней и гаражом имеется площадка площадью 64 кв. м, вымощенная плиткой такого же размера, но другой фактуры и цвета. К домохозяйству подведено электричество. Имеется магистральное газоснабжение.

1. Для объектов, указанных в таблице, определите, какими цифрами они обозначены на плане. Заполните таблицу, в бланк ответов перенесите последовательность четырёх цифр без пробелов, запятых и других дополнительных символов.

Объекты	гараж	баня	жилой дом	яблони
Цифры				

2. Найдите площадь, которую занимает жилой дом. Ответ дайте в квадратных метрах.

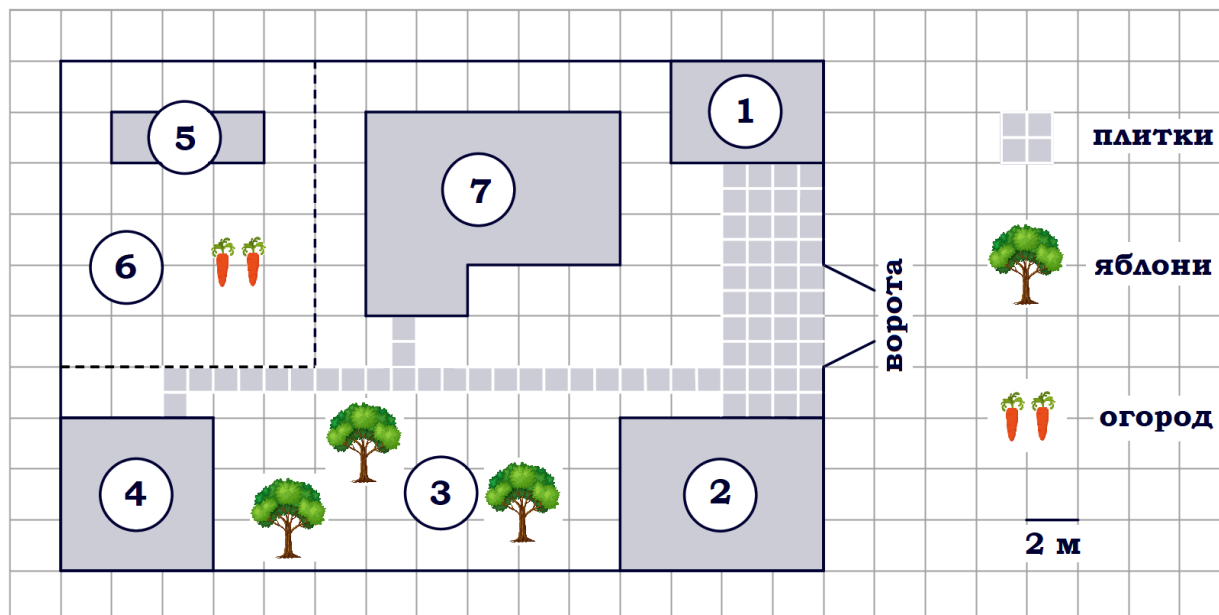
3. На сколько процентов площадь, которую занимает теплица, меньше площади, которую занимает сарай?

4. Тротуарная плитка продаётся в упаковках по 9 штук. Сколько упаковок плитки понадобилось, чтобы выложить площадку перед гаражом?

5. Хозяин участка решил покрасить весь забор вокруг участка (только с внешней стороны) в зелёный цвет. Площадь забора равна 232 кв. м, а купить краску можно в одном из двух ближайших магазинов. Цена и характеристика краски и стоимость доставки заказа даны в таблице.

Номер магазина	Расход краски	Масса краски в одной банке	Стоимость одной банки краски	Стоимость доставки заказа
1	0,4 кг/кв. м	3 кг	1500 руб.	200 руб.
2	0,3 кг/кв. м	4 кг	2800 руб.	800 руб.

Во сколько рублей обойдётся наиболее дешёвый вариант покупки с доставкой?



**Задание 12.** На плане изображён дачный участок по адресу: п. Сосновка, ул. Зелёная, д. 19 (сторона каждой клетки на плане равна 2 м). Участок имеет прямоугольную форму. Выезд и въезд осуществляются через единственные ворота. При входе на участок слева от ворот находится гараж. Справа от ворот находится сарай площадью 24 кв. м, а чуть подальше – жилой дом. Напротив жилого дома расположены яблоневые посадки. Также на участке есть баня, к которой ведёт дорожка, выложенная плиткой, и огород с теплицей внутри (огород отмечен на плане цифрой 6). Все дорожки внутри участка имеют ширину 1 м и вымощены тротуарной плиткой размером 1 м x 1 м. Между гаражом и сараем находится площадка, вымощенная такой же плиткой. К участку подведено электричество. Имеется магистральное газоснабжение.

1. Для объектов, указанных в таблице, определите, какими цифрами они обозначены на плане. Заполните таблицу, в бланк ответов перенесите последовательность четырёх цифр.

Объекты	теплица	гараж	яблони	баня
Цифры				

2. Найдите площадь, которую занимает жилой дом. Ответ дайте в квадратных метрах.

3. На сколько процентов площадь, которую занимает баня, меньше площади, которую занимает гараж?

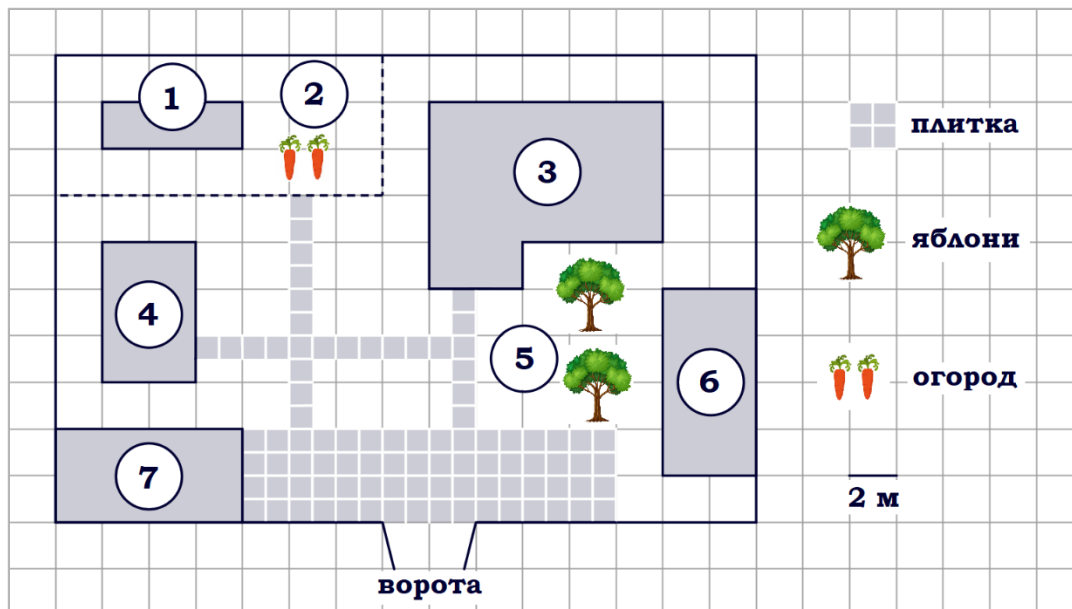
4. Плитки для садовых дорожек продаются в упаковках по 6 штук. Сколько упаковок плиток понадобилось, чтобы выложить все дорожки и площадку между сараем и гаражом?

5. Хозяин участка решил покрасить весь забор вокруг участка (только с внешней стороны) в зелёный цвет. Площадь забора равна 232 кв. м, а купить краску можно в одном из двух ближайших магазинов. Цена и характеристика краски и стоимость доставки заказа даны в таблице.

Номер магазина	Расход краски	Масса краски в одной банке	Стоимость одной банки краски	Стоимость доставки заказа
1	0,6 кг/кв.м	3 кг	1400 руб.	300 руб.
2	0,4 кг/кв.м	4 кг	2300 руб.	800 руб.

Во сколько рублей обойдётся наиболее дешёвый вариант покупки с доставкой?





**Задание 13.** На плане изображено домохозяйство по адресу: с. Авдеево, 3-й Поперечный пер., д. 13 (сторона каждой клетки на плане равна 2 м). Участок имеет прямоугольную форму. Выезд и въезд осуществляются через единственные ворота. При входе на участок справа от ворот находится баня, а слева – гараж, отмеченный на плане цифрой 7. Площадь, занятая гаражом, равна 32 кв. м. Жилой дом находится в глубине территории. Помимо гаража, жилого дома и бани, на участке имеется сарай, расположенный рядом с гаражом, и теплица, построенная на территории огорода (огород отмечен цифрой 2). Перед жилым домом имеются яблоневые посадки. Все дорожки внутри участка имеют ширину 1 м и вымощены тротуарной плиткой размером 1 м x 1 м. Между баней и гаражом имеется площадка площадью 64 кв. м, вымощенная плиткой такого же размера, но другой фактуры и цвета. К домохозяйству подведено электричество. Имеется магистральное газоснабжение.

1. Для объектов, указанных в таблице, определите, какими цифрами они обозначены на плане. Заполните таблицу, в бланк ответов перенесите последовательность четырёх цифр без пробелов, запятых и других дополнительных символов.

Объекты	жилой дом	теплица	яблони	гараж
Цифры				

2. Найдите площадь открытого грунта огорода (вне теплицы). Ответ дайте в квадратных метрах.

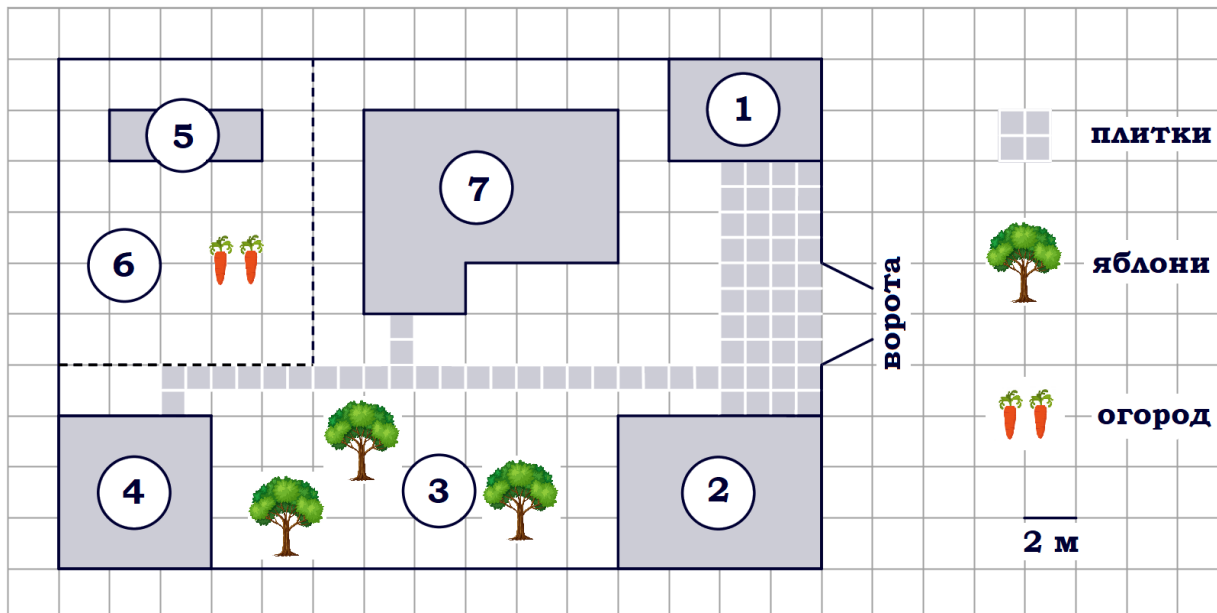
3. На сколько процентов площадь, которую занимает сарай, больше площади, которую занимает теплица?

4. Тротуарная плитка продаётся в упаковках по 7 штук. Сколько упаковок плитки понадобилось, чтобы выложить площадку перед гаражом?

5. Хозяин участка планирует установить в жилом доме систему отопления. Он рассматривает два варианта: электрическое или газовое отопление. Цены на оборудование и стоимость его установки, данные о расходе газа, электроэнергии и их стоимости даны в таблице.

	Нагреватель (котёл)	Прочее оборудование и монтаж	Средн. расход газа/средн. потребл. мощность	Стоимость газа/электроэнергии
Газовое отопление	28 000 руб.	16 540 руб.	1,1 куб. м/ч	4,8 руб./куб. м
Электр. отопление	22 000 руб.	14 444 руб.	5,8 кВт	4,4 руб./(кВт·ч)

Обдумав оба варианта, хозяин решил установить газовое отопление. Через сколько часов непрерывной работы отопления экономия от использования газа вместо электричества компенсирует разницу в стоимости покупки и установки газового и электрического оборудования?



**Задание 14.** На плане изображён дачный участок по адресу: п. Сосновка, ул. Зелёная, д. 19 (сторона каждой клетки на плане равна 2 м). Участок имеет прямоугольную форму. Выезд и въезд осуществляются через единственные ворота. При входе на участок слева от ворот находится гараж. Справа от ворот находится сарай площадью 24 кв. м, а чуть подалее – жилой дом. Напротив жилого дома расположены яблоневые посадки. Также на участке есть баня, к которой ведёт дорожка, выложенная плиткой, и огород с теплицей внутри (огород отмечен на плане цифрой 6). Все дорожки внутри участка имеют ширину 1 м и вымощены тротуарной плиткой размером 1 м x 1 м. Между гаражом и сараем находится площадка, вымощенная такой же плиткой. К участку подведено электричество. Имеется магистральное газоснабжение.

1. Для объектов, указанных в таблице, определите, какими цифрами они обозначены на плане. Заполните таблицу, в бланк ответов перенесите последовательность четырёх цифр.

Объекты	сарай	жилой дом	теплица	баня
Цифры				

2. Найдите площадь открытого грунта огорода (вне теплицы). Ответ дайте в квадратных метрах.

3. На сколько процентов площадь, которую занимает гараж, больше площади, которую занимает теплица?

4. Плитки для садовых дорожек продаются в упаковках по 8 штук. Сколько упаковок плиток понадобилось, чтобы выложить все дорожки?

5. Хозяин участка планирует установить в жилом доме систему отопления. Он рассматривает два варианта: электрическое или газовое отопление. Цены на оборудование и стоимость его установки, данные о расходе газа, электроэнергии и их стоимости даны в таблице.

	Нагреватель (котёл)	Прочее оборудование и монтаж	Средн. расход газа/средн. потребл. мощность	Стоимость газа/электроэнергии
Газовое отопление	25 000 руб.	17 552 руб.	1,3 куб. м/ч	5,2 руб./куб. м
Электр. отопление	21 000 руб.	15 000 руб.	5,2 кВт	4,1 руб./кВт·ч

Обдумав оба варианта, хозяин решил установить газовое отопление. Через сколько часов непрерывной работы отопления экономия от использования газа вместо электричества компенсирует разницу в стоимости покупки и установки газового и электрического оборудования?