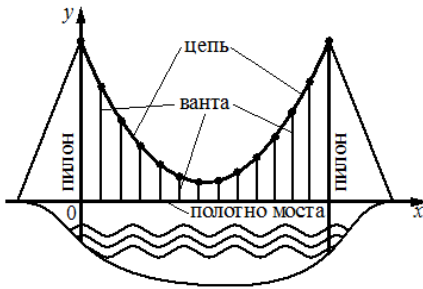
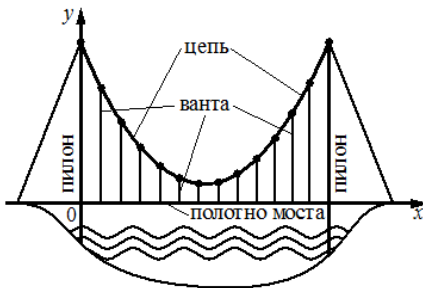


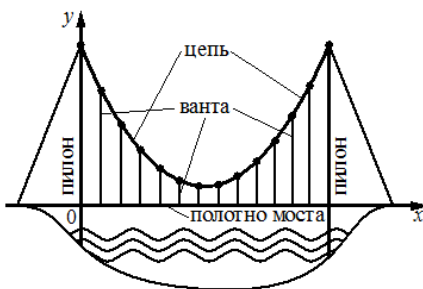
07. Задачи с прикладным содержанием
Часть 1. ФИПИ (www.fipi.ru) + Другие источники (*)



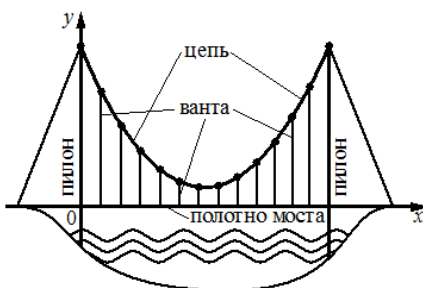
1. На рисунке изображена схема моста. Вертикальные пилоны связаны провисающей цепью. Тросы, которые свисают с цепи и поддерживают полотно моста, называются вантами. Введём систему координат: ось Oy направим вертикально вверх вдоль одного из пилонов, а ось Ox направим вдоль полотна моста, как показано на рисунке. В этой системе координат линия, по которой провисает цепь моста, задаётся формулой $y = 0,0043x^2 - 0,74x + 35$, где x и y измеряются в метрах. Найдите длину ванты, расположенной в 70 метрах от пилона. Ответ дайте в метрах.



2. На рисунке изображена схема моста. Вертикальные пилоны связаны провисающей цепью. Тросы, которые свисают с цепи и поддерживают полотно моста, называются вантами. Введём систему координат: ось Oy направим вертикально вверх вдоль одного из пилонов, а ось Ox направим вдоль полотна моста, как показано на рисунке. В этой системе координат линия, по которой провисает цепь моста, задаётся формулой $y = 0,0029x^2 - 0,53x + 28$, где x и y измеряются в метрах. Найдите длину ванты, расположенной в 90 метрах от пилона. Ответ дайте в метрах.



3. На рисунке изображена схема моста. Вертикальные пилоны связаны провисающей цепью. Тросы, которые свисают с цепи и поддерживают полотно моста, называются вантами. Введём систему координат: ось Oy направим вертикально вверх вдоль одного из пилонов, а ось Ox направим вдоль полотна моста, как показано на рисунке. В этой системе координат линия, по которой провисает цепь моста, задаётся формулой $y = 0,0021x^2 - 0,47x + 31$, где x и y измеряются в метрах. Найдите длину ванты, расположенной в 70 метрах от пилона. Ответ дайте в метрах.



4. На рисунке изображена схема моста. Вертикальные пилоны связаны провисающей цепью. Тросы, которые свисают с цепи и поддерживают полотно моста, называются вантами. Введём систему координат: ось Oy направим вертикально вверх вдоль одного из пилонов, а ось Ox направим вдоль полотна моста, как показано на рисунке. В этой системе координат линия, по которой провисает цепь моста, задаётся формулой $y = 0,0019x^2 - 0,44x + 30$, где x и y измеряются в метрах. Найдите длину ванты, расположенной в 60 метрах от пилона. Ответ дайте в метрах.

- 5.** Автомобиль, движущийся со скоростью $v_0 = 24$ м/с, начал торможение с постоянным ускорением $a = 3$ м/с². За t секунд после начала торможения он прошёл путь $S = v_0 t - \frac{at^2}{2}$ (м). Определите время, прошедшее с момента начала торможения, если известно, что за это время автомобиль проехал 90 метров. Ответ дайте в секундах.
- 6.** Автомобиль, движущийся со скоростью $v_0 = 22$ м/с, начал торможение с постоянным ускорением $a = 4$ м/с². За t секунд после начала торможения он прошёл путь $S = v_0 t - \frac{at^2}{2}$ (м). Определите время, прошедшее с момента начала торможения, если известно, что за это время автомобиль проехал 60 метров. Ответ дайте в секундах.*
- 7.** Автомобиль, движущийся со скоростью $v_0 = 16$ м/с, начал торможение с постоянным ускорением $a = 2$ м/с². За t секунд после начала торможения он прошёл путь $S = v_0 t - \frac{at^2}{2}$ (м). Определите время, прошедшее с момента начала торможения, если известно, что за это время автомобиль проехал 63 метра. Ответ дайте в секундах.*
- 8.** Автомобиль, движущийся со скоростью $v_0 = 21$ м/с, начал торможение с постоянным ускорением $a = 6$ м/с². За t секунд после начала торможения он прошёл путь $S = v_0 t - \frac{at^2}{2}$ (м). Определите время, прошедшее с момента начала торможения, если известно, что за это время автомобиль проехал 36 метров. Ответ дайте в секундах.*
- 9.** Мотоциклист, движущийся по городу со скоростью $v_0 = 60$ км/ч, выезжает из него и сразу после выезда начинает разгоняться с постоянным ускорением $a = 18$ км/ч². Расстояние (в км) от мотоциклиста до города вычисляется по формуле $S = v_0 t + \frac{at^2}{2}$, где t – время в часах, прошедшее после выезда из города. Определите время, прошедшее после выезда мотоциклиста из города, если известно, что за это время он удалился от города на 21 км. Ответ дайте в минутах.
- 10.** Мотоциклист, движущийся по городу со скоростью $v_0 = 65$ км/ч, выезжает из него и сразу после выезда начинает разгоняться с постоянным ускорением $a = 40$ км/ч². Расстояние (в км) от мотоциклиста до города вычисляется по формуле $S = v_0 t + \frac{at^2}{2}$, где t – время в часах, прошедшее после выезда из города. Определите время, прошедшее после выезда мотоциклиста из города, если известно, что за это время он удалился от города на 60 км. Ответ дайте в минутах.*
- 11.** Мотоциклист, движущийся по городу со скоростью $v_0 = 66$ км/ч, выезжает из него и сразу после выезда начинает разгоняться с постоянным ускорением $a = 24$ км/ч². Расстояние (в км) от мотоциклиста до города вычисляется по формуле $S = v_0 t + \frac{at^2}{2}$, где t – время в часах, прошедшее после выезда из города. Определите время, прошедшее после выезда мотоциклиста из города, если известно, что за это время он удалился от города на 36 км. Ответ дайте в минутах.*
- 12.** Мотоциклист, движущийся по городу со скоростью $v_0 = 70$ км/ч, выезжает из него и сразу после выезда начинает разгоняться с постоянным ускорением $a = 16$ км/ч². Расстояние (в км) от мотоциклиста до города вычисляется по формуле $S = v_0 t + \frac{at^2}{2}$, где t – время в часах, прошедшее после выезда из города. Определите время, прошедшее после выезда мотоциклиста из города, если известно, что за это время он удалился от города на 18 км. Ответ дайте в минутах.*

13. Для сматывания кабеля на заводе используют лебёдку, которая равноускоренно наматывает кабель на катушку. Угол, на который поворачивается катушка, изменяется со временем по закону $\varphi = \omega t + \frac{\beta t^2}{2}$, где t – время в минутах, прошедшее после начала работы лебёдки, $\omega = 25$ град. / мин – начальная угловая скорость вращения катушки, а $\beta = 10$ град. / мин² – угловое ускорение, с которым наматывается кабель. Определите время, прошедшее после начала работы лебёдки, если известно, что за это время угол намотки φ достиг 1500° . Ответ дайте в минутах.*

14. Для сматывания кабеля на заводе используют лебёдку, которая равноускоренно наматывает кабель на катушку. Угол, на который поворачивается катушка, изменяется со временем по закону $\varphi = \omega t + \frac{\beta t^2}{2}$, где t – время в минутах, прошедшее после начала работы лебёдки, $\omega = 15$ град. / мин – начальная угловая скорость вращения катушки, а $\beta = 6$ град. / мин² – угловое ускорение, с которым наматывается кабель. Определите время, прошедшее после начала работы лебёдки, если известно, что за это время угол намотки φ достиг 2250° . Ответ дайте в минутах.

15. Для сматывания кабеля на заводе используют лебёдку, которая равноускоренно наматывает кабель на катушку. Угол, на который поворачивается катушка, изменяется со временем по закону $\varphi = \omega t + \frac{\beta t^2}{2}$, где t – время в минутах, прошедшее после начала работы лебёдки, $\omega = 60$ град. / мин – начальная угловая скорость вращения катушки, а $\beta = 8$ град. / мин² – угловое ускорение, с которым наматывается кабель. Определите время, прошедшее после начала работы лебёдки, если известно, что за это время угол намотки φ достиг 2800° . Ответ дайте в минутах.*

16. Для сматывания кабеля на заводе используют лебёдку, которая равноускоренно наматывает кабель на катушку. Угол, на который поворачивается катушка, изменяется со временем по закону $\varphi = \omega t + \frac{\beta t^2}{2}$, где t – время в минутах, прошедшее после начала работы лебёдки, $\omega = 50$ град. / мин – начальная угловая скорость вращения катушки, а $\beta = 4$ град. / мин² – угловое ускорение, с которым наматывается кабель. Определите время, прошедшее после начала работы лебёдки, если известно, что за это время угол намотки φ достиг 2500° . Ответ дайте в минутах.

17. Зависимость объёма спроса q (единиц в месяц) на продукцию предприятия-монополиста от цены p (тыс. руб.) задаётся формулой $q = 60 - 5p$. Выручка предприятия за месяц r (в тыс. руб.) вычисляется по формуле $r(p) = q \cdot p$. Определите наибольшую цену p , при которой месячная выручка $r(p)$ составит не менее 100 тыс. руб. Ответ приведите в тыс. руб.

18. Зависимость объёма спроса q (единиц в месяц) на продукцию предприятия-монополиста от цены p (тыс. руб.) задаётся формулой $q = 95 - 5p$. Выручка предприятия за месяц r (тыс. руб.) вычисляется по формуле $r(p) = q \cdot p$. Определите наибольшую цену p , при которой месячная выручка $r(p)$ составит не менее 170 тыс. руб. Ответ приведите в тыс. руб.

19. Зависимость объёма спроса q (единиц в месяц) на продукцию предприятия-монополиста от цены p (тыс. руб.) задаётся формулой $q = 65 - 5p$. Выручка предприятия за месяц r (тыс. руб.) вычисляется по формуле $r(p) = q \cdot p$. Определите наибольшую цену p , при которой месячная выручка $r(p)$ составит не менее 150 тыс. руб. Ответ приведите в тыс. руб.

20. Зависимость объёма спроса q (единиц в месяц) на продукцию предприятия-монополиста от цены p (тыс. руб.) задаётся формулой $q = 150 - 10p$. Выручка предприятия за месяц r (в тыс. руб.) вычисляется по формуле $r(p) = q \cdot p$. Определите наибольшую цену p , при которой месячная выручка $r(p)$ составит не менее 260 тыс. руб. Ответ приведите в тыс. руб.

21. Зависимость объёма спроса q (единиц в месяц) на продукцию предприятия-монополиста от цены p (тыс. руб.) задаётся формулой $q = 120 - 10p$. Выручка предприятия за месяц r (тыс. руб.) вычисляется по формуле $r(p) = q \cdot p$. Определите наибольшую цену p , при которой месячная выручка $r(p)$ составит не менее 320 тыс. руб. Ответ приведите в тыс. руб.

22. Зависимость объёма спроса q (единиц в месяц) на продукцию предприятия-монополиста от цены p (тыс. руб.) задаётся формулой $q = 190 - 10p$. Выручка предприятия за месяц r (в тыс. руб.) вычисляется по формуле $r(p) = q \cdot p$. Определите наибольшую цену p , при которой месячная выручка $r(p)$ составит не менее 780 тыс. руб. Ответ приведите в тыс. руб.

23. В боковой стенке высокого цилиндрического бака у самого дна закреплён кран. После его открытия вода начинает вытекать из бака, при этом высота столба воды в нём, выраженная в метрах, меняется по закону $H(t) = at^2 + bt + H_0$, где $H_0 = 7$ м – начальный уровень воды, $a = \frac{1}{700} \frac{\text{м}}{\text{мин}^2}$ и $b = -\frac{1}{5} \frac{\text{м}}{\text{мин}}$ – постоянные, t – время в минутах, прошедшее с момента открытия крана. В течение какого времени вода будет вытекать из бака? Ответ приведите в минутах.

24. В боковой стенке высокого цилиндрического бака у самого дна закреплён кран. После его открытия вода начинает вытекать из бака, при этом высота столба воды в нём, выраженная в метрах, меняется по закону $H(t) = at^2 + bt + H_0$, где $H_0 = 3$ м – начальный уровень воды, $a = \frac{1}{768} \frac{\text{м}}{\text{мин}^2}$ и $b = -\frac{1}{8} \frac{\text{м}}{\text{мин}}$ – постоянные, t – время в минутах, прошедшее с момента открытия крана. В течение какого времени вода будет вытекать из бака? Ответ приведите в минутах.

25. В боковой стенке высокого цилиндрического бака у самого дна закреплён кран. После его открытия вода начинает вытекать из бака, при этом высота столба воды в нём, выраженная в метрах, меняется по закону $H(t) = at^2 + bt + H_0$, где $H_0 = 4,5$ м – начальный уровень воды, $a = \frac{1}{98} \frac{\text{м}}{\text{мин}^2}$ и $b = -\frac{3}{7} \frac{\text{м}}{\text{мин}}$ – постоянные, t – время в минутах, прошедшее с момента открытия крана. В течение какого времени вода будет вытекать из бака? Ответ приведите в минутах.

26. В боковой стенке высокого цилиндрического бака у самого дна закреплён кран. После его открытия вода начинает вытекать из бака, при этом высота столба воды в нём, выраженная в метрах, меняется по закону $H(t) = at^2 + bt + H_0$, где $H_0 = 2,5$ м – начальный уровень воды, $a = \frac{1}{160} \frac{\text{м}}{\text{мин}^2}$ и $b = -\frac{1}{4} \frac{\text{м}}{\text{мин}}$ – постоянные, t – время в минутах, прошедшее с момента открытия крана. В течение какого времени вода будет вытекать из бака? Ответ приведите в минутах.

27. В боковой стенке высокого цилиндрического бака у самого дна закреплён кран. После его открытия вода начинает вытекать из бака, при этом высота столба воды в нём, выраженная в метрах, меняется по закону $H(t) = at^2 + bt + H_0$, где $H_0 = 4,5$ м – начальный уровень воды, $a = \frac{1}{32} \frac{\text{м}}{\text{мин}^2}$ и $b = -\frac{3}{4} \frac{\text{м}}{\text{мин}}$ – постоянные, t – время в минутах, прошедшее с момента открытия крана. В течение какого времени вода будет вытекать из бака? Ответ приведите в минутах.

28. В боковой стенке высокого цилиндрического бака у самого дна закреплён кран. После его открытия вода начинает вытекать из бака, при этом высота столба воды в нём, выраженная в метрах, меняется по закону $H(t) = at^2 + bt + H_0$, где $H_0 = 6,25$ м – начальный уровень воды, $a = \frac{1}{81} \frac{\text{м}}{\text{мин}^2}$ и $b = -\frac{5}{9} \frac{\text{м}}{\text{мин}}$ – постоянные, t – время в минутах, прошедшее с момента открытия крана. В течение какого времени вода будет вытекать из бака? Ответ приведите в минутах.

29. Зависимость температуры (в градусах Кельвина) от времени для нагревательного элемента некоторого прибора была получена экспериментально. На исследуемом интервале температура вычисляется по формуле $T(t) = T_0 + bt + at^2$, где t – время в минутах, $T_0 = 1380$ К, $a = -15$ К/мин², $b = 165$ К/мин. Известно, что при температуре нагревателя свыше 1800 К прибор может испортиться, поэтому его нужно отключить. Определите, через какое наибольшее время после начала работы нужно отключить прибор. Ответ выразите в минутах.

30. Для нагревательного элемента некоторого прибора экспериментально была получена зависимость температуры (в К) от времени работы: $T(t) = T_0 + bt + at^2$, где t – время (в мин.), $T_0 = 680$ К, $a = -16$ К/мин², $b = 224$ К/мин. Известно, что при температуре нагревательного элемента свыше 1400 К прибор может испортиться, поэтому его нужно отключить. Найдите, через какое наибольшее время после начала работы нужно отключить прибор. Ответ дайте в минутах.

31. Зависимость температуры (в градусах Кельвина) от времени для нагревательного элемента некоторого прибора была получена экспериментально. На исследуемом интервале температура вычисляется по формуле $T(t) = T_0 + bt + at^2$, где t – время в минутах, $T_0 = 1320$ К, $a = -20$ К/мин², $b = 200$ К/мин. Известно, что при температуре нагревателя свыше 1800 К прибор может испортиться, поэтому его нужно отключить. Определите, через какое наибольшее время после начала работы нужно отключить прибор. Ответ выразите в минутах.

32. Для нагревательного элемента некоторого прибора экспериментально была получена зависимость температуры (в К) от времени работы: $T(t) = T_0 + bt + at^2$, где t – время (в мин.), $T_0 = 1450$ К, $a = -30$ К/мин², $b = 180$ К/мин. Известно, что при температуре нагревательного элемента свыше 1600 К прибор может испортиться, поэтому его нужно отключить. Найдите, через какое наибольшее время после начала работы нужно отключить прибор. Ответ дайте в минутах.

33. Для нагревательного элемента некоторого прибора экспериментально была получена зависимость температуры (в К) от времени работы: $T(t) = T_0 + bt + at^2$, где t – время (в мин.), $T_0 = 1600$ К, $a = -5$ К/мин², $b = 105$ К/мин. Известно, что при температуре нагревательного элемента свыше 1870 К прибор может испортиться, поэтому его нужно отключить. Найдите, через какое наибольшее время после начала работы нужно отключить прибор. Ответ дайте в минутах.

34. Зависимость температуры (в градусах Кельвина) от времени для нагревательного элемента некоторого прибора была получена экспериментально. На исследуемом интервале температура вычисляется по формуле $T(t) = T_0 + bt + at^2$, где t – время в минутах, $T_0 = 1300$ К, $a = -\frac{14}{3}$ К/мин², $b = 98$ К/мин. Известно, что при температуре нагревателя свыше 1720 К прибор может испортиться, поэтому его нужно отключить. Определите, через какое наибольшее время после начала работы нужно отключить прибор. Ответ выразите в минутах.

35. Высота над землёй подброшенного вверх мяча меняется по закону $h(t) = 2 + 11t - 5t^2$, где h – высота в метрах, t – время в секундах, прошедшее с момента броска. Сколько секунд мяч будет находиться на высоте не менее 4 метров?

36. Высота над землёй подброшенного вверх мяча меняется по закону $h(t) = 2 + 13t - 5t^2$, где h – высота в метрах, t – время в секундах, прошедшее с момента броска. Сколько секунд мяч будет находиться на высоте не менее 8 метров?

37. Высота над землёй подброшенного вверх мяча меняется по закону $h(t) = 1,2 + 10t - 5t^2$, где h – высота в метрах, t – время в секундах, прошедшее с момента броска. Сколько секунд мяч будет находиться на высоте не менее 6 метров?

38. Высота над землёй подброшенного вверх мяча меняется по закону $h(t) = 1,4 + 9t - 5t^2$, где h – высота в метрах, t – время в секундах, прошедшее с момента броска. Сколько секунд мяч будет находиться на высоте не менее 3 метров?

39. Высота над землёй подброшенного вверх мяча меняется по закону $h(t) = 1,6 + 7t - 5t^2$, где h – высота в метрах, t – время в секундах, прошедшее с момента броска. Сколько секунд мяч будет находиться на высоте не менее 4 метров?

40. Высота над землёй подброшенного вверх мяча меняется по закону $h(t) = 1,6 + 13t - 5t^2$, где h – высота в метрах, t – время в секундах, прошедшее с момента броска. Сколько секунд мяч будет находиться на высоте не менее 6 метров?

41. Для получения на экране увеличенного изображения лампочки в лаборатории используется собирающая линза с главным фокусным расстоянием $f = 36$ см. Расстояние d_1 от линзы до лампочки может изменяться в пределах от 30 см до 50 см, а расстояние d_2 от линзы до экрана – в пределах от 160 до 180 см. Изображение на экране будет чётким, если выполнено соотношение $\frac{1}{d_1} + \frac{1}{d_2} = \frac{1}{f}$. Укажите, на каком наименьшем расстоянии от линзы нужно поместить лампочку, чтобы её изображение на экране было чётким. Ответ выразите в сантиметрах.

42. Для получения на экране увеличенного изображения лампочки в лаборатории используется собирающая линза с главным фокусным расстоянием $f = 20$ см. Расстояние d_1 от линзы до лампочки может изменяться в пределах от 15 см до 40 см, а расстояние d_2 от линзы до экрана – в пределах от 100 до 120 см. Изображение на экране будет чётким, если выполнено соотношение $\frac{1}{d_1} + \frac{1}{d_2} = \frac{1}{f}$. Укажите, на каком наименьшем расстоянии от линзы нужно поместить лампочку, чтобы её изображение на экране было чётким. Ответ выразите в сантиметрах.

43. Для получения на экране увеличенного изображения лампочки в лаборатории используется собирающая линза с фокусным расстоянием $f = 45$ см. Расстояние d_1 от линзы до лампочки может изменяться в пределах от 50 см до 70 см, а расстояние d_2 от линзы до экрана – в пределах от 200 см до 270 см. Изображение на экране будет чётким, если выполнено соотношение $\frac{1}{d_1} + \frac{1}{d_2} = \frac{1}{f}$. На каком наименьшем расстоянии от линзы нужно поместить лампочку, чтобы её изображение на экране было чётким? Ответ дайте в сантиметрах.

44. Для получения на экране увеличенного изображения лампочки в лаборатории используется собирающая линза с фокусным расстоянием $f = 56$ см. Расстояние d_1 от линзы до лампочки может изменяться в пределах от 90 см до 110 см, а расстояние d_2 от линзы до экрана – в пределах от 100 см до 120 см. Изображение на экране будет чётким, если выполнено соотношение $\frac{1}{d_1} + \frac{1}{d_2} = \frac{1}{f}$. На каком наименьшем расстоянии от линзы нужно поместить лампочку, чтобы её изображение на экране было чётким? Ответ дайте в сантиметрах.

45. Независимое агентство намерено ввести рейтинг R новостных изданий на основе показателей информативности I_n , оперативности O_p и объективности T_r публикаций. Каждый отдельный показатель – целое число от 0 до 3. Составители рейтинга считают, что информативность публикаций ценится втрое, а объективность – вчетверо дороже, чем оперативность, то есть $R = \frac{3I_n + O_p + 4T_r}{A}$. Найдите, каким должно быть число A , чтобы издание, у которого все показатели максимальны, получило рейтинг 30.

46. Независимое агентство намерено ввести рейтинг R новостных изданий на основе показателей информативности I_n , оперативности O_p и объективности T_r публикаций. Каждый показатель оценивается целыми числами от 1 до 6. Аналитик, составляющий формулу, считает, что объективность публикаций ценится втрое, а информативность – вчетверо дороже, чем оперативность. В результате, формула примет вид $R = \frac{4I_n + O_p + 2T_r}{A}$. Каким должно быть число A , чтобы издание, у которого все показатели наибольшие, получило рейтинг 20?

47. Независимое агентство намерено ввести рейтинг R новостных изданий на основе показателей информативности I_n , оперативности O_p и объективности T_r публикаций. Каждый показатель оценивается целыми числами от 0 до 9. Аналитик, составляющий формулу, считает, что объективность публикаций ценится втрое, а информативность – вдвое дороже, чем оперативность. В результате, формула примет вид $R = \frac{2I_n + O_p + 3T_r}{A}$. Каким должно быть число A , чтобы издание, у которого все показатели наибольшие, получило рейтинг 10?

48. Независимое агентство намерено ввести рейтинг R новостных изданий на основе показателей информативности I_n , оперативности O_p и объективности T_r публикаций. Каждый показатель оценивается целыми числами от -1 до 1 . Аналитик, составляющий формулу, считает, что объективность публикаций ценится втрое, а информативность – вчетверо дороже, чем оперативность. В результате, формула примет вид

$$R = \frac{4I_n + O_p + 3T_r}{A}.$$

Каким должно быть число A , чтобы издание, у которого все показатели наибольшие, получило рейтинг 80 ?

49. Независимое агентство намерено ввести рейтинг R новостных интернет-изданий на основе показателей информативности I_n , оперативности O_p , объективности T_r публикаций, а также качества Q сайта. Каждый отдельный показатель – целое число от 1 до 5 . Составители рейтинга считают, что объективность ценится вдвое, а информативность публикаций – вчетверо дороже, чем оперативность и качество сайта, то есть

$$R = \frac{4I_n + O_p + 2T_r + Q}{A}.$$

Найдите, каким должно быть число A , чтобы издание, у которого все показатели максимальны, получило рейтинг 8 .

50. Независимое агентство намерено ввести рейтинг R новостных интернет-изданий на основе показателей информативности I_n , оперативности O_p , объективности T_r публикаций, а также качества Q сайта. Каждый отдельный показатель – целое число от -2 до 2 . Составители рейтинга считают, что объективность ценится вчетверо, а информативность публикаций – вдвое дороже, чем оперативность и качество сайта, то есть

$$R = \frac{2I_n + O_p + 4T_r + Q}{A}.$$

Найдите, каким должно быть число A , чтобы издание, у которого все показатели максимальны, получило рейтинг 2 .

51. К источнику с ЭДС $\varepsilon = 180$ В и внутренним сопротивлением $r = 1$ Ом хотят подключить нагрузку с сопротивлением R (в Ом). Напряжение (в В) на этой нагрузке вычисляется по формуле $U = \frac{\varepsilon R}{R+r}$. При каком значении сопротивления нагрузки напряжение на ней будет равно 170 В? Ответ дайте в омах.

52. К источнику с ЭДС $\varepsilon = 115$ В и внутренним сопротивлением $r = 0,6$ Ом хотят подключить нагрузку с сопротивлением R (в Ом). Напряжение (в В) на этой нагрузке вычисляется по формуле $U = \frac{\varepsilon R}{R+r}$. При каком значении сопротивления нагрузки напряжение на ней будет равно 100 В? Ответ дайте в омах.*

53. К источнику с ЭДС $\varepsilon = 140$ В и внутренним сопротивлением $r = 0,9$ Ом хотят подключить нагрузку с сопротивлением R (в Ом). Напряжение (в В) на этой нагрузке вычисляется по формуле $U = \frac{\varepsilon R}{R+r}$. При каком значении сопротивления нагрузки напряжение на ней будет равно 110 В? Ответ дайте в омах.*

54. К источнику с ЭДС $\varepsilon = 135$ В и внутренним сопротивлением $r = 0,3$ Ом хотят подключить нагрузку с сопротивлением R (в Ом). Напряжение (в В) на этой нагрузке вычисляется по формуле $U = \frac{\varepsilon R}{R+r}$. При каком значении сопротивления нагрузки напряжение на ней будет равно 120 В? Ответ дайте в омах.*

55. Сила тока в цепи I (в А) определяется напряжением в цепи и сопротивлением электроприбора по закону Ома: $I = \frac{U}{R}$, где U – напряжение (в В), R – сопротивление электроприбора (в Ом). В электросеть включён предохранитель, который плавится, если сила тока превышает 5 А. Определите, какое наименьшее сопротивление может быть у электроприбора, подключаемого к сети в 220 В, чтобы сеть продолжала работать. Ответ дайте в омах.

56. Сила тока в цепи I (в А) определяется напряжением в цепи и сопротивлением электроприбора по закону Ома: $I = \frac{U}{R}$, где U – напряжение (в В), R – сопротивление электроприбора (в Ом). В электросеть включён предохранитель, который плавится, если сила тока превышает 8 А. Определите, какое наименьшее сопротивление может быть у электроприбора, подключаемого к сети в 220 В, чтобы сеть продолжала работать. Ответ дайте в омах.

57. Сила тока в цепи I (в А) определяется напряжением в цепи и сопротивлением электроприбора по закону Ома: $I = \frac{U}{R}$, где U – напряжение (в В), R – сопротивление электроприбора (в Ом). В электросеть включён предохранитель, который плавится, если сила тока превышает 2,5 А. Определите, какое наименьшее сопротивление может быть у электроприбора, подключаемого к сети в 220 В, чтобы сеть продолжала работать. Ответ дайте в омах.

58. Сила тока в цепи I (в А) определяется напряжением в цепи и сопротивлением электроприбора по закону Ома: $I = \frac{U}{R}$, где U – напряжение (в В), R – сопротивление электроприбора (в Ом). В электросеть включён предохранитель, который плавится, если сила тока превышает 27,5 А. Определите, какое наименьшее сопротивление может быть у электроприбора, подключаемого к сети в 220 В, чтобы сеть продолжала работать. Ответ дайте в омах.

59. В розетку электросети подключена электрическая духовка, сопротивление которой составляет $R_1 = 36$ Ом. Параллельно с ней в розетку предполагается подключить электрообогреватель, сопротивление которого R_2 (в Ом). При параллельном соединении двух электроприборов с сопротивлениями R_1 и R_2 их общее сопротивление вычисляется по формуле $R_{\text{общ}} = \frac{R_1 R_2}{R_1 + R_2}$. Для нормального функционирования электросети общее сопротивление в ней должно быть не меньше 20 Ом. Определите наименьшее возможное сопротивление R_2 электрообогревателя. Ответ дайте в омах.

60. В розетку электросети подключена электрическая духовка, сопротивление которой составляет $R_1 = 60$ Ом. Параллельно с ней в розетку предполагается подключить электрообогреватель, сопротивление которого R_2 (в Ом). При параллельном соединении двух электроприборов с сопротивлениями R_1 и R_2 их общее сопротивление вычисляется по формуле $R_{\text{общ}} = \frac{R_1 R_2}{R_1 + R_2}$. Для нормального функционирования электросети общее сопротивление в ней должно быть не меньше 10 Ом. Определите наименьшее возможное сопротивление R_2 электрообогревателя. Ответ дайте в омах.

61. В розетку электросети подключена электрическая духовка, сопротивление которой составляет $R_1 = 72$ Ом. Параллельно с ней в розетку предполагается подключить электрообогреватель, сопротивление которого R_2 (в Ом). При параллельном соединении двух электроприборов с сопротивлениями R_1 и R_2 их общее сопротивление вычисляется по формуле $R_{\text{общ}} = \frac{R_1 R_2}{R_1 + R_2}$. Для нормального функционирования электросети общее сопротивление в ней должно быть не меньше 8 Ом. Определите наименьшее возможное сопротивление R_2 электрообогревателя. Ответ дайте в омах.

62. В розетку электросети подключена электрическая духовка, сопротивление которой составляет $R_1 = 112$ Ом. Параллельно с ней в розетку предполагается подключить электрообогреватель, сопротивление которого R_2 (в Ом). При параллельном соединении двух электроприборов с сопротивлениями R_1 и R_2 их общее сопротивление вычисляется по формуле $R_{\text{общ}} = \frac{R_1 R_2}{R_1 + R_2}$. Для нормального функционирования электросети общее сопротивление в ней должно быть не меньше 48 Ом. Определите наименьшее возможное сопротивление R_2 электрообогревателя. Ответ дайте в омах.

63. При сближении источника и приёмника звуковых сигналов, движущихся в некоторой среде по прямой навстречу друг другу со скоростями u и v (в м/с) соответственно, частота звукового сигнала f (в Гц), регистрируемого приёмником, вычисляется по формуле $f = f_0 \cdot \frac{c+u}{c-v}$, где $f_0 = 110$ Гц – частота исходного сигнала, c – скорость распространения сигнала в среде (в м/с), а $u = 8$ м/с и $v = 11$ м/с – скорости источника и приёмника относительно среды. При какой скорости распространения сигнала в среде частота сигнала в приёмнике будет равна 115 Гц? Ответ дайте в м/с.

64. При сближении источника и приёмника звуковых сигналов, движущихся в некоторой среде по прямой навстречу друг другу со скоростями u и v (в м/с) соответственно, частота звукового сигнала f (в Гц), регистрируемого приёмником, вычисляется по формуле $f = f_0 \cdot \frac{c+u}{c-v}$, где $f_0 = 140$ Гц – частота исходного сигнала, c – скорость распространения сигнала в среде (в м/с), а $u = 15$ м/с и $v = 14$ м/с – скорости источника и приёмника относительно среды. При какой скорости распространения сигнала в среде частота сигнала в приёмнике будет равна 150 Гц? Ответ дайте в м/с.

65. При сближении источника и приёмника звуковых сигналов, движущихся в некоторой среде по прямой навстречу друг другу со скоростями u и v (в м/с) соответственно, частота звукового сигнала f (в Гц), регистрируемого приёмником, вычисляется по формуле $f = f_0 \cdot \frac{c+u}{c-v}$, где $f_0 = 170$ Гц – частота исходного сигнала, c – скорость распространения сигнала в среде (в м/с), а $u = 2$ м/с и $v = 17$ м/с – скорости приёмника и источника относительно среды. При какой скорости распространения сигнала в среде частота сигнала в приёмнике будет равна 180 Гц? Ответ дайте в м/с.

66. При сближении источника и приёмника звуковых сигналов, движущихся в некоторой среде по прямой навстречу друг другу со скоростями u и v (в м/с) соответственно, частота звукового сигнала f (в Гц), регистрируемого приёмником, вычисляется по формуле $f = f_0 \cdot \frac{c+u}{c-v}$, где $f_0 = 120$ Гц – частота исходного сигнала, c – скорость распространения сигнала в среде (в м/с), а $u = 5$ м/с и $v = 8$ м/с – скорости источника и приёмника относительно среды. При какой скорости распространения сигнала в среде частота сигнала в приёмнике будет равна 130 Гц? Ответ дайте в м/с.

67. При сближении источника и приёмника звуковых сигналов, движущихся в некоторой среде по прямой навстречу друг другу, частота звукового сигнала, регистрируемого приёмником, не совпадает с частотой исходного сигнала $f_0 = 140$ Гц и определяется следующим выражением: $f = f_0 \cdot \frac{c+u}{c-v}$ (Гц), где c – скорость распространения сигнала в

среде (в м/с), а $u = 9$ м/с и $v = 7$ м/с – скорости приёмника и источника относительно среды соответственно. При какой максимальной скорости c (в м/с) распространения сигнала в среде частота сигнала в приёмнике f будет не менее 145 Гц?

68. При сближении источника и приёмника звуковых сигналов, движущихся в некоторой среде по прямой навстречу друг другу, частота звукового сигнала, регистрируемого приёмником, не совпадает с частотой исходного сигнала $f_0 = 130$ Гц и определяется следующим выражением: $f = f_0 \cdot \frac{c+u}{c-v}$ (Гц), где c – скорость распространения сигнала в

среде (в м/с), а $u = 6$ м/с и $v = 13$ м/с – скорости приёмника и источника относительно среды соответственно. При какой максимальной скорости c (в м/с) распространения сигнала в среде частота сигнала в приёмнике f будет не менее 140 Гц?

69. Локатор батискафа, равномерно погружающегося вертикально вниз, испускает ультразвуковые импульсы частотой 247 МГц. Скорость погружения батискафа, выражаемая в м/с, определяется по формуле $v = c \cdot \frac{f - f_0}{f + f_0}$, где $c = 1500$ м/с – скорость звука в

воде, f_0 – частота испускаемых импульсов (в МГц), f – частота отражённого от дна сигнала, регистрируемая приёмником (в МГц). Определите наибольшую возможную частоту отражённого сигнала f , если скорость погружения батискафа не должна превышать 18 м/с. Ответ дайте в МГц.

70. Локатор батискафа, равномерно погружающегося вертикально вниз, испускает ультразвуковые импульсы частотой 370 МГц. Скорость погружения батискафа, выражаемая в м/с, определяется по формуле $v = c \cdot \frac{f - f_0}{f + f_0}$, где $c = 1500$ м/с – скорость звука в

воде, f_0 – частота испускаемых импульсов (в МГц), f – частота отражённого от дна сигнала, регистрируемая приёмником (в МГц). Определите наибольшую возможную частоту отражённого сигнала f , если скорость погружения батискафа не должна превышать 20 м/с. Ответ дайте в МГц.

71. Локатор батискафа, равномерно погружающегося вертикально вниз, испускает ультразвуковые импульсы частотой 598 МГц. Скорость погружения батискафа, выражаемая в м/с, определяется по формуле $v = c \cdot \frac{f - f_0}{f + f_0}$, где $c = 1500$ м/с – скорость звука в

воде, f_0 – частота испускаемых импульсов (в МГц), f – частота отражённого от дна сигнала, регистрируемая приёмником (в МГц). Определите наибольшую возможную частоту отражённого сигнала f , если скорость погружения батискафа не должна превышать 5 м/с. Ответ дайте в МГц.

72. Локатор батискафа, равномерно погружающегося вертикально вниз, испускает ультразвуковые импульсы частотой 747 МГц. Скорость погружения батискафа, выражаемая в м/с, определяется по формуле $v = c \cdot \frac{f - f_0}{f + f_0}$, где $c = 1500$ м/с – скорость звука в

воде, f_0 – частота испускаемых импульсов (в МГц), f – частота отражённого от дна сигнала, регистрируемая приёмником (в МГц). Определите наибольшую возможную частоту отражённого сигнала f , если скорость погружения батискафа не должна превышать 6 м/с. Ответ дайте в МГц.

73. Локатор батискафа, равномерно погружающегося вертикально вниз, испускает ультразвуковые импульсы частотой 198 МГц. Скорость погружения батискафа, выражаемая в м/с, определяется по формуле $v = c \cdot \frac{f - f_0}{f + f_0}$, где $c = 1500$ м/с – скорость звука в воде, f_0 – частота испускаемых импульсов (в МГц), f – частота отражённого от дна сигнала, регистрируемая приёмником (в МГц). Определите наибольшую возможную частоту отражённого сигнала f , если скорость погружения батискафа не должна превышать 15 м/с. Ответ дайте в МГц.

74. Локатор батискафа, равномерно погружающегося вертикально вниз, испускает ультразвуковые импульсы частотой 713 МГц. Скорость погружения батискафа, выражаемая в м/с, определяется по формуле $v = c \cdot \frac{f - f_0}{f + f_0}$, где $c = 1500$ м/с – скорость звука в воде, f_0 – частота испускаемых импульсов (в МГц), f – частота отражённого от дна сигнала, регистрируемая приёмником (в МГц). Определите наибольшую возможную частоту отражённого сигнала f , если скорость погружения батискафа не должна превышать 12 м/с. Ответ дайте в МГц.

75. Перед отправкой тепловоз издал гудок с частотой $f_0 = 154$ Гц. Чуть позже гудок издал подъезжающий к платформе тепловоз. Из-за эффекта Доплера частота второго гудка f (в Гц) больше первого: она зависит от скорости тепловоза v (в м/с) по закону $f(v) = \frac{f_0}{1 - \frac{v}{c}}$ (Гц), где c – скорость звука (в м/с). Человек, стоящий на платформе, различает

сигналы по тону, если они отличаются не менее чем на 6 Гц. Определите, с какой минимальной скоростью приближался к платформе тепловоз, если человек смог различить сигналы, а $c = 320$ м/с. Ответ дайте в м/с.

76. Перед отправкой тепловоз издал гудок с частотой $f_0 = 308$ Гц. Чуть позже гудок издал подъезжающий к платформе тепловоз. Из-за эффекта Доплера частота второго гудка f (в Гц) больше первого: она зависит от скорости тепловоза v (в м/с) по закону $f(v) = \frac{f_0}{1 - \frac{v}{c}}$ (Гц), где c – скорость звука (в м/с). Человек, стоящий на платформе, различает

сигналы по тону, если они отличаются не менее чем на 7 Гц. Определите, с какой минимальной скоростью приближался к платформе тепловоз, если человек смог различить сигналы, а $c = 315$ м/с. Ответ дайте в м/с.

77. Перед отправкой тепловоз издал гудок с частотой $f_0 = 370$ Гц. Чуть позже гудок издал подъезжающий к платформе тепловоз. Из-за эффекта Доплера частота второго гудка f (в Гц) больше первого: она зависит от скорости тепловоза v (в м/с) по закону $f(v) = \frac{f_0}{1 - \frac{v}{c}}$ (Гц), где c – скорость звука (в м/с). Человек, стоящий на платформе, различает

сигналы по тону, если они отличаются не менее чем на 5 Гц. Определите, с какой минимальной скоростью приближался к платформе тепловоз, если человек смог различить сигналы, а $c = 300$ м/с. Ответ дайте в м/с.

- 78.** Перед отправкой тепловоз издал гудок с частотой $f_0 = 192$ Гц. Чуть позже гудок издал подъезжающий к платформе тепловоз. Из-за эффекта Доплера частота второго гудка f (в Гц) больше первого: она зависит от скорости тепловоза v (в м/с) по закону $f(v) = \frac{f_0}{1 - \frac{v}{c}}$ (Гц), где c – скорость звука (в м/с). Человек, стоящий на платформе, различает сигналы по тону, если они отличаются не менее чем на 8 Гц. Определите, с какой минимальной скоростью приближался к платформе тепловоз, если человек смог различить сигналы, а $c = 300$ м/с. Ответ дайте в м/с.
- 79.** Автомобиль разгоняется на прямолинейном участке шоссе с постоянным ускорением $a = 3000$ км/ч². Скорость v (в км/ч) вычисляется по формуле $v = \sqrt{2la}$, где l – пройденный автомобилем путь (в км). Найдите, сколько километров проедет автомобиль к моменту, когда он разгонится до скорости 60 км/ч.
- 80.** Автомобиль разгоняется на прямолинейном участке шоссе с постоянным ускорением $a = 9000$ км/ч². Скорость v (в км/ч) вычисляется по формуле $v = \sqrt{2la}$, где l – пройденный автомобилем путь (в км). Найдите, сколько километров проедет автомобиль к моменту, когда он разгонится до скорости 120 км/ч.
- 81.** Автомобиль разгоняется на прямолинейном участке шоссе с постоянным ускорением $a = 2450$ км/ч². Скорость v (в км/ч) вычисляется по формуле $v = \sqrt{2la}$, где l – пройденный автомобилем путь (в км). Найдите, сколько километров проедет автомобиль к моменту, когда он разгонится до скорости 70 км/ч.
- 82.** Автомобиль разгоняется на прямолинейном участке шоссе с постоянным ускорением $a = 6750$ км/ч². Скорость v (в км/ч) вычисляется по формуле $v = \sqrt{2la}$, где l – пройденный автомобилем путь (в км). Найдите, сколько километров проедет автомобиль к моменту, когда он разгонится до скорости 90 км/ч.
- 83.** Автомобиль разгоняется на прямолинейном участке шоссе с постоянным ускорением a (в км/ч²). Скорость v (в км/ч) вычисляется по формуле $v = \sqrt{2la}$, где l – пройденный автомобилем путь (в км). Найдите ускорение, с которым должен двигаться автомобиль, чтобы, проехав 0,4 км, приобрести скорость 80 км/ч. Ответ дайте в км/ч².
- 84.** Автомобиль разгоняется на прямолинейном участке шоссе с постоянным ускорением a (в км/ч²). Скорость v (в км/ч) вычисляется по формуле $v = \sqrt{2la}$, где l – пройденный автомобилем путь (в км). Найдите ускорение, с которым должен двигаться автомобиль, чтобы, проехав 1,1 км, приобрести скорость 110 км/ч. Ответ дайте в км/ч².
- 85.** Автомобиль разгоняется на прямолинейном участке шоссе с постоянным ускорением a (в км/ч²). Скорость v (в км/ч) вычисляется по формуле $v = \sqrt{2la}$, где l – пройденный автомобилем путь (в км). Найдите ускорение, с которым должен двигаться автомобиль, чтобы, проехав 0,8 км, приобрести скорость 100 км/ч. Ответ дайте в км/ч².*
- 86.** Автомобиль разгоняется на прямолинейном участке шоссе с постоянным ускорением a (в км/ч²). Скорость v (в км/ч) вычисляется по формуле $v = \sqrt{2la}$, где l – пройденный автомобилем путь (в км). Найдите ускорение, с которым должен двигаться автомобиль, чтобы, проехав 0,9 км, приобрести скорость 90 км/ч. Ответ дайте в км/ч².
- 87.** Наблюдатель находится на высоте h (в км). Расстояние l (в км) от наблюдателя до наблюдаемой им линии горизонта вычисляется по формуле $l = \sqrt{2Rh}$, где $R = 6400$ км – радиус Земли. На какой высоте находится наблюдатель, если он видит линию горизонта на расстоянии 64 км? Ответ дайте в км.

88. Наблюдатель находится на высоте h (в км). Расстояние l (в км) от наблюдателя до наблюдаемой им линии горизонта вычисляется по формуле $l = \sqrt{2Rh}$, где $R = 6400$ км – радиус Земли. На какой высоте находится наблюдатель, если он видит линию горизонта на расстоянии 48 км? Ответ дайте в км.

89. Наблюдатель находится на высоте h (в км). Расстояние l (в км) от наблюдателя до наблюдаемой им линии горизонта вычисляется по формуле $l = \sqrt{2Rh}$, где $R = 6400$ км – радиус Земли. На какой высоте находится наблюдатель, если он видит линию горизонта на расстоянии 96 км? Ответ дайте в км.

90. Наблюдатель находится на высоте h (в км). Расстояние l (в км) от наблюдателя до наблюдаемой им линии горизонта вычисляется по формуле $l = \sqrt{2Rh}$, где $R = 6400$ км – радиус Земли. На какой высоте находится наблюдатель, если он видит линию горизонта на расстоянии 112 км? Ответ дайте в км.

91. Наблюдатель находится на высоте h , выраженной в метрах. Расстояние от наблюдателя до наблюдаемой им линии горизонта, выраженное в километрах, вычисляется по формуле $l = \sqrt{\frac{Rh}{500}}$, где $R = 6400$ км – радиус Земли. На какой высоте находится наблюдатель, если он видит линию горизонта на расстоянии 4,8 километра? Ответ дайте в метрах.

92. Наблюдатель находится на высоте h , выраженной в метрах. Расстояние от наблюдателя до наблюдаемой им линии горизонта, выраженное в километрах, вычисляется по формуле $l = \sqrt{\frac{Rh}{500}}$, где $R = 6400$ км – радиус Земли. На какой высоте находится наблюдатель, если он видит линию горизонта на расстоянии 6,4 километра? Ответ дайте в метрах.

93. Наблюдатель находится на высоте h , выраженной в метрах. Расстояние от наблюдателя до наблюдаемой им линии горизонта, выраженное в километрах, вычисляется по формуле $l = \sqrt{\frac{Rh}{500}}$, где $R = 6400$ км – радиус Земли. На какой высоте находится наблюдатель, если он видит линию горизонта на расстоянии 72 километра? Ответ дайте в метрах.

94. Наблюдатель находится на высоте h , выраженной в метрах. Расстояние от наблюдателя до наблюдаемой им линии горизонта, выраженное в километрах, вычисляется по формуле $l = \sqrt{\frac{Rh}{500}}$, где $R = 6400$ км – радиус Земли. На какой высоте находится наблюдатель, если он видит линию горизонта на расстоянии 176 километра? Ответ дайте в метрах.

95. Для определения эффективной температуры звёзд используют закон Стефана–Больцмана, согласно которому мощность излучения P (в ваттах) нагретого тела прямо пропорциональна площади его поверхности и четвёртой степени температуры: $P = \sigma ST^4$, где $\sigma = 5,7 \cdot 10^{-8} \frac{\text{Вт}}{\text{м}^2 \cdot \text{К}^4}$ – постоянная, площадь поверхности S измеряется в квадратных метрах, а температура T – в градусах Кельвина. Известно, что некоторая звезда имеет площадь поверхности $S = \frac{1}{25} \cdot 10^{20} \text{ м}^2$, а излучаемая ею мощность P равна $1,425 \cdot 10^{26} \text{ Вт}$. Определите температуру этой звезды. Дайте ответ в градусах Кельвина.

96. Для определения эффективной температуры звёзд используют закон Стефана–Больцмана, согласно которому мощность излучения P (в ваттах) нагретого тела прямо пропорциональна площади его поверхности и четвёртой степени температуры: $P = \sigma ST^4$, где $\sigma = 5,7 \cdot 10^{-8} \frac{\text{Вт}}{\text{м}^2 \cdot \text{К}^4}$ – постоянная, площадь поверхности S измеряется в квадратных метрах, а температура T – в градусах Кельвина. Известно, что некоторая звезда имеет площадь поверхности $S = \frac{1}{18} \cdot 10^{21} \text{ м}^2$, а излучаемая ею мощность P равна $4,104 \cdot 10^{27} \text{ Вт}$. Определите температуру этой звезды. Дайте ответ в градусах Кельвина.

97. Для определения эффективной температуры звёзд используют закон Стефана–Больцмана, согласно которому мощность излучения P (в ваттах) нагретого тела прямо пропорциональна площади его поверхности и четвёртой степени температуры: $P = \sigma ST^4$, где $\sigma = 5,7 \cdot 10^{-8} \frac{\text{Вт}}{\text{м}^2 \cdot \text{К}^4}$ – постоянная, площадь поверхности S измеряется в квадратных метрах, а температура T – в градусах Кельвина. Известно, что некоторая звезда имеет площадь поверхности $S = \frac{1}{16} \cdot 10^{20} \text{ м}^2$, а излучаемая ею мощность P равна $9,12 \cdot 10^{25} \text{ Вт}$. Определите температуру этой звезды. Дайте ответ в градусах Кельвина.

98. Для определения эффективной температуры звёзд используют закон Стефана–Больцмана, согласно которому мощность излучения P (в ваттах) нагретого тела прямо пропорциональна площади его поверхности и четвёртой степени температуры: $P = \sigma ST^4$, где $\sigma = 5,7 \cdot 10^{-8} \frac{\text{Вт}}{\text{м}^2 \cdot \text{К}^4}$ – постоянная, площадь поверхности S измеряется в квадратных метрах, а температура T – в градусах Кельвина. Известно, что некоторая звезда имеет площадь поверхности $S = \frac{1}{162} \cdot 10^{21} \text{ м}^2$, а излучаемая ею мощность P равна $4,56 \cdot 10^{26} \text{ Вт}$. Определите температуру этой звезды. Дайте ответ в градусах Кельвина.*

99. Для определения эффективной температуры звёзд используют закон Стефана–Больцмана, согласно которому мощность излучения P (в ваттах) нагретого тела прямо пропорциональна площади его поверхности и четвёртой степени температуры: $P = \sigma ST^4$, где $\sigma = 5,7 \cdot 10^{-8} \frac{\text{Вт}}{\text{м}^2 \cdot \text{К}^4}$ – постоянная, площадь поверхности S измеряется в квадратных метрах, а температура T – в градусах Кельвина. Известно, что некоторая звезда имеет площадь поверхности $S = \frac{1}{64} \cdot 10^{21} \text{ м}^2$, а излучаемая ею мощность P равна $2,28 \cdot 10^{26} \text{ Вт}$. Определите температуру этой звезды. Дайте ответ в градусах Кельвина.*

100. Для определения эффективной температуры звёзд используют закон Стефана–Больцмана, согласно которому мощность излучения P (в ваттах) нагретого тела прямо пропорциональна площади его поверхности и четвёртой степени температуры: $P = \sigma ST^4$, где $\sigma = 5,7 \cdot 10^{-8} \frac{\text{Вт}}{\text{м}^2 \cdot \text{К}^4}$ – постоянная, площадь поверхности S измеряется в квадратных метрах, а температура T – в градусах Кельвина. Известно, что некоторая звезда имеет площадь поверхности $S = \frac{1}{128} \cdot 10^{20} \text{ м}^2$, а излучаемая ею мощность P равна $1,14 \cdot 10^{25} \text{ Вт}$. Определите температуру этой звезды. Дайте ответ в градусах Кельвина.

101. В ходе распада радиоактивного изотопа его масса уменьшается по закону $m(t) = m_0 \cdot 2^{-\frac{t}{T}}$, где m_0 (мг) – начальная масса изотопа, t (мин.) – время, прошедшее от начального момента, T (мин.) – период полураспада. В начальный момент времени масса изотопа $m_0 = 16$ мг. Период его полураспада $T = 7$ мин. Через сколько минут масса изотопа будет равна 1 мг?

102. В ходе распада радиоактивного изотопа его масса уменьшается по закону $m(t) = m_0 \cdot 2^{-\frac{t}{T}}$, где m_0 (мг) – начальная масса изотопа, t (мин.) – время, прошедшее от начального момента, T (мин.) – период полураспада. В начальный момент времени масса изотопа $m_0 = 160$ мг. Период его полураспада $T = 8$ мин. Через сколько минут масса изотопа будет равна 5 мг?

103. В ходе распада радиоактивного изотопа его масса m (в мг) уменьшается по закону $m(t) = m_0 \cdot 2^{-\frac{t}{T}}$, где m_0 – начальная масса изотопа (в мг), t – время, прошедшее от начального момента, в минутах, T – период полураспада в минутах. В начальный момент времени масса изотопа 176 мг. Период его полураспада составляет 3 минут. Найдите, через сколько минут масса изотопа будет равна 11 мг.

104. В ходе распада радиоактивного изотопа его масса m (в мг) уменьшается по закону $m(t) = m_0 \cdot 2^{-\frac{t}{T}}$, где m_0 – начальная масса изотопа (в мг), t – время, прошедшее от начального момента, в минутах, T – период полураспада в минутах. В начальный момент времени масса изотопа 156 мг. Период его полураспада составляет 8 минут. Найдите, через сколько минут масса изотопа будет равна 39 мг.

105. В ходе распада радиоактивного изотопа его масса уменьшается по закону $m(t) = m_0 \cdot 2^{-\frac{t}{T}}$, где m_0 (мг) – начальная масса изотопа, t (мин.) – время, прошедшее от начального момента, T (мин.) – период полураспада. В начальный момент времени масса изотопа $m_0 = 90$ мг. Период его полураспада $T = 3$ мин. Через сколько минут масса изотопа будет равна 11,25 мг?

106. В ходе распада радиоактивного изотопа его масса уменьшается по закону $m(t) = m_0 \cdot 2^{-\frac{t}{T}}$, где m_0 (мг) – начальная масса изотопа, t (мин.) – время, прошедшее от начального момента, T (мин.) – период полураспада. В начальный момент времени масса изотопа $m_0 = 250$ мг. Период его полураспада $T = 3$ мин. Через сколько минут масса изотопа будет равна 31,25 мг?

107. При адиабатическом процессе для идеального газа выполняется закон $pV^k = 6,4 \cdot 10^6$ Па·м⁵, где p – давление в газе (в Па), V – объём газа (в м³), $k = \frac{5}{3}$. Найдите, какой объём V (в м³) будет занимать газ при давлении p , равном $2 \cdot 10^5$ Па.

108. При адиабатическом процессе для идеального газа выполняется закон $pV^k = 1,2 \cdot 10^8$ Па·м⁵, где p – давление в газе (в Па), V – объём газа (в м³), $k = \frac{5}{3}$. Найдите, какой объём V (в м³) будет занимать газ при давлении p , равном $3,75 \cdot 10^6$ Па.*

109. При адиабатическом процессе для идеального газа выполняется закон $pV^k = 1,6 \cdot 10^5$ Па·м⁵, где p – давление в газе (в Па), V – объём газа (в м³), $k = \frac{4}{3}$. Найдите, какой объём V (в м³) будет занимать газ при давлении p , равном $6,25 \cdot 10^6$ Па.*

110. При адиабатическом процессе для идеального газа выполняется закон $pV^k = 8,1 \cdot 10^5$ Па·м⁵, где p – давление в газе (в Па), V – объём газа (в м³), $k = \frac{4}{3}$. Найдите, какой объём V (в м³) будет занимать газ при давлении p , равном $6,25 \cdot 10^6$ Па.*

111. Установка для демонстрации адиабатического сжатия представляет собой сосуд с поршнем, резко сжимающим газ. При этом объём и давление связаны соотношением $p_1 V_1^{1,4} = p_2 V_2^{1,4}$, где p_1 и p_2 – давление газа (в атмосферах) в начальном и конечном состояниях, V_1 и V_2 – объём газа (в литрах) в начальном и конечном состояниях. Изначально объём газа равен 294,4 л, а давление газа равно одной атмосфере. До какого объёма нужно сжать газ, чтобы давление в сосуде стало 128 атмосфер? Ответ дайте в литрах.

112. Установка для демонстрации адиабатического сжатия представляет собой сосуд с поршнем, резко сжимающим газ. При этом объём и давление связаны соотношением $p_1 V_1^{1,4} = p_2 V_2^{1,4}$, где p_1 и p_2 – давление газа (в атмосферах) в начальном и конечном состояниях, V_1 и V_2 – объём газа (в литрах) в начальном и конечном состояниях. Изначально объём газа равен 316,8 л, а давление газа равно одной атмосфере. До какого объёма нужно сжать газ, чтобы давление в сосуде стало 128 атмосфер? Ответ дайте в литрах.

113. Установка для демонстрации адиабатического сжатия представляет собой сосуд с поршнем, резко сжимающим газ. При этом объём и давление связаны соотношением $p_1 V_1^{1,4} = p_2 V_2^{1,4}$, где p_1 и p_2 – давление газа (в атмосферах) в начальном и конечном состояниях, V_1 и V_2 – объём газа (в литрах) в начальном и конечном состояниях. Изначально объём газа равен 220,8 л, а давление газа равно одной атмосфере. До какого объёма нужно сжать газ, чтобы давление в сосуде стало 128 атмосфер? Ответ дайте в литрах.*

114. Установка для демонстрации адиабатического сжатия представляет собой сосуд с поршнем, резко сжимающим газ. При этом объём и давление связаны соотношением $p_1 V_1^{1,4} = p_2 V_2^{1,4}$, где p_1 и p_2 – давление газа (в атмосферах) в начальном и конечном состояниях, V_1 и V_2 – объём газа (в литрах) в начальном и конечном состояниях. Изначально объём газа равен 243,2 л, а давление газа равно одной атмосфере. До какого объёма нужно сжать газ, чтобы давление в сосуде стало 128 атмосфер? Ответ дайте в литрах.*

115. Рейтинг R интернет-магазина вычисляется по формуле $R = r_{\text{пок}} - \frac{r_{\text{пок}} - r_{\text{экс}}}{(K+1) \cdot \frac{0,02K}{r_{\text{пок}} + 0,1}}$, где

$r_{\text{пок}}$ – средняя оценка магазина покупателями (от 0 до 1), $r_{\text{экс}}$ – оценка магазина экспертами (от 0 до 0,7) и K – число покупателей, оценивших магазин. Найдите рейтинг интернет-магазина «Альфа», если число покупателей, оставивших отзыв о магазине, равно 10, их средняя оценка равна 0,45, а оценка экспертов равна 0,67.

116. Рейтинг R интернет-магазина вычисляется по формуле $R = r_{\text{пок}} - \frac{r_{\text{пок}} - r_{\text{экс}}}{(K+1) \cdot \frac{0,02K}{r_{\text{пок}} + 0,1}}$, где

$r_{\text{пок}}$ – средняя оценка магазина покупателями (от 0 до 1), $r_{\text{экс}}$ – оценка магазина экспертами (от 0 до 0,7) и K – число покупателей, оценивших магазин. Найдите рейтинг интернет-магазина «Бета», если число покупателей, оставивших отзыв о магазине, равно 11, их средняя оценка равна 0,5, а оценка экспертов равна 0,28.

117. Рейтинг R интернет-магазина вычисляется по формуле $R = r_{\text{пок}} - \frac{r_{\text{пок}} - r_{\text{экс}}}{(K+1) \cdot \frac{0,02K}{r_{\text{пок}} + 0,1}}$, где

$r_{\text{пок}}$ – средняя оценка магазина покупателями (от 0 до 1), $r_{\text{экс}}$ – оценка магазина экспертами (от 0 до 0,7) и K – число покупателей, оценивших магазин. Найдите рейтинг интернет-магазина «Бета», если число покупателей, оставивших отзыв о магазине, равно 20, их средняя оценка равна 0,25, а оценка экспертов равна 0,37.

118. Рейтинг R интернет-магазина вычисляется по формуле $R = r_{\text{пок}} - \frac{r_{\text{пок}} - r_{\text{экс}}}{(K+1) \cdot \frac{0,02K}{r_{\text{пок}} + 0,1}}$, где

$r_{\text{пок}}$ – средняя оценка магазина покупателями (от 0 до 1), $r_{\text{экс}}$ – оценка магазина экспертами (от 0 до 0,7) и K – число покупателей, оценивших магазин. Найдите рейтинг интернет-магазина «Альфа», если число покупателей, оставивших отзыв о магазине, равно 20, их средняя оценка равна 0,25, а оценка экспертов равна 0,61.

119. Рейтинг R интернет-магазина «Бета» вычисляется по формуле $R = r_{\text{пок}} - \frac{r_{\text{пок}} - r_{\text{экс}}}{(K+1)^m}$, где

$m = \frac{0,02K}{r_{\text{пок}} + 0,1}$, $r_{\text{пок}}$ – средняя оценка магазина покупателями, $r_{\text{экс}}$ – оценка магазина, данная экспертами, K – число покупателей, оценивших магазин. Найдите рейтинг интернет-магазина «Бета», если число покупателей, оценивших магазин, равно 29, их средняя оценка равна 0,48, а оценка экспертов равна 0,18.

120. Рейтинг R интернет-магазина вычисляется по формуле $R = r_{\text{пок}} - \frac{r_{\text{пок}} - r_{\text{экс}}}{(K+1)^m}$, где

$m = \frac{0,02K}{r_{\text{пок}} + 0,1}$, $r_{\text{пок}}$ – средняя оценка магазина покупателями (от 0 до 1), $r_{\text{экс}}$ – оценка магазина экспертами (от 0 до 0,7) и K – число покупателей, оценивших магазин. Найдите рейтинг интернет-магазина «Альфа», если число покупателей, оставивших отзыв о магазине, равно 24, их средняя оценка равна 0,86, а оценка экспертов равна 0,51.

121. Рейтинг R интернет-магазина вычисляется по формуле $R = r_{\text{пок}} - \frac{r_{\text{пок}} - r_{\text{экс}}}{(K+1)^m}$, где

$m = \frac{0,02K}{r_{\text{пок}} + 0,1}$, $r_{\text{пок}}$ – средняя оценка магазина покупателями (от 0 до 1), $r_{\text{экс}}$ – оценка магазина экспертами (от 0 до 0,7) и K – число покупателей, оценивших магазин. Найдите рейтинг интернет-магазина «Альфа», если число покупателей, оставивших отзыв о магазине, равно 8, их средняя оценка равна 0,22, а оценка экспертов равна 0,28.

122. Рейтинг R интернет-магазина вычисляется по формуле $R = r_{\text{пок}} - \frac{r_{\text{пок}} - r_{\text{экс}}}{(K+1)^m}$, где

$m = \frac{0,02K}{r_{\text{пок}} + 0,1}$, $r_{\text{пок}}$ – средняя оценка магазина покупателями (от 0 до 1), $r_{\text{экс}}$ – оценка магазина экспертами (от 0 до 0,7) и K – число покупателей, оценивших магазин. Найдите рейтинг интернет-магазина «Альфа», если число покупателей, оставивших отзыв о магазине, равно 26, их средняя оценка равна 0,68, а оценка экспертов равна 0,41.

123. Водолазный колокол, содержащий $\nu = 6$ моля воздуха при давлении $p_1 = 2,5$ атмосферы, медленно опускают на дно водоёма. При этом происходит изотермическое сжатие воздуха до конечного давления p_2 . Работа, совершаемая водой при сжатии воздуха, определяется выражением $A = \alpha \nu T \log_2 \frac{p_2}{p_1}$, где $\alpha = 5,75 \frac{\text{Дж}}{\text{моль} \cdot \text{К}}$ – постоянная, $T = 300$ К – температура воздуха. Найдите, какое давление p_2 (в атм) будет иметь воздух в колоколе, если при сжатии воздуха была совершена работа в 10 350 Дж.

124. Водолазный колокол, содержащий $\nu = 3$ моля воздуха при давлении $p_1 = 1,5$ атмосферы, медленно опускают на дно водоёма. При этом происходит изотермическое сжатие воздуха до конечного давления p_2 . Работа, совершаемая водой при сжатии воздуха, определяется выражением $A = \alpha \nu T \log_2 \frac{p_2}{p_1}$, где $\alpha = 14,9 \frac{\text{Дж}}{\text{моль} \cdot \text{К}}$ – постоянная, $T = 300$ К – температура воздуха. Найдите, какое давление p_2 (в атм) будет иметь воздух в колоколе, если при сжатии воздуха была совершена работа в 13 410 Дж.

125. Водолазный колокол, содержащий $\nu = 5$ моля воздуха при давлении $p_1 = 2,3$ атмосферы, медленно опускают на дно водоёма. При этом происходит изотермическое сжатие воздуха до конечного давления p_2 . Работа, совершаемая водой при сжатии воздуха, определяется выражением $A = \alpha \nu T \log_2 \frac{p_2}{p_1}$, где $\alpha = 15,6 \frac{\text{Дж}}{\text{моль} \cdot \text{К}}$ – постоянная, $T = 300$ К – температура воздуха. Найдите, какое давление p_2 (в атм) будет иметь воздух в колоколе, если при сжатии воздуха была совершена работа в 23 400 Дж.

126. Водолазный колокол, содержащий $\nu = 2$ моля воздуха при давлении $p_1 = 1,6$ атмосферы, медленно опускают на дно водоёма. При этом происходит изотермическое сжатие воздуха до конечного давления p_2 . Работа, совершаемая водой при сжатии воздуха, определяется выражением $A = \alpha \nu T \log_2 \frac{p_2}{p_1}$, где $\alpha = 6,2 \frac{\text{Дж}}{\text{моль} \cdot \text{К}}$ – постоянная, $T = 300$ К – температура воздуха. Найдите, какое давление p_2 (в атм) будет иметь воздух в колоколе, если при сжатии воздуха была совершена работа в 11 160 Дж.

127. Водолазный колокол, содержащий в начальный момент времени $\nu = 3$ моля воздуха объёмом $V_1 = 32$ л, медленно опускают на дно водоёма. При этом происходит изотермическое сжатие воздуха до конечного объёма V_2 (в л). Работа, совершаемая водой при сжатии воздуха, вычисляется по формуле $A = \alpha \nu T \log_2 \frac{V_1}{V_2}$, где $\alpha = 11,5 \frac{\text{Дж}}{\text{моль} \cdot \text{К}}$ – постоянная, $T = 300$ К – температура воздуха. Найдите, какой объём V_2 будет занимать воздух в колоколе, если при сжатии воздуха была совершена работа в 20 700 Дж. Ответ дайте в литрах.

128. Водолазный колокол, содержащий в начальный момент времени $\nu = 2$ моля воздуха объёмом $V_1 = 10$ л, медленно опускают на дно водоёма. При этом происходит изотермическое сжатие воздуха до конечного объёма V_2 (в л). Работа, совершаемая водой при сжатии воздуха, вычисляется по формуле $A = \alpha \nu T \log_2 \frac{V_1}{V_2}$, где $\alpha = 13,3 \frac{\text{Дж}}{\text{моль} \cdot \text{К}}$ – постоянная, $T = 300$ К – температура воздуха. Найдите, какой объём V_2 будет занимать воздух в колоколе, если при сжатии воздуха была совершена работа в 15 960 Дж. Ответ дайте в литрах.

129. Водолазный колокол, содержащий в начальный момент времени $\nu = 5$ моль воздуха объёмом $V_1 = 24$ л, медленно опускают на дно водоёма. При этом происходит изотермическое сжатие воздуха до конечного объёма V_2 (в л). Работа, совершаемая водой при сжатии воздуха, вычисляется по формуле $A = \alpha \nu T \log_2 \frac{V_1}{V_2}$, где $\alpha = 14,9 \frac{\text{Дж}}{\text{моль} \cdot \text{К}}$ – постоянная, $T = 300$ К – температура воздуха. Найдите, какой объём V_2 будет занимать воздух в колоколе, если при сжатии воздуха была совершена работа в 22 350 Дж. Ответ дайте в литрах.

130. Водолазный колокол, содержащий в начальный момент времени $\nu = 2$ моль воздуха объёмом $V_1 = 120$ л, медленно опускают на дно водоёма. При этом происходит изотермическое сжатие воздуха до конечного объёма V_2 (в л). Работа, совершаемая водой при сжатии воздуха, вычисляется по формуле $A = \alpha \nu T \log_2 \frac{V_1}{V_2}$, где $\alpha = 8,7 \frac{\text{Дж}}{\text{моль} \cdot \text{К}}$ – постоянная, $T = 300$ К – температура воздуха. Найдите, какой объём V_2 будет занимать воздух в колоколе, если при сжатии воздуха была совершена работа в 10 440 Дж. Ответ дайте в литрах.

131. Ёмкость высоковольтного конденсатора в телевизоре $C = 3 \cdot 10^{-6}$ Ф. Параллельно с конденсатором подключён резистор с сопротивлением $R = 3 \cdot 10^6$ Ом. Во время работы телевизора напряжение на конденсаторе $U_0 = 24$ кВ. После выключения телевизора напряжение на конденсаторе убывает до значения U (кВ) за время, определяемое выражением $t = \alpha RC \log_2 \frac{U_0}{U}$ (с), где $\alpha = 0,9$ – постоянная. Определите наибольшее возможное напряжение на конденсаторе, если после выключения телевизора прошло не менее 16,2 секунды. Ответ дайте в кВ (киловольтах).

132. Ёмкость высоковольтного конденсатора в телевизоре $C = 4 \cdot 10^{-6}$ Ф. Параллельно с конденсатором подключён резистор с сопротивлением $R = 2 \cdot 10^6$ Ом. Во время работы телевизора напряжение на конденсаторе $U_0 = 22$ кВ. После выключения телевизора напряжение на конденсаторе убывает до значения U (кВ) за время, определяемое выражением $t = \alpha RC \log_2 \frac{U_0}{U}$ (с), где $\alpha = 1,7$ – постоянная. Определите наибольшее возможное напряжение на конденсаторе, если после выключения телевизора прошло не менее 27,2 секунды. Ответ дайте в кВ (киловольтах).

133. Ёмкость высоковольтного конденсатора в телевизоре $C = 6 \cdot 10^{-6}$ Ф. Параллельно с конденсатором подключён резистор с сопротивлением $R = 8 \cdot 10^6$ Ом. Во время работы телевизора напряжение на конденсаторе $U_0 = 34$ кВ. После выключения телевизора напряжение на конденсаторе убывает до значения U (кВ) за время, определяемое выражением $t = \alpha RC \log_2 \frac{U_0}{U}$ (с), где $\alpha = 0,8$ – постоянная. Определите наибольшее возможное напряжение на конденсаторе, если после выключения телевизора прошло не менее 76,8 секунды. Ответ дайте в кВ (киловольтах).

134. Ёмкость высоковольтного конденсатора в телевизоре $C = 3 \cdot 10^{-6}$ Ф. Параллельно с конденсатором подключён резистор с сопротивлением $R = 5 \cdot 10^6$ Ом. Во время работы телевизора напряжение на конденсаторе $U_0 = 9$ кВ. После выключения телевизора напряжение на конденсаторе убывает до значения U (кВ) за время, определяемое выражением $t = \alpha RC \log_2 \frac{U_0}{U}$ (с), где $\alpha = 1,1$ – постоянная. Определите наибольшее возможное напряжение на конденсаторе, если после выключения телевизора прошло не менее 33 секунд. Ответ дайте в кВ (киловольтах).

135. Для обогрева помещения, температура в котором поддерживается на уровне $T_{\text{п}} = 25$ °С, через радиатор отопления пропускают горячую воду. Расход проходящей через трубу радиатора воды $m = 0,3$ кг/с. Проходя по трубе расстояние x , вода охлаждается от начальной температуры $T_{\text{в}} = 57$ °С до температуры T (°С), причём $x = \alpha \cdot \frac{cm}{\gamma} \cdot \log_2 \frac{T_{\text{в}} - T_{\text{п}}}{T - T_{\text{п}}}$, где $c = 4200 \frac{\text{Вт} \cdot \text{с}}{\text{кг} \cdot \text{°С}}$ – теплоёмкость воды, $\gamma = 63 \frac{\text{Вт}}{\text{м} \cdot \text{°С}}$ – коэффициент теплообмена, $\alpha = 1,4$ – постоянная. Найдите, до какой температуры (в градусах Цельсия) охладится вода, если длина трубы радиатора равна 56 м.

136. Для обогрева помещения, температура в котором поддерживается на уровне $T_{\text{п}} = 15$ °С, через радиатор отопления пропускают горячую воду. Расход проходящей через трубу радиатора воды $m = 0,6$ кг/с. Проходя по трубе расстояние x , вода охлаждается от начальной температуры $T_{\text{в}} = 91$ °С до температуры T (°С), причём $x = \alpha \cdot \frac{cm}{\gamma} \cdot \log_2 \frac{T_{\text{в}} - T_{\text{п}}}{T - T_{\text{п}}}$, где $c = 4200 \frac{\text{Вт} \cdot \text{с}}{\text{кг} \cdot \text{°С}}$ – теплоёмкость воды, $\gamma = 28 \frac{\text{Вт}}{\text{м} \cdot \text{°С}}$ – коэффициент теплообмена, а $\alpha = 0,8$ – постоянная. Найдите, до какой температуры (в градусах Цельсия) охладится вода, если длина трубы радиатора равна 144 м.

137. Для обогрева помещения, температура в котором поддерживается на уровне $T_{\text{п}} = 25$ °С, через радиатор отопления пропускают горячую воду температурой $T_{\text{в}} = 89$ °С. Расход проходящей через трубу радиатора воды $m = 0,2$ кг/с. Проходя по трубе расстояние x , вода охлаждается от начальной температуры T (°С), причём $x = \alpha \cdot \frac{cm}{\gamma} \cdot \log_2 \frac{T_{\text{в}} - T_{\text{п}}}{T - T_{\text{п}}}$, где $c = 4200 \frac{\text{Вт} \cdot \text{с}}{\text{кг} \cdot \text{°С}}$ – теплоёмкость воды, $\gamma = 63 \frac{\text{Вт}}{\text{м} \cdot \text{°С}}$ – коэффициент теплообмена, $\alpha = 1,9$ – постоянная. Найдите, до какой температуры (в градусах Цельсия) охладится вода, если длина трубы радиатора равна 76 м.

138. Для обогрева помещения, температура в котором поддерживается на уровне $T_{\text{п}} = 20$ °С, через радиатор отопления пропускают горячую воду. Расход проходящей через трубу радиатора воды $m = 0,2$ кг/с. Проходя по трубе расстояние x , вода охлаждается от начальной температуры $T_{\text{в}} = 68$ °С до температуры T (°С), причём $x = \alpha \cdot \frac{cm}{\gamma} \cdot \log_2 \frac{T_{\text{в}} - T_{\text{п}}}{T - T_{\text{п}}}$, где $c = 4200 \frac{\text{Вт} \cdot \text{с}}{\text{кг} \cdot \text{°С}}$ – теплоёмкость воды, $\gamma = 21 \frac{\text{Вт}}{\text{м} \cdot \text{°С}}$ – коэффициент теплообмена, а $\alpha = 1,7$ – постоянная. Найдите, до какой температуры (в градусах Цельсия) охладится вода, если длина трубы радиатора равна 136 м.

139. Мяч бросили под углом α к плоской горизонтальной поверхности земли. Время полёта мяча (в секундах) определяется по формуле $t = \frac{2v_0 \sin \alpha}{g}$. При каком наименьшем значении угла α (в градусах) время полёта будет не меньше 2,1 секунды, если мяч бросают с начальной скоростью $v_0 = 21$ м/с? Считайте, что ускорение свободного падения $g = 10$ м/с².

140. Мяч бросили под углом α к плоской горизонтальной поверхности земли. Время полёта мяча (в секундах) определяется по формуле $t = \frac{2v_0 \sin \alpha}{g}$. При каком наименьшем значении угла α (в градусах) время полёта будет не меньше 3,2 секунды, если мяч бросают с начальной скоростью $v_0 = 16$ м/с? Считайте, что ускорение свободного падения $g = 10$ м/с².

141. Мяч бросили под углом α к плоской горизонтальной поверхности земли. Время полёта мяча (в секундах) определяется по формуле $t = \frac{2v_0 \sin \alpha}{g}$. При каком наименьшем значении угла α (в градусах) время полёта будет не меньше 3 секунды, если мяч бросают с начальной скоростью $v_0 = 30$ м/с? Считайте, что ускорение свободного падения $g = 10$ м/с².

142. Мяч бросили под углом α к плоской горизонтальной поверхности земли. Время полёта мяча (в секундах) определяется по формуле $t = \frac{2v_0 \sin \alpha}{g}$. При каком наименьшем значении угла α (в градусах) время полёта будет не меньше 5 секунды, если мяч бросают с начальной скоростью $v_0 = 25$ м/с? Считайте, что ускорение свободного падения $g = 10$ м/с².

143. Груз массой 0,5 кг колеблется на пружине. Его скорость v (в м/с) меняется по закону $v = v_0 \sin \frac{2\pi t}{T}$, где t – время с момента начала колебаний в секундах, $T = 27$ с – период колебаний, $v_0 = 0,8$ м/с. Кинетическая энергия E (в Дж) груза вычисляется по формуле $E = \frac{mv^2}{2}$, где m – масса груза (в кг), v – скорость груза (в м/с). Найдите кинетическую энергию груза через 9 секунд после начала колебаний. Ответ дайте в джоулях.

144. Груз массой 0,38 кг колеблется на пружине. Его скорость v (в м/с) меняется по закону $v = v_0 \sin \frac{2\pi t}{T}$, где t – время с момента начала колебаний в секундах, $T = 8$ с – период колебаний, $v_0 = 2$ м/с. Кинетическая энергия E (в Дж) груза вычисляется по формуле $E = \frac{mv^2}{2}$, где m – масса груза (в кг), v – скорость груза (в м/с). Найдите кинетическую энергию груза через 7 секунд после начала колебаний. Ответ дайте в джоулях.

145. Груз массой 0,6 кг колеблется на пружине. Его скорость v (в м/с) меняется по закону $v = v_0 \sin \frac{2\pi t}{T}$, где t – время с момента начала колебаний в секундах, $T = 12$ с – период колебаний, $v_0 = 1$ м/с. Кинетическая энергия E (в Дж) груза вычисляется по формуле $E = \frac{mv^2}{2}$, где m – масса груза (в кг), v – скорость груза (в м/с). Найдите кинетическую энергию груза через 7 секунд после начала колебаний. Ответ дайте в джоулях.

146. Груз массой $0,16$ кг колеблется на пружине. Его скорость v (в м/с) меняется по закону $v = v_0 \sin \frac{2\pi t}{T}$, где t – время с момента начала колебаний в секундах, $T = 12$ с – период колебаний, $v_0 = 1,5$ м/с. Кинетическая энергия E (в Дж) груза вычисляется по формуле $E = \frac{mv^2}{2}$, где m – масса груза (в кг), v – скорость груза (в м/с). Найдите кинетическую энергию груза через 11 секунд после начала колебаний. Ответ дайте в джоулях.*

147. Груз массой $0,4$ кг колеблется на пружине. Его скорость v (в м/с) меняется по закону $v = v_0 \cos \frac{2\pi t}{T}$, где t – время с момента начала наблюдения в секундах, $T = 2$ с – период колебаний, $v_0 = 0,5$ м/с. Кинетическая энергия E (в Дж) груза вычисляется по формуле $E = \frac{mv^2}{2}$, где m – масса груза (в кг), v – скорость груза (в м/с). Найдите кинетическую энергию груза через 60 секунд после начала наблюдения. Ответ дайте в джоулях.

148. Груз массой $0,8$ кг колеблется на пружине. Его скорость v (в м/с) меняется по закону $v = v_0 \cos \frac{2\pi t}{T}$, где t – время с момента начала наблюдения в секундах, $T = 2$ с – период колебаний, $v_0 = 1,7$ м/с. Кинетическая энергия E (в Дж) груза вычисляется по формуле $E = \frac{mv^2}{2}$, где m – масса груза (в кг), v – скорость груза (в м/с). Найдите кинетическую энергию груза через 30 секунд после начала наблюдения. Ответ дайте в джоулях.

149. Груз массой $0,25$ кг колеблется на пружине. Его скорость v (в м/с) меняется по закону $v = v_0 \cos \frac{2\pi t}{T}$, где t – время с момента начала наблюдения в секундах, $T = 12$ с – период колебаний, $v_0 = 1,6$ м/с. Кинетическая энергия E (в Дж) груза вычисляется по формуле $E = \frac{mv^2}{2}$, где m – масса груза (в кг), v – скорость груза (в м/с). Найдите кинетическую энергию груза через 10 секунд после начала наблюдения. Ответ дайте в джоулях.

150. Груз массой $2,25$ кг колеблется на пружине. Его скорость v (в м/с) меняется по закону $v = v_0 \cos \frac{2\pi t}{T}$, где t – время с момента начала наблюдения в секундах, $T = 8$ с – период колебаний, $v_0 = 0,4$ м/с. Кинетическая энергия E (в Дж) груза вычисляется по формуле $E = \frac{mv^2}{2}$, где m – масса груза (в кг), v – скорость груза (в м/с). Найдите кинетическую энергию груза через 17 секунд после начала наблюдения. Ответ дайте в джоулях.*

151. Два тела, массой $m = 2$ кг каждое, движутся с одинаковой скоростью $v = 8$ м/с под углом 2α друг к другу. Энергия (в Дж), выделяющаяся при их абсолютно неупругом соударении, вычисляется по формуле $Q = mv^2 \sin^2 \alpha$, где m – масса (в кг), v – скорость (в м/с). Найдите, под каким углом 2α должны двигаться тела, чтобы в результате соударения выделилась энергия, равная 32 Дж. Ответ дайте в градусах.

152. Два тела, массой $m = 2$ кг каждое, движутся с одинаковой скоростью $v = 10$ м/с под углом 2α друг к другу. Энергия (в Дж), выделяющаяся при их абсолютно неупругом соударении, вычисляется по формуле $Q = mv^2 \sin^2 \alpha$, где m – масса (в кг), v – скорость (в м/с). Найдите, под каким углом 2α должны двигаться тела, чтобы в результате соударения выделилась энергия, равная 100 Дж. Ответ дайте в градусах.

153. Два тела, массой $m = 6$ кг каждое, движутся с одинаковой скоростью $v = 9$ м/с под углом 2α друг к другу. Энергия (в Дж), выделяющаяся при их абсолютно неупругом соударении, вычисляется по формуле $Q = mv^2 \sin^2 \alpha$, где m – масса (в кг), v – скорость (в м/с). Найдите, под каким углом 2α должны двигаться тела, чтобы в результате соударения выделилась энергия, равная 243 Дж. Ответ дайте в градусах.

154. Два тела, массой $m = 9$ кг каждое, движутся с одинаковой скоростью $v = 6$ м/с под углом 2α друг к другу. Энергия (в Дж), выделяющаяся при их абсолютно неупругом соударении, вычисляется по формуле $Q = mv^2 \sin^2 \alpha$, где m – масса (в кг), v – скорость (в м/с). Найдите, под каким углом 2α должны двигаться тела, чтобы в результате соударения выделилась энергия, равная 81 Дж. Ответ дайте в градусах.

155. Два тела, массой $m = 10$ кг каждое, движутся с одинаковой скоростью $v = 9$ м/с под углом 2α друг к другу. Энергия (в Дж), выделяющаяся при их абсолютно неупругом соударении, вычисляется по формуле $Q = mv^2 \sin^2 \alpha$, где m – масса (в кг), v – скорость (в м/с). Найдите, под каким углом 2α должны двигаться тела, чтобы в результате соударения выделилась энергия, равная 202,5 Дж. Ответ дайте в градусах.

156. Два тела, массой $m = 9$ кг каждое, движутся с одинаковой скоростью $v = 7$ м/с под углом 2α друг к другу. Энергия (в Дж), выделяющаяся при их абсолютно неупругом соударении, вычисляется по формуле $Q = mv^2 \sin^2 \alpha$, где m – масса (в кг), v – скорость (в м/с). Найдите, под каким углом 2α должны двигаться тела, чтобы в результате соударения выделилась энергия, равная 110,25 Дж. Ответ дайте в градусах.

157. Небольшой мячик бросают под острым углом α к плоской горизонтальной поверхности земли. Максимальная высота полёта мячика H (в м) вычисляется по формуле $H = \frac{v_0^2}{4g}(1 - \cos 2\alpha)$, где $v_0 = 24$ м/с – начальная скорость мячика, а g – ускорение свободного падения (считайте $g = 10$ м/с²). При каком наименьшем значении угла α мячик пролетит над стеной высотой 6,2 м на расстоянии 1 м? Ответ дайте в градусах.

158. Небольшой мячик бросают под острым углом α к плоской горизонтальной поверхности земли. Максимальная высота полёта мячика H (в м) вычисляется по формуле $H = \frac{v_0^2}{4g}(1 - \cos 2\alpha)$, где $v_0 = 18$ м/с – начальная скорость мячика, а g – ускорение свободного падения (считайте $g = 10$ м/с²). При каком наименьшем значении угла α мячик пролетит над стеной высотой 7,1 м на расстоянии 1 м? Ответ дайте в градусах.

159. Небольшой мячик бросают под острым углом α к плоской горизонтальной поверхности земли. Максимальная высота полёта мячика H (в м) вычисляется по формуле $H = \frac{v_0^2}{4g}(1 - \cos 2\alpha)$, где $v_0 = 22$ м/с – начальная скорость мячика, а g – ускорение свободного падения (считайте $g = 10$ м/с²). При каком наименьшем значении угла α мячик пролетит над стеной высотой 5,05 м на расстоянии 1 м? Ответ дайте в градусах.

160. Небольшой мячик бросают под острым углом α к плоской горизонтальной поверхности земли. Максимальная высота полёта мячика H (в м) вычисляется по формуле $H = \frac{v_0^2}{4g}(1 - \cos 2\alpha)$, где $v_0 = 26$ м/с – начальная скорость мячика, а g – ускорение свободного падения (считайте $g = 10$ м/с²). При каком наименьшем значении угла α мячик пролетит над стеной высотой 7,45 м на расстоянии 1 м? Ответ дайте в градусах.