

**01-05. Задачи с практическим содержанием
ФИПИ «Печь для бани»**

Задание 1. Хозяин дачного участка строит баню с парным отделением. Парное отделение имеет размеры: длина 3,5 м, ширина 2,2 м, высота 2 м. Окон в парном отделении нет, для доступа внутрь планируется дверь шириной 60 см, высота дверного проёма 1,8 м. Для прогрева парного отделения можно использовать электрическую или дровяную печь. В таблице представлены характеристики трёх печей.

Номер печи	Тип	Объём помещения (куб. м)	Масса (кг)	Стоимость (руб.)
1	дровяная	8 – 12	40	18 000
2	дровяная	10 – 16	48	19 500
3	электрическая	9 – 15,5	15	15 000

Для установки дровяной печи дополнительных затрат не потребуется. Установка электрической печи потребует подведения специального кабеля, что обойдётся в 6500 руб.

1. Установите соответствие между массами и номерами печей. Заполните таблицу, в бланк ответов перенесите последовательность трёх цифр без пробелов, запятых и других дополнительных символов.

Масса (кг)	15	40	48
Номер печи			

2. Найдите объём парного отделения строящейся бани. Ответ дайте в кубических метрах.

Ответ: _____.

3. Во сколько рублей обойдётся покупка дровяной печи, подходящей по объёму парного отделения, с доставкой, если доставка печи до дачного участка будет стоить 1400 рублей?

Ответ: _____.

4. Доставка любой печи из магазина до участка стоит 1000 рублей. При покупке печи стоимостью больше 19 000 рублей магазин делает скидку 5% на товар и 30% на доставку. Сколько рублей будет стоить покупка печи номер 2 с доставкой на этих условиях?

Ответ: _____.

5. Хозяин выбрал дровяную печь (рис. 1). Чертёж передней панели печи показан на рисунке 2.



Рис. 1

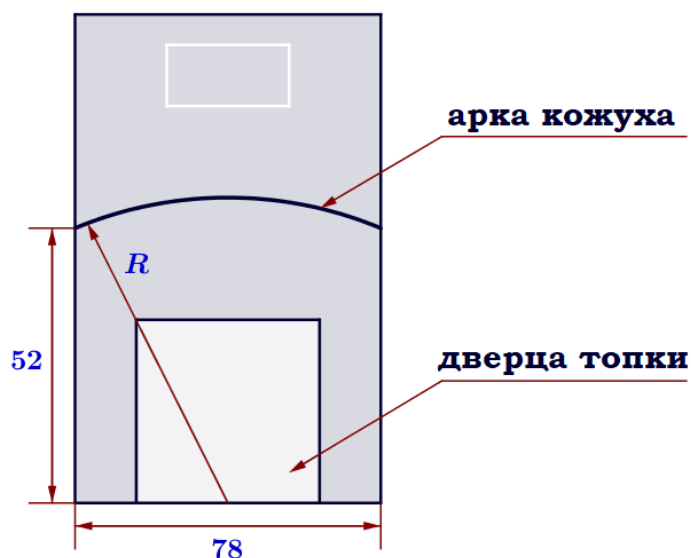


Рис. 2

Печь снабжена кожухом вокруг дверцы топки. Верхняя часть кожуха выполнена в виде арки, приваренной к передней стенке печки по дуге окружности с центром в середине нижней части кожуха (см. рис. 2). Для установки печки хозяину понадобилось узнать радиус закругления арки R . Размеры кожуха в сантиметрах показаны на рисунке. Найдите радиус закругления арки в сантиметрах.

Ответ: _____.

Задание 2. Хозяин дачного участка строит баню с парным отделением. Парное отделение имеет размеры: длина 3,2 м, ширина 2,5 м, высота 1,9 м. Окон в парном отделении нет, для доступа внутрь планируется дверь шириной 60 см, высота дверного проёма 1,7 м. Для прогрева парного отделения можно использовать электрическую или дровяную печь. В таблице представлены характеристики трёх печей.

Номер печи	Тип	Объём помещения (куб. м)	Масса (кг)	Стоимость (руб.)
1	дровяная	7 – 11	42	17 000
2	дровяная	9 – 17	46	18 500
3	электрическая	8 – 16,5	18	14 000

Для установки дровяной печи дополнительных затрат не потребуется. Установка электрической печи потребует подведения специального кабеля, что обойдётся в 6200 руб.

1. Установите соответствие между стоимостями и номерами печей. Заполните таблицу, в бланк ответов перенесите последовательность трёх цифр без пробелов, запятых и других дополнительных символов.

Стоимость (руб.)	18 500	14 000	17 000
Номер печи			

2. Найдите объём парного отделения строящейся бани. Ответ дайте в кубических метрах.

Ответ: _____.

3. Во сколько рублей обойдётся покупка дровяной печи, подходящей по объёму парного отделения, с доставкой, если доставка печи до дачного участка будет стоить 1200 рублей?

Ответ: _____.

4. Доставка любой печи из магазина до участка стоит 1000 рублей. При покупке печи стоимостью больше 15 000 рублей магазин делает скидку 10% на товар и 25% на доставку. Сколько рублей будет стоить покупка печи номер 2 с доставкой на этих условиях?

Ответ: _____.

5. Хозяин выбрал дровяную печь (рис. 1). Чертёж передней панели печи показан на рисунке 2.



Рис. 1

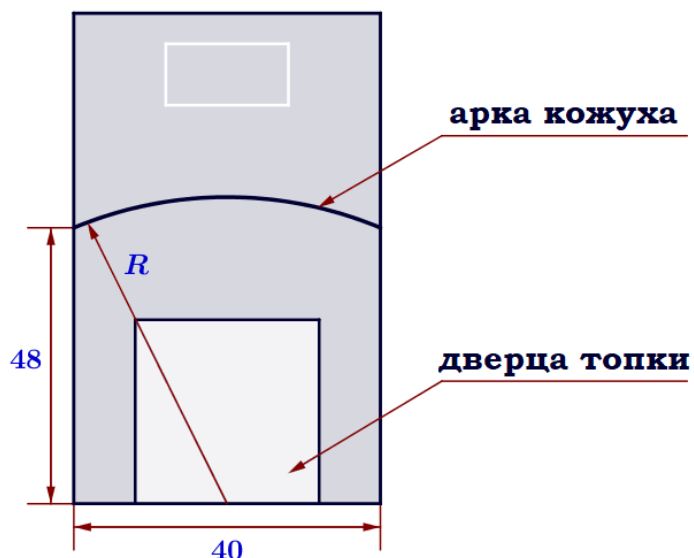


Рис. 2

Печь снабжена кожухом вокруг дверцы топки. Верхняя часть кожуха выполнена в виде арки, приваренной к передней стенке печи по дуге окружности с центром в середине нижней части кожуха (см. рис. 2). Для установки печи хозяину понадобилось узнать радиус закругления арки R . Размеры кожуха в сантиметрах показаны на рисунке. Найдите радиус закругления арки в сантиметрах.

Ответ: _____.

Задание 3. Хозяин дачного участка строит баню с парным отделением. Парное отделение имеет размеры: длина 3,4 м, ширина 2 м, высота 2,1 м. Окон в парном отделении нет, для доступа внутрь планируется дверь шириной 62 см, высота дверного проёма 1,8 м. Для прогрева парного отделения можно использовать электрическую или дровяную печь. В таблице представлены характеристики трёх печей.

Номер печи	Тип	Объём помещения (куб. м)	Масса (кг)	Стоимость (руб.)
1	дровяная	8 – 12	39	22 000
2	дровяная	10 – 19,5	41	28 000
3	электрическая	9 – 17	17	19 500

Для установки дровяной печи дополнительных затрат не потребуется. Установка электрической печи потребует подведения специального кабеля, что обойдётся в 6800 руб.

1. Установите соответствие между массами и номерами печей.

Заполните таблицу, в бланк ответов перенесите последовательность трёх цифр без пробелов, запятых и других дополнительных символов.

Масса (кг)	17	41	39
Номер печи			

2. Найдите площадь пола парного отделения строящейся бани. Ответ дайте в квадратных метрах.

Ответ: _____.

3. Во сколько рублей обойдётся покупка электрической печи с установкой и доставкой, если доставка печи до дачного участка будет стоить 1000 рублей?

Ответ: _____.

4. Доставка любой печи из магазина до участка стоит 800 рублей. При покупке печи стоимостью больше 20 000 рублей магазин делает скидку 15% на товар и 20% на доставку. Сколько рублей будет стоить покупка печи номер 1 с доставкой на этих условиях?

Ответ: _____.

5. Хозяин выбрал дровяную печь (рис. 1). Чертёж передней панели печи показан на рисунке 2.



Рис. 1

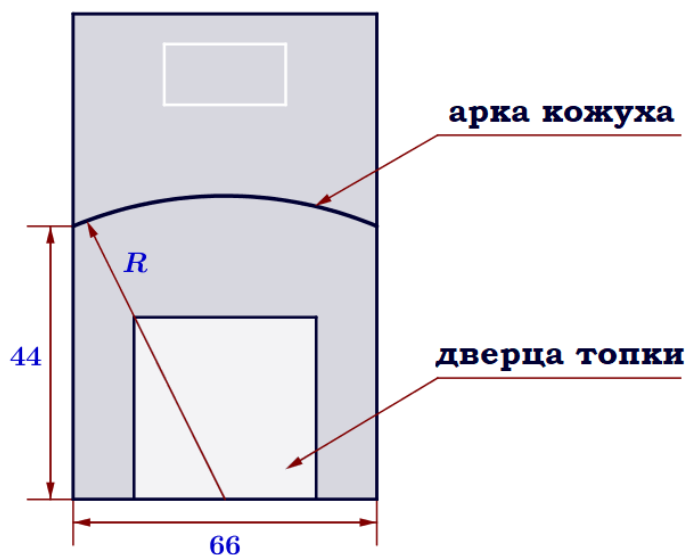


Рис. 2

Печь снабжена кожухом вокруг дверцы топки. Верхняя часть кожуха выполнена в виде арки, приваренной к передней стенке печи по дуге окружности с центром в середине нижней части кожуха (см. рис. 2). Для установки печи хозяину понадобилось узнать радиус закругления арки R . Размеры кожуха в сантиметрах показаны на рисунке. Найдите радиус закругления арки в сантиметрах.

Ответ: _____.

Задание 4. Хозяин дачного участка строит баню с парным отделением. Парное отделение имеет размеры: длина 3,5 м, ширина 2 м, высота 2,3 м. Окон в парном отделении нет, для доступа внутрь планируется дверь шириной 64 см, высота дверного проёма 1,9 м. Для прогрева парного отделения можно использовать электрическую или дровяную печь. В таблице представлены характеристики трёх печей.

Номер печи	Тип	Объём помещения (куб. м)	Масса (кг)	Стоимость (руб.)
1	дровяная	8 – 15	58	16 500
2	дровяная	7 – 16,5	70	21 000
3	электрическая	9 – 18	33	18 000

Для установки дровяной печи дополнительных затрат не потребуется. Установка электрической печи потребует подведения специального кабеля, что обойдётся в 6400 руб.

1. Установите соответствие между стоимостями и номерами печей. Заполните таблицу, в бланк ответов перенесите последовательность трёх цифр без пробелов, запятых и других дополнительных символов.

Стоимость (руб.)	16 500	18 000	21 000
Номер печи			

2. Найдите площадь потолка парного отделения строящейся бани. Ответ дайте в квадратных метрах.

Ответ: _____.

3. Во сколько рублей обойдётся покупка электрической печи с установкой и доставкой, если доставка печи до дачного участка будет стоить 800 рублей?

Ответ: _____.

4. Доставка любой печи из магазина до участка стоит 1000 рублей. При покупке печи стоимостью больше 15 000 рублей магазин делает скидки 5% на товар и 25% на доставку. Сколько рублей будет стоить покупка печи номер 1 с доставкой на этих условиях?

Ответ: _____.

5. Хозяин выбрал дровяную печь (рис. 1). Чертёж передней панели печи показан на рисунке 2.



Рис. 1

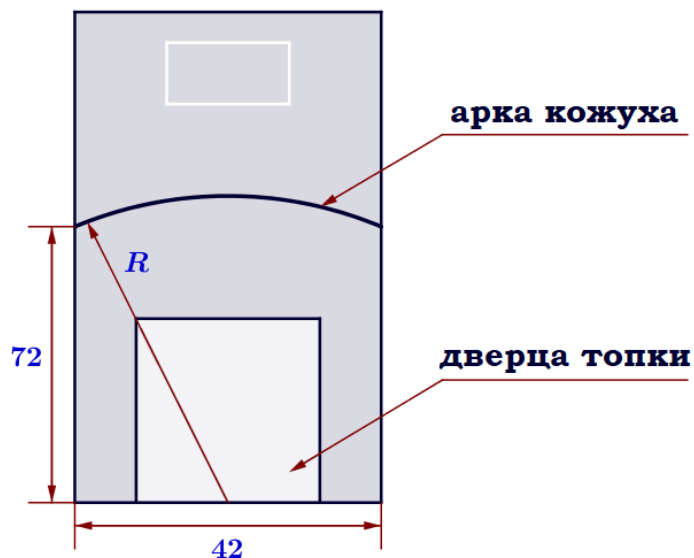


Рис. 2

Печь снабжена кожухом вокруг дверцы топки. Верхняя часть кожуха выполнена в виде арки, приваренной к передней стенке печи по дуге окружности с центром в середине нижней части кожуха (см. рис. 2). Для установки печи хозяину понадобилось узнать радиус закругления арки R . Размеры кожуха в сантиметрах показаны на рисунке. Найдите радиус закругления арки в сантиметрах.

Ответ: _____.

Задание 5. Хозяин дачного участка строит баню с парным отделением. Парное отделение имеет размеры: длина 3 м, ширина 2,5 м, высота 2,2 м. Окон в парном отделении нет, для доступа внутрь планируется дверь шириной 64 см, высота дверного проёма 2 м. Для прогрева парного отделения можно использовать электрическую или дровяную печь. В таблице представлены характеристики трёх печей.

Номер печи	Тип	Объём помещения (куб. м)	Масса (кг)	Стоимость (руб.)
1	дровяная	7 – 14	43	17 000
2	дровяная	9 – 17	61	24 000
3	электрическая	8 – 18,5	28	18 500

Для установки дровяной печи дополнительных затрат не потребуется. Установка электрической печи потребует подведения специального кабеля, что обойдётся в 5900 руб.

1. Установите соответствие между объёмами помещения и номерами печей, для которых данный объём является наибольшим для отопления помещений. Заполните таблицу, в бланк ответов перенесите последовательность трёх цифр без пробелов, запятых и других дополнительных символов.

Объём (куб. м)	17	18	14
Номер печи			

2. Найдите суммарную площадь стен парного отделения строящейся бани (без площади двери). Ответ дайте в квадратных метрах.

Ответ: _____.

3. На сколько рублей покупка дровяной печи, подходящей по объёму парного отделения, обойдётся дороже электрической без учёта установки?

Ответ: _____.

4. В прошлом году печи, указанные в таблице, стоили дороже. На них были сделаны скидки: на печь номер 1 скидка составила 15%, на печь номер 2 – 40%, на печь номер 3 – 25%. Сколько рублей стоила печь номер 2 в прошлом году?

Ответ: _____.

5. Хозяин выбрал дровяную печь (рис. 1). Чертёж передней панели печи показан на рисунке 2.



Рис. 1

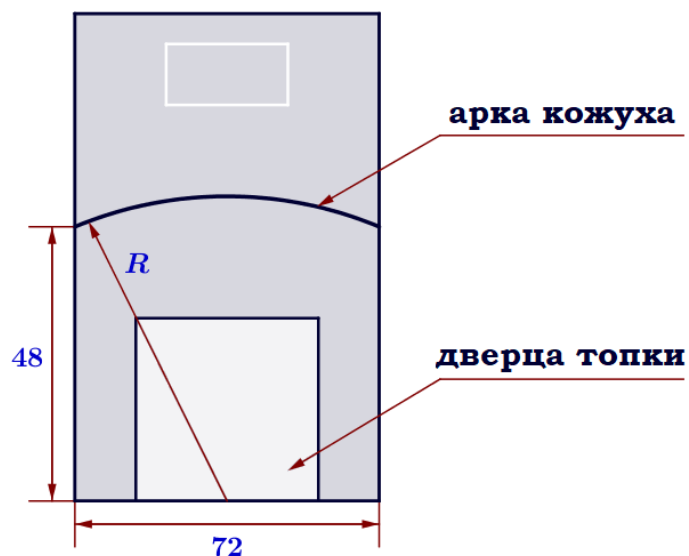


Рис. 2

Печь снабжена кожухом вокруг дверцы топки. Верхняя часть кожуха выполнена в виде арки, приваренной к передней стенке печи по дуге окружности с центром в середине нижней части кожуха (см. рис. 2). Для установки печи хозяину понадобилось узнать радиус закругления арки R . Размеры кожуха в сантиметрах показаны на рисунке. Найдите радиус закругления арки в сантиметрах.

Ответ: _____.

Задание 6. Хозяин дачного участка строит баню с парным отделением. Парное отделение имеет размеры: длина 3,1 м, ширина 2,2 м, высота 2 м. Окон в парном отделении нет, для доступа внутрь планируется дверь шириной 60 см, высота дверного проёма 1,8 м. Для прогрева парного отделения можно использовать электрическую или дровяную печь. В таблице представлены характеристики трёх печей.

Номер печи	Тип	Объём помещения (куб. м)	Масса (кг)	Стоимость (руб.)
1	дровяная	8 – 13	42	19 000
2	дровяная	11 – 15	54	27 000
3	электрическая	7 – 17,5	21	22 500

Для установки дровяной печи дополнительных затрат не потребуется. Установка электрической печи потребует подведения специального кабеля, что обойдётся в 5700 руб.

1. Установите соответствие между объёмами помещения и номерами печей, для которых данный объём является наименьшим для отопления помещений. Заполните таблицу, в бланк ответов перенесите последовательность трёх цифр без пробелов, запятых и других дополнительных символов.

Объём (куб. м)	7	8	11
Номер печи			

2. Найдите суммарную площадь стен парного отделения строящейся бани (без площади двери). Ответ дайте в квадратных метрах.

Ответ: _____.

3. На сколько рублей покупка дровяной печи, подходящей по объёму парного отделения, обойдётся дешевле электрической с учетом установки?

Ответ: _____.

4. В прошлом году печи, указанные в таблице, стоили дороже. На них были сделаны скидки: на печь номер 1 скидка составила 10%, на печь номер 2 – 35%, на печь номер 3 – 25%. Сколько рублей стоила печь номер 3 в прошлом году?

Ответ: _____.

5. Хозяин выбрал дровяную печь (рис. 1). Чертёж передней панели печи показан на рисунке 2.



Рис. 1

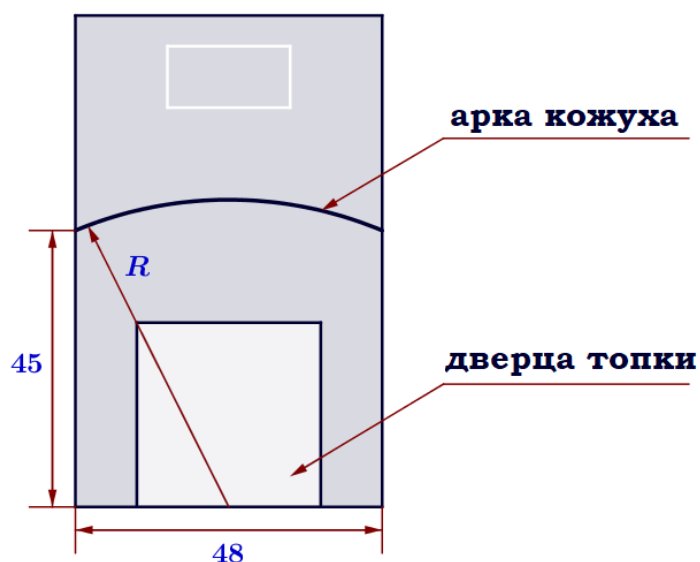


Рис. 2

Печь снабжена кожухом вокруг дверцы топки. Верхняя часть кожуха выполнена в виде арки, приваренной к передней стенке печки по дуге окружности с центром в середине нижней части кожуха (см. рис. 2). Для установки печки хозяину понадобилось узнать радиус закругления арки R . Размеры кожуха в сантиметрах показаны на рисунке. Найдите радиус закругления арки в сантиметрах.

Ответ: _____.

Задание 7. Хозяин дачного участка строит баню с парным отделением. Парное отделение имеет размеры: длина 3,3 м, ширина 2 м, высота 2,2 м. Окон в парном отделении нет, для доступа внутрь планируется дверь шириной 60 см, высота дверного проёма 2 м. Для прогрева парного отделения можно использовать электрическую или дровяную печь. В таблице представлены характеристики трёх печей.

Номер печи	Тип	Объём помещения (куб. м)	Масса (кг)	Стоимость (руб.)
1	дровяная	9 – 14,5	51	16 000
2	дровяная	7 – 16	74	22 500
3	электрическая	10 – 19	22	20 000

Для установки дровяной печи дополнительных затрат не потребуется. Установка электрической печи потребует подведения специального кабеля, что обойдётся в 5500 руб.

1. Найдите объём парного отделения строящейся бани. Ответ дайте в кубических метрах.

Ответ: _____.

2. На дровяную печь, масса которой 74 кг, сделали скидку 10%. Сколько рублей стала стоить печь?

Ответ: _____.

3. На сколько рублей покупка дровяной печи, подходящей по объёму парного отделения, обойдётся дешевле электрической с учётом установки?

Ответ: _____.

4. Доставка любой печи из магазина до участка стоит 1000 рублей. При покупке печи стоимостью больше 18 000 рублей магазин делает скидку 5% на товар и 30% на доставку. Сколько рублей будет стоить покупка печи номер 3 с доставкой на этих условиях?

Ответ: _____.

5. Хозяин выбрал дровяную печь (рис. 1). Чертёж передней панели печи показан на рисунке 2.



Рис. 1

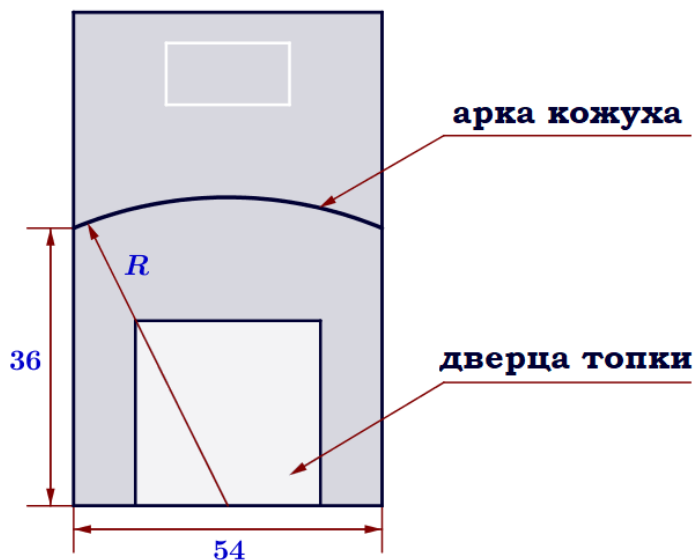


Рис. 2

Печь снабжена кожухом вокруг дверцы топки. Верхняя часть кожуха выполнена в виде арки, приваренной к передней стенке печки по дуге окружности с центром в середине нижней части кожуха (см. рис. 2). Для установки печки хозяину понадобилось узнать радиус закругления арки R . Размеры кожуха в сантиметрах показаны на рисунке. Найдите радиус закругления арки в сантиметрах.

Ответ: _____.

Задание 8. Хозяин дачного участка строит баню с парным отделением. Парное отделение имеет размеры: длина 3,2 м, ширина 2,4 м, высота 2 м. Окон в парном отделении нет, для доступа внутрь планируется дверь шириной 62 см, высота дверного проёма 1,8 м. Для прогрева парного отделения можно использовать электрическую или дровяную печь. В таблице представлены характеристики трёх печей.

Номер печи	Тип	Объём помещения (куб. м)	Масса (кг)	Стоимость (руб.)
1	дровяная	7 – 12,5	49	20 500
2	дровяная	10 – 16	66	26 000
3	электрическая	8 – 17,5	19	22 000

Для установки дровяной печи дополнительных затрат не потребуется. Установка электрической печи потребует подведения специального кабеля, что обойдётся в 5400 руб.

1. Найдите объём парного отделения строящейся бани. Ответ дайте в кубических метрах.

Ответ: _____.

2. На электрическую печь сделали скидку 15%. Сколько рублей стала стоить печь?

Ответ: _____.

3. На сколько рублей покупка дровяной печи, подходящей по объёму парного отделения, обойдётся дороже электрической без учёта установки?

Ответ: _____.

4. Доставка любой печи из магазина до участка стоит 1000 рублей. При покупке печи стоимостью больше 20 000 рублей магазин делает скидку 10% на товар и 35% на доставку. Сколько рублей будет стоить покупка печи номер 3 с доставкой на этих условиях?

Ответ: _____.

5. Хозяин выбрал дровяную печь (рис. 1). Чертёж передней панели печи показан на рисунке 2.



Рис. 1

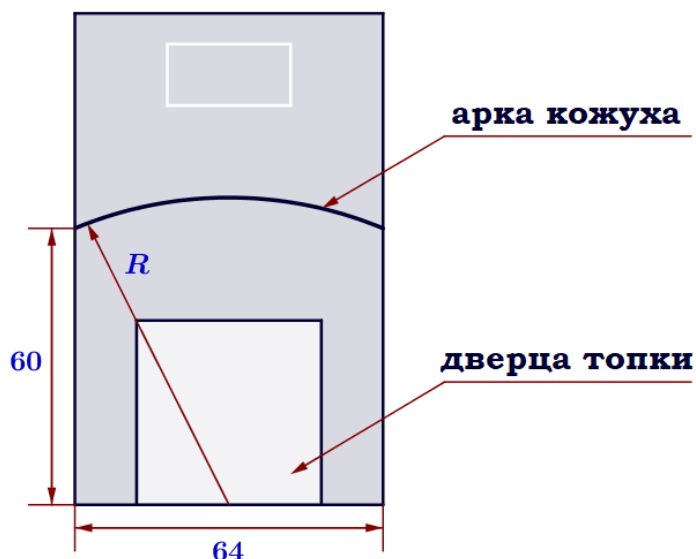


Рис. 2

Печь снабжена кожухом вокруг дверцы топки. Верхняя часть кожуха выполнена в виде арки, приваренной к передней стенке печки по дуге окружности с центром в середине нижней части кожуха (см. рис. 2). Для установки печки хозяину понадобилось узнать радиус закругления арки R . Размеры кожуха в сантиметрах показаны на рисунке. Найдите радиус закругления арки в сантиметрах.

Ответ: _____.