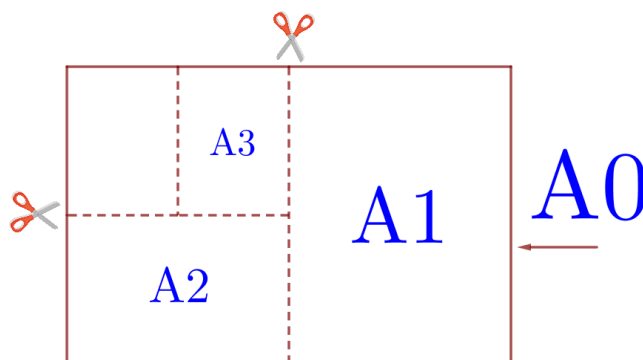


01-05. Задачи с практическим содержанием ФИПИ «Листы бумаги»

Задание 1. Общепринятые форматы листов бумаги обозначают буквой А и цифрой: А0, А1, А2 и так далее. Лист формата А0 имеет форму прямоугольника, площадь которого равна 1 кв. м. Если лист формата А0 разрезать пополам, получается два листа формата А1. Если лист А1 разрезать пополам, получается два листа формата А2. И так далее. Отношение большей стороны к меньшей стороне листа каждого формата одно и то же, поэтому листы всех форматов подобны. Это сделано специально для того, чтобы пропорции текста и его расположение на листе сохранялись при уменьшении или увеличении шрифта при изменении формата листа.



В таблице даны размеры (с точностью до мм) четырёх листов, среди которых есть по одному листу формата А0, А1, А3 и А4.

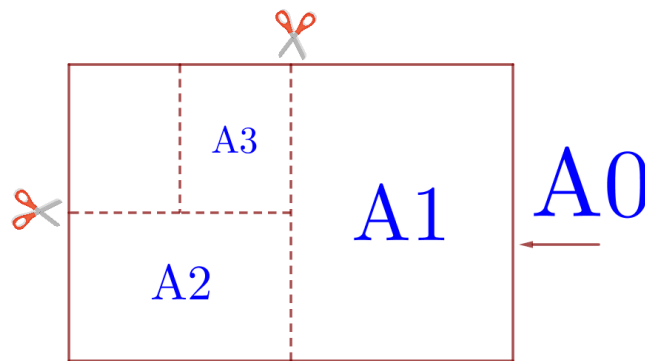
Номер листа	Длина (мм)	Ширина (мм)
1	297	210
2	420	297
3	1189	841
4	841	594

1. Установите соответствие между форматами и номерами листов бумаги из таблицы. Заполните таблицу, в бланк ответов перенесите последовательность четырёх цифр.

А0	А1	А3	А4

- Сколько листов формата А4 получится из одного листа формата А0?
- Найдите ширину листа бумаги формата А5. Ответ дайте в миллиметрах и округлите до ближайшего целого числа, кратного 10.
- Найдите площадь листа формата А3. Ответ дайте в квадратных сантиметрах.
- Найдите отношение длины меньшей стороны листа формата А5 к большей. Ответ округлите до десятых.

Задание 2. Общепринятые форматы листов бумаги обозначают буквой А и цифрой: А0, А1, А2 и так далее. Лист формата А0 имеет форму прямоугольника, площадь которого равна 1 кв. м. Если лист формата А0 разрезать пополам, получается два листа формата А1. Если лист А1 разрезать пополам, получается два листа формата А2. И так далее. Отношение большей стороны к меньшей стороне листа каждого формата одно и то же, поэтому листы всех форматов подобны. Это сделано специально для того, чтобы пропорции текста и его расположение на листе сохранялись при уменьшении или увеличении шрифта при изменении формата листа.



В таблице даны размеры (с точностью до мм) четырёх листов, имеющих форматы А0, А2, А3 и А5.

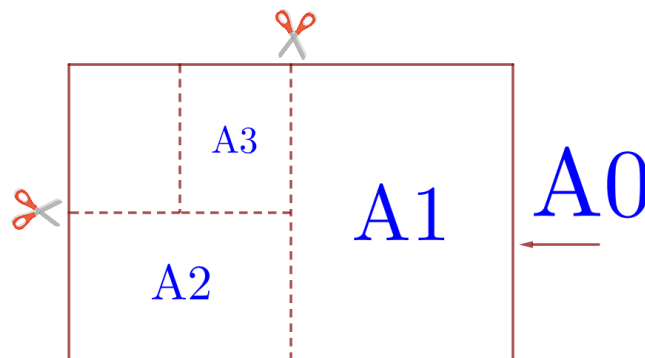
Номер листа	Длина (мм)	Ширина (мм)
1	594	420
2	420	297
3	1189	841
4	210	148

1. Установите соответствие между форматами и номерами листов бумаги из таблицы. Заполните таблицу, в бланк ответов перенесите последовательность четырёх цифр.

А0	А2	А3	А5

- Сколько листов формата А5 получится из одного листа формата А0?
- Найдите ширину листа бумаги формата А1. Ответ дайте в миллиметрах и округлите до ближайшего целого числа, кратного 10.
- Найдите площадь листа формата А2. Ответ дайте в квадратных сантиметрах.
- Найдите отношение длины большей стороны листа формата А6 к меньшей. Ответ округлите до десятых.

Задание 3. Общепринятые форматы листов бумаги обозначают буквой А и цифрой: А0, А1, А2 и так далее. Лист формата А0 имеет форму прямоугольника, площадь которого равна 1 кв. м. Если лист формата А0 разрезать пополам, получается два листа формата А1. Если лист А1 разрезать пополам, получается два листа формата А2. И так далее. Отношение большей стороны к меньшей стороне листа каждого формата одно и то же, поэтому листы всех форматов подобны. Это сделано специально для того, чтобы пропорции текста и его расположение на листе сохранялись при уменьшении или увеличении шрифта при изменении формата листа.



В таблице даны размеры (с точностью до мм) четырёх листов, имеющих форматы А1, А3, А4 и А6.

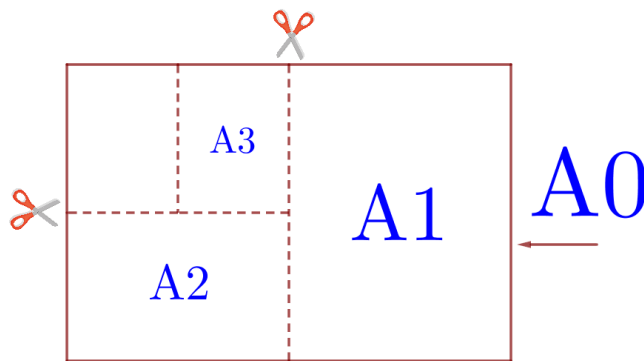
Номер листа	Длина (мм)	Ширина (мм)
1	148	105
2	420	297
3	297	210
4	841	594

1. Установите соответствие между форматами и номерами листов бумаги из таблицы. Заполните таблицу, в бланк ответов перенесите последовательность четырёх цифр.

А1	А3	А4	А6

- Сколько листов формата А6 получится из одного листа формата А0?
- Найдите длину листа бумаги формата А7. Ответ дайте в миллиметрах и округлите до ближайшего целого числа, кратного 5.
- Найдите площадь листа формата А4. Ответ дайте в квадратных сантиметрах.
- Размер (высота) типографского шрифта измеряется в пунктах. Один пункт равен $1/72$ дюйма, то есть 0,3528 мм. Какой высоты нужен шрифт (в пунктах), чтобы текст был расположен на листе формата А4 так же, как этот же текст, напечатанный шрифтом высотой 17 пунктов на листе формата А3? Размер шрифта округляется до целого.

Задание 4. Общепринятые форматы листов бумаги обозначают буквой А и цифрой: А0, А1, А2 и так далее. Лист формата А0 имеет форму прямоугольника, площадь которого равна 1 кв. м. Если лист формата А0 разрезать пополам, получается два листа формата А1. Если лист А1 разрезать пополам, получается два листа формата А2. И так далее. Отношение большей стороны к меньшей стороне листа каждого формата одно и то же, поэтому листы всех форматов подобны. Это сделано специально для того, чтобы пропорции текста и его расположение на листе сохранялись при уменьшении или увеличении шрифта при изменении формата листа.



В таблице даны размеры (с точностью до мм) четырёх листов, имеющих форматы А1, А2, А5 и А6.

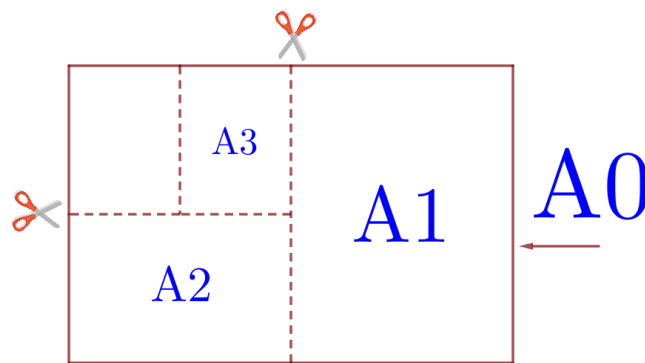
Номер листа	Длина (мм)	Ширина (мм)
1	594	420
2	148	105
3	210	148
4	841	594

1. Установите соответствие между форматами и номерами листов бумаги из таблицы. Заполните таблицу, в бланк ответов перенесите последовательность четырёх цифр.

А1	А2	А5	А6

- Сколько листов формата А6 получится из одного листа формата А3?
- Найдите длину листа бумаги формата А4. Ответ дайте в миллиметрах и округлите до ближайшего целого числа, кратного 10.
- Найдите площадь листа формата А1. Ответ дайте в квадратных сантиметрах.
- Размер (высота) типографского шрифта измеряется в пунктах. Один пункт равен $1/72$ дюйма, то есть 0,3528 мм. Какой высоты нужен шрифт (в пунктах), чтобы текст был расположен на листе формата А5 так же, как этот же текст, напечатанный шрифтом высотой 16 пунктов на листе формата А4? Размер шрифта округляется до целого.

Задание 5. Общепринятые форматы листов бумаги обозначают буквой А и цифрой: А0, А1, А2 и так далее. Лист формата А0 имеет форму прямоугольника, площадь которого равна 1 кв. м. Если лист формата А0 разрезать пополам, получается два листа формата А1. Если лист А1 разрезать пополам, получается два листа формата А2. И так далее. Отношение большей стороны к меньшей стороне листа каждого формата одно и то же, поэтому листы всех форматов подобны. Это сделано специально для того, чтобы пропорции текста и его расположение на листе сохранялись при уменьшении или увеличении шрифта при изменении формата листа.



В таблице даны размеры (с точностью до мм) четырёх листов, имеющих форматы А2, А3, А5 и А6.

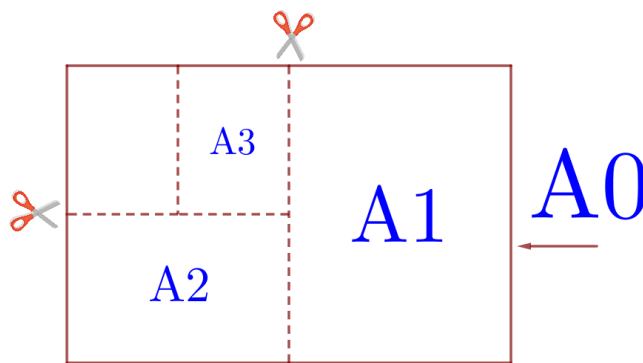
Номер листа	Длина (мм)	Ширина (мм)
1	210	148
2	594	420
3	148	105
4	420	297

1. Установите соответствие между форматами и номерами листов бумаги из таблицы. Заполните таблицу, в бланк ответов перенесите последовательность четырёх цифр.

А2	А3	А5	А6

2. Сколько листов формата А4 получится из одного листа формата А2?
3. Найдите ширину листа бумаги формата А4. Ответ дайте в миллиметрах и округлите до ближайшего целого числа, кратного 10.
4. Найдите площадь листа формата А6. Ответ дайте в квадратных сантиметрах.
5. Бумагу формата А3 упаковали в пачки по 200 листов. Найдите массу пачки, если масса бумаги площади 1 кв. м равна 80 г. Ответ дайте в граммах.

Задание 6. Общепринятые форматы листов бумаги обозначают буквой А и цифрой: А0, А1, А2 и так далее. Лист формата А0 имеет форму прямоугольника, площадь которого равна 1 кв. м. Если лист формата А0 разрезать пополам, получается два листа формата А1. Если лист А1 разрезать пополам, получается два листа формата А2. И так далее. Отношение большей стороны к меньшей стороне листа каждого формата одно и то же, поэтому листы всех форматов подобны. Это сделано специально для того, чтобы пропорции текста и его расположение на листе сохранялись при уменьшении или увеличении шрифта при изменении формата листа.



В таблице даны размеры (с точностью до мм) четырёх листов, имеющих форматы А2, А4, А5 и А6.

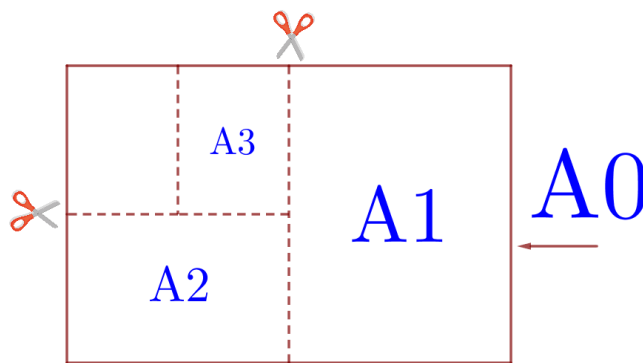
Номер листа	Длина (мм)	Ширина (мм)
1	297	210
2	148	105
3	594	420
4	210	148

1. Установите соответствие между форматами и номерами листов бумаги из таблицы. Заполните таблицу, в бланк ответов перенесите последовательность четырёх цифр.

А2	А4	А5	А6

- Сколько листов формата А6 получится из одного листа формата А2?
- Найдите длину листа бумаги формата А3. Ответ дайте в миллиметрах и округлите до ближайшего целого числа, кратного 10.
- Найдите площадь листа формата А5. Ответ дайте в квадратных сантиметрах.
- Бумагу формата А1 упаковали в пачки по 80 листов. Найдите массу пачки, если масса бумаги площади 1 кв. м равна 120 г. Ответ дайте в граммах.

Задание 7. Общепринятые форматы листов бумаги обозначают буквой А и цифрой: А0, А1, А2 и так далее. Лист формата А0 имеет форму прямоугольника, площадь которого равна 1 кв. м. Если лист формата А0 разрезать пополам, получается два листа формата А1. Если лист А1 разрезать пополам, получается два листа формата А2. И так далее. Отношение большей стороны к меньшей стороне листа каждого формата одно и то же, поэтому листы всех форматов подобны. Это сделано специально для того, чтобы пропорции текста и его расположение на листе сохранялись при уменьшении или увеличении шрифта при изменении формата листа.



В таблице даны размеры (с точностью до мм) четырёх листов, имеющих форматы А1, А3, А5 и А6.

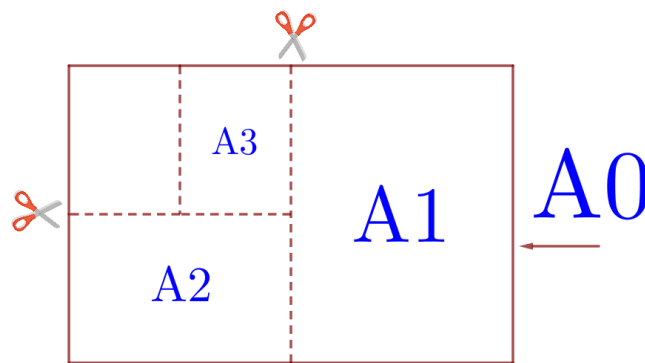
Номер листа	Длина (мм)	Ширина (мм)
1	210	148
2	841	594
3	420	297
4	148	105

1. Установите соответствие между форматами и номерами листов бумаги из таблицы. Заполните таблицу, в бланк ответов перенесите последовательность четырёх цифр.

А1	А3	А5	А6

- Сколько листов формата А3 получится из одного листа формата А0?
- Найдите ширину листа бумаги формата А0. Ответ дайте в миллиметрах и округлите до ближайшего целого числа, кратного 10.
- Найдите отношение длины диагонали листа формата А2 к его меньшей стороне. Ответ округлите до десятых.
- Размер (высота) типографского шрифта измеряется в пунктах. Один пункт равен $1/72$ дюйма, то есть 0,3528 мм. Какой высоты нужен шрифт (в пунктах), чтобы текст был расположен на листе формата А5 так же, как этот же текст, напечатанный шрифтом высотой 20 пунктов на листе формата А4? Размер шрифта округляется до целого.

Задание 8. Общепринятые форматы листов бумаги обозначают буквой А и цифрой: А0, А1, А2 и так далее. Лист формата А0 имеет форму прямоугольника, площадь которого равна 1 кв. м. Если лист формата А0 разрезать пополам, получается два листа формата А1. Если лист А1 разрезать пополам, получается два листа формата А2. И так далее. Отношение большей стороны к меньшей стороне листа каждого формата одно и то же, поэтому листы всех форматов подобны. Это сделано специально для того, чтобы пропорции текста и его расположение на листе сохранялись при уменьшении или увеличении шрифта при изменении формата листа.



В таблице даны размеры (с точностью до мм) четырёх листов, имеющих форматы А1, А2, А3 и А5.

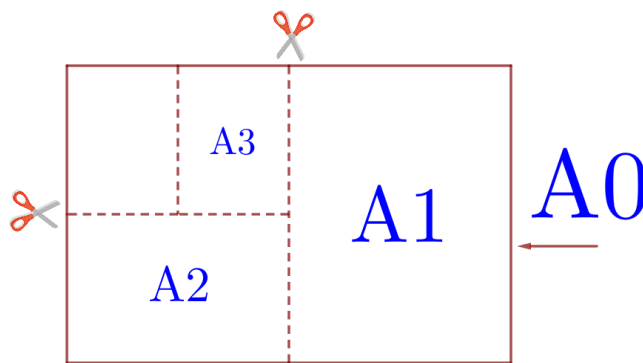
Номер листа	Длина (мм)	Ширина (мм)
1	210	148
2	594	420
3	420	297
4	841	594

1. Установите соответствие между форматами и номерами листов бумаги из таблицы. Заполните таблицу, в бланк ответов перенесите последовательность четырёх цифр.

А1	А2	А3	А5

- Сколько листов формата А3 получится из одного листа формата А2?
- Найдите длину листа бумаги формата А6. Ответ дайте в миллиметрах и округлите до ближайшего целого числа, кратного 5.
- Найдите отношение длины диагонали листа формата А7 к его меньшей стороне. Ответ округлите до десятых.
- Размер (высота) типографского шрифта измеряется в пунктах. Один пункт равен $1/72$ дюйма, то есть 0,3528 мм. Какой высоты нужен шрифт (в пунктах), чтобы текст был расположен на листе формата А4 так же, как этот же текст, напечатанный шрифтом высотой 12 пунктов на листе формата А5? Размер шрифта округляется до целого.

Задание 9. Общепринятые форматы листов бумаги обозначают буквой А и цифрой: А0, А1, А2 и так далее. Лист формата А0 имеет форму прямоугольника, площадь которого равна 1 кв. м. Если лист формата А0 разрезать пополам, получается два листа формата А1. Если лист А1 разрезать пополам, получается два листа формата А2. И так далее. Отношение большей стороны к меньшей стороне листа каждого формата одно и то же, поэтому листы всех форматов подобны. Это сделано специально для того, чтобы пропорции текста и его расположение на листе сохранялись при уменьшении или увеличении шрифта при изменении формата листа.



В таблице даны размеры (с точностью до мм) четырёх листов, имеющих форматы А3, А4, А5 и А6.

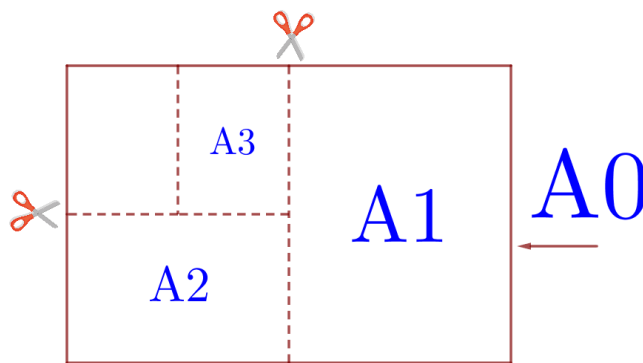
Номер листа	Длина (мм)	Ширина (мм)
1	148	105
2	210	148
3	420	297
4	297	210

1. Установите соответствие между форматами и номерами листов бумаги из таблицы. Заполните таблицу, в бланк ответов перенесите последовательность четырёх цифр.

А3	А4	А5	А6

- Сколько листов формата А4 получится из одного листа формата А1?
- Найдите ширину листа бумаги формата А2. Ответ дайте в миллиметрах и округлите до ближайшего целого числа, кратного 10.
- Найдите отношение длины диагонали листа формата А0 к его меньшей стороне. Ответ округлите до десятых.
- Размер (высота) типографского шрифта измеряется в пунктах. Один пункт равен $1/72$ дюйма, то есть 0,3528 мм. Какой высоты нужен шрифт (в пунктах), чтобы текст был расположен на листе формата А4 так же, как этот же текст, напечатанный шрифтом высотой 21 пункт на листе формата А3? Размер шрифта округляется до целого.

Задание 10. Общеизвестные форматы листов бумаги обозначают буквой А и цифрой: А0, А1, А2 и так далее. Лист формата А0 имеет форму прямоугольника, площадь которого равна 1 кв. м. Если лист формата А0 разрезать пополам, получается два листа формата А1. Если лист А1 разрезать пополам, получается два листа формата А2. И так далее. Отношение большей стороны к меньшей стороне листа каждого формата одно и то же, поэтому листы всех форматов подобны. Это сделано специально для того, чтобы пропорции текста и его расположение на листе сохранялись при уменьшении или увеличении шрифта при изменении формата листа.



В таблице даны размеры (с точностью до мм) четырёх листов, имеющих форматы А0, А1, А2 и А4.

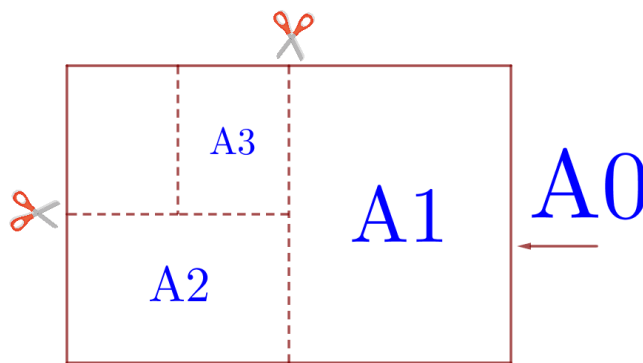
Номер листа	Длина (мм)	Ширина (мм)
1	841	594
2	1189	841
3	297	210
4	594	420

1. Установите соответствие между форматами и номерами листов бумаги из таблицы. Заполните таблицу, в бланк ответов перенесите последовательность четырёх цифр.

А0	А1	А2	А4

- Сколько листов формата А6 получится из одного листа формата А1?
- Найдите ширину листа бумаги формата А3. Ответ дайте в миллиметрах и округлите до ближайшего целого числа, кратного 10.
- Найдите отношение длины меньшей стороны листа формата А3 к большей. Ответ округлите до десятых.
- Бумагу формата А2 упаковали в пачки по 100 листов. Найдите массу пачки, если масса бумаги площади 1 кв. м равна 96 г. Ответ дайте в граммах.

Задание 11. Общеизвестные форматы листов бумаги обозначают буквой А и цифрой: А0, А1, А2 и так далее. Лист формата А0 имеет форму прямоугольника, площадь которого равна 1 кв. м. Если лист формата А0 разрезать пополам, получается два листа формата А1. Если лист А1 разрезать пополам, получается два листа формата А2. И так далее. Отношение большей стороны к меньшей стороне листа каждого формата одно и то же, поэтому листы всех форматов подобны. Это сделано специально для того, чтобы пропорции текста и его расположение на листе сохранялись при уменьшении или увеличении шрифта при изменении формата листа.



В таблице даны размеры (с точностью до мм) четырёх листов, имеющих форматы А2, А3, А4 и А6.

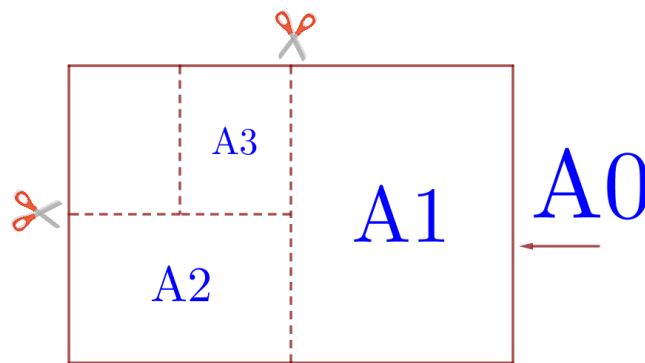
Номер листа	Длина (мм)	Ширина (мм)
1	594	420
2	420	297
3	148	105
4	297	210

1. Установите соответствие между форматами и номерами листов бумаги из таблицы. Заполните таблицу, в бланк ответов перенесите последовательность четырёх цифр.

А2	А3	А4	А6

- Сколько листов формата А5 получится из одного листа формата А3?
- Найдите длину листа бумаги формата А1. Ответ дайте в миллиметрах и округлите до ближайшего целого числа, кратного 10.
- Найдите отношение длины большей стороны листа формата А1 к меньшей. Ответ округлите до десятых.
- Бумагу формата А4 упаковали в пачки по 500 листов. Найдите массу пачки, если масса бумаги площади 1 кв. м равна 80 г? Ответ дайте в граммах.

Задание 12. Общеизвестные форматы листов бумаги обозначают буквой А и цифрой: А0, А1, А2 и так далее. Лист формата А0 имеет форму прямоугольника, площадь которого равна 1 кв. м. Если лист формата А0 разрезать пополам, получается два листа формата А1. Если лист А1 разрезать пополам, получается два листа формата А2. И так далее. Отношение большей стороны к меньшей стороне листа каждого формата одно и то же, поэтому листы всех форматов подобны. Это сделано специально для того, чтобы пропорции текста и его расположение на листе сохранялись при уменьшении или увеличении шрифта при изменении формата листа.



В таблице даны размеры (с точностью до мм) четырёх листов, имеющих форматы А1, А3, А4 и А5.

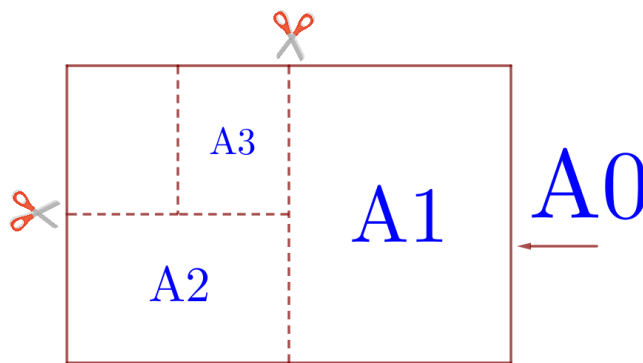
Номер листа	Длина (мм)	Ширина (мм)
1	420	297
2	297	210
3	841	594
4	210	148

1. Установите соответствие между форматами и номерами листов бумаги из таблицы. Заполните таблицу, в бланк ответов перенесите последовательность четырёх цифр.

А1	А3	А4	А5

- Сколько листов формата А5 получится из одного листа формата А1?
- Найдите длину листа бумаги формата А2. Ответ дайте в миллиметрах и округлите до ближайшего целого числа, кратного 10.
- Найдите отношение длины меньшей стороны листа формата А4 к большей. Ответ округлите до десятых.
- Бумагу формата А6 упаковали в пачки по 320 листов. Найдите массу пачки, если масса бумаги площади 1 кв. м равна 108 г. Ответ дайте в граммах.

Задание 13. Общеизвестные форматы листов бумаги обозначают буквой А и цифрой: А0, А1, А2 и так далее. Лист формата А0 имеет форму прямоугольника, площадь которого равна 1 кв. м. Если лист формата А0 разрезать пополам, получается два листа формата А1. Если лист А1 разрезать пополам, получается два листа формата А2. И так далее. Отношение большей стороны к меньшей стороне листа каждого формата одно и то же, поэтому листы всех форматов подобны. Это сделано специально для того, чтобы пропорции текста и его расположение на листе сохранялись при уменьшении или увеличении шрифта при изменении формата листа.



В таблице даны размеры (с точностью до мм) четырёх листов, имеющих форматы А1, А2, А3 и А4.

Номер листа	Длина (мм)	Ширина (мм)
1	841	594
2	420	297
3	594	420
4	297	210

1. Установите соответствие между форматами и номерами листов бумаги из таблицы. Заполните таблицу, в бланк ответов перенесите последовательность четырёх цифр.

А1	А2	А3	А4

- Сколько листов формата А3 получится из одного листа формата А1?
- Найдите длину листа бумаги формата А5. Ответ дайте в миллиметрах и округлите до ближайшего целого числа, кратного 10.
- Найдите отношение длины большей стороны листа формата А6 к меньшей. Ответ округлите до десятых.
- Бумагу формата А4 упаковали в пачки по 800 листов. Найдите массу пачки, если масса бумаги площади 1 кв. м равна 80 г. Ответ дайте в граммах.