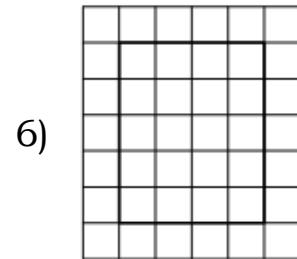
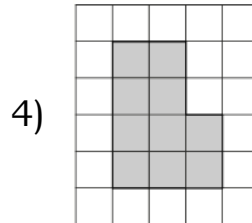
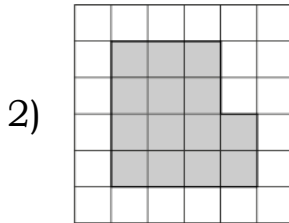

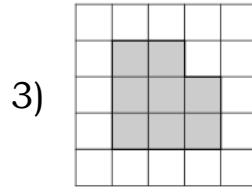
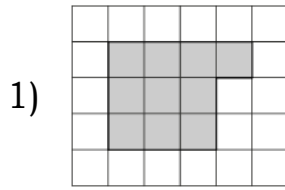


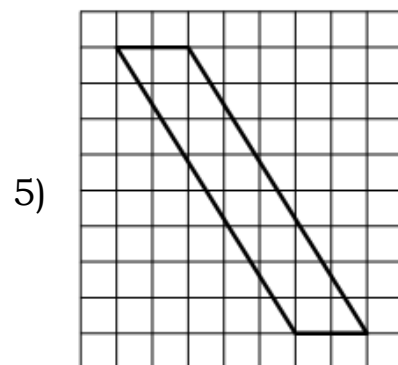
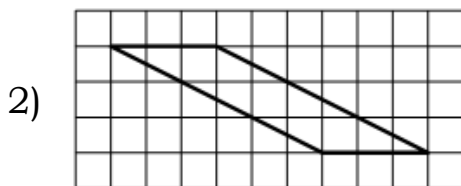
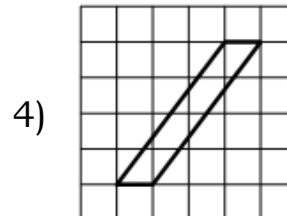
09. Площадь

Блок 1. ФИПИ (www.fipi.ru) + Другие источники

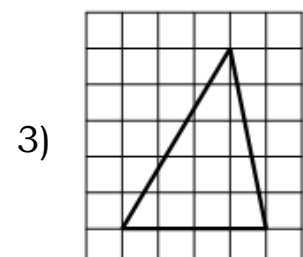
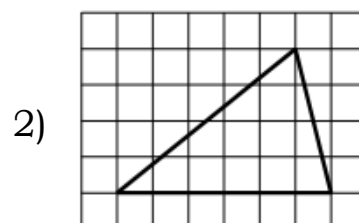
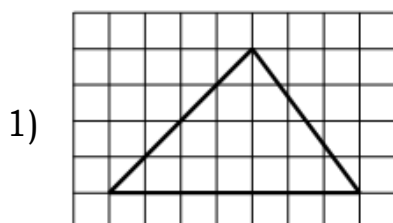
Задание 1. План местности разбит на клетки. Каждая клетка обозначает квадрат $1\text{ м} \times 1\text{ м}$. Найдите площадь участка, изображённого на плане. Ответ дайте в квадратных метрах.



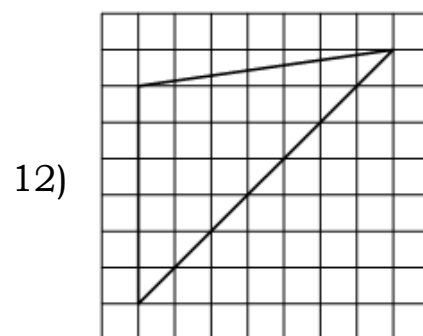
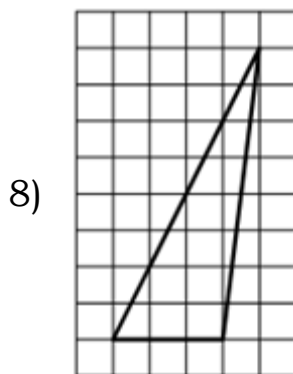
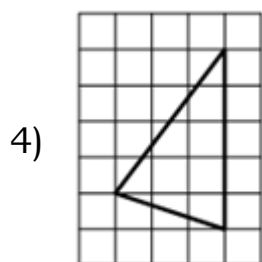
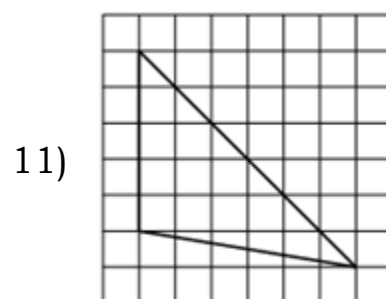
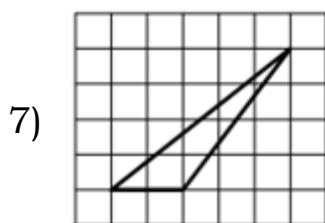
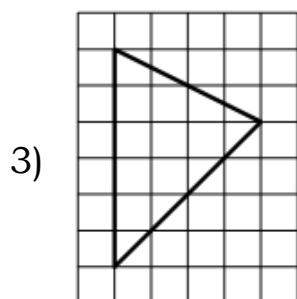
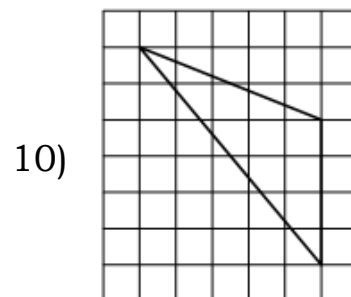
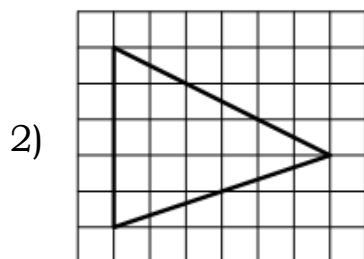
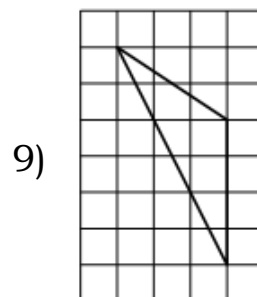
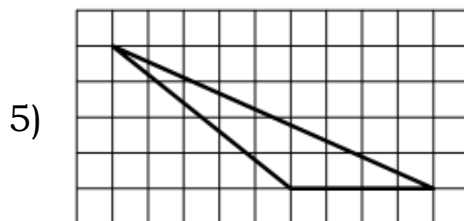
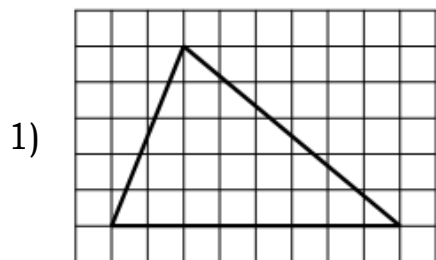
Задание 2. План местности разбит на клетки. Каждая клетка обозначает квадрат $1\text{ м} \times 1\text{ м}$. Найдите площадь участка, изображённого на плане. Ответ дайте в квадратных метрах.



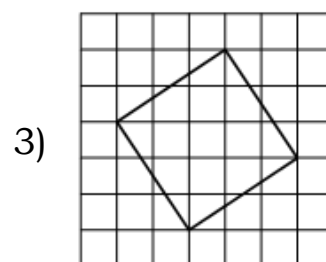
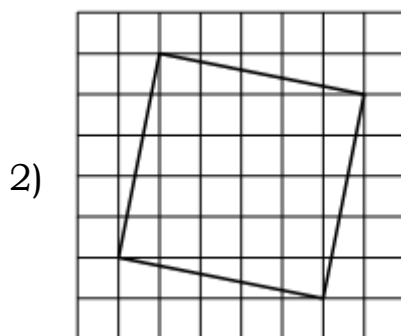
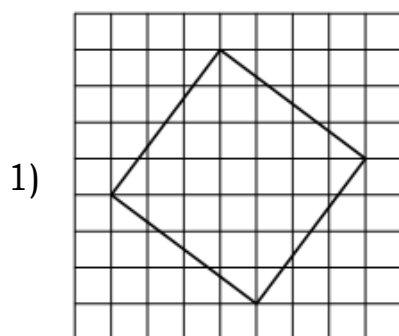
Задание 3. План местности разбит на клетки. Каждая клетка обозначает квадрат $1\text{ м} \times 1\text{ м}$. Найдите площадь участка, изображённого на плане. Ответ дайте в квадратных метрах.



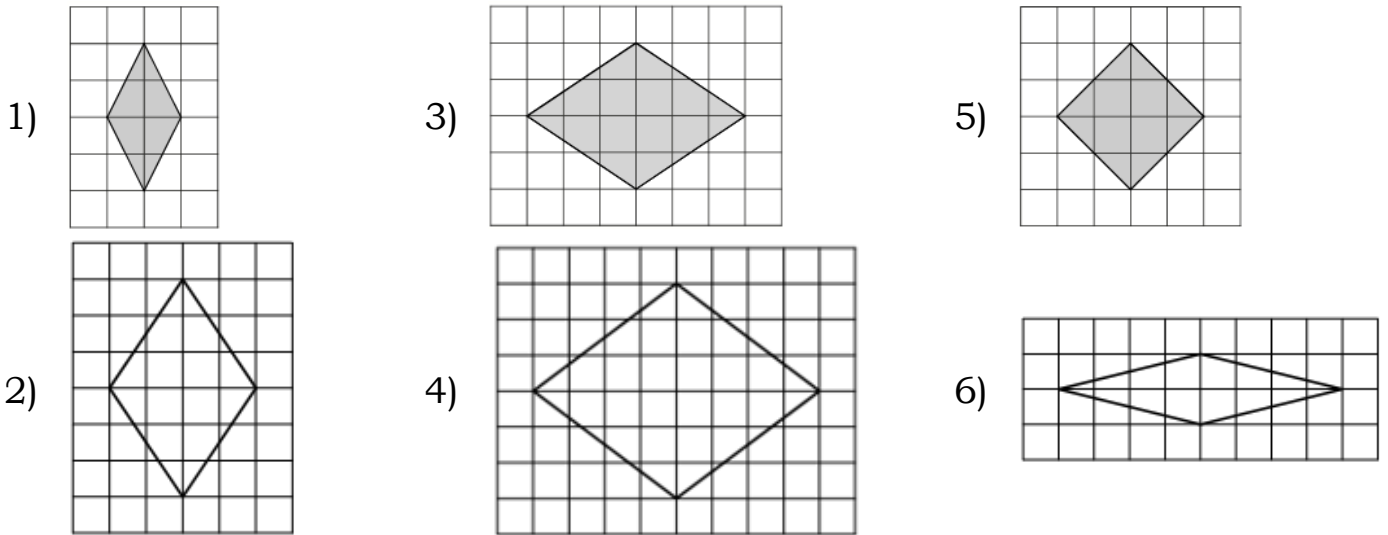
Задание 4. План местности разбит на клетки. Каждая клетка обозначает квадрат $1\text{ м} \times 1\text{ м}$. Найдите площадь участка, изображённого на плане. Ответ дайте в квадратных метрах.



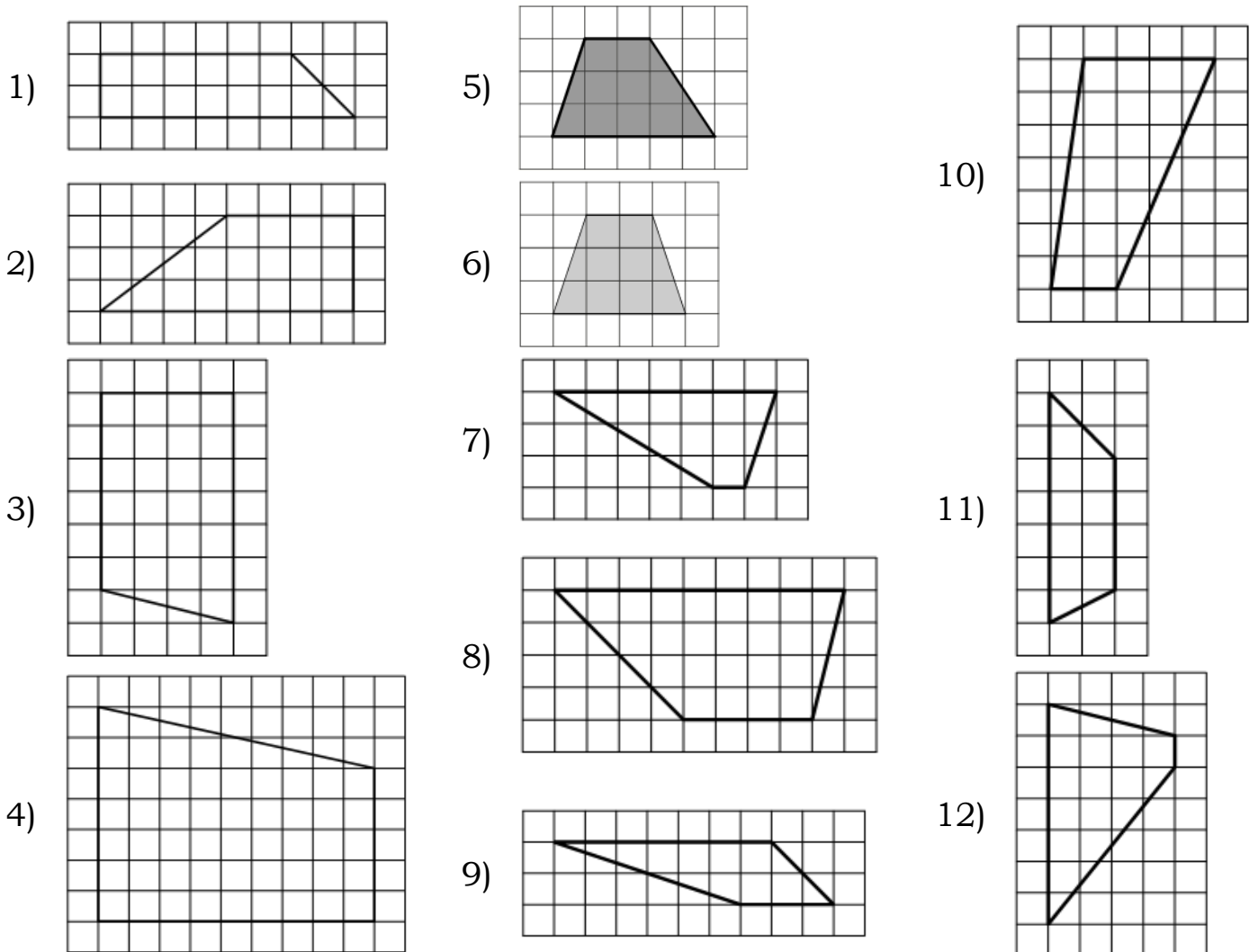
Задание 5. План местности разбит на клетки. Каждая клетка обозначает квадрат $1\text{ м} \times 1\text{ м}$. Найдите площадь участка, изображённого на плане. Ответ дайте в квадратных метрах.



Задание 6. План местности разбит на клетки. Каждая клетка обозначает квадрат $1\text{ м} \times 1\text{ м}$. Найдите площадь участка, изображённого на плане. Ответ дайте в квадратных метрах.

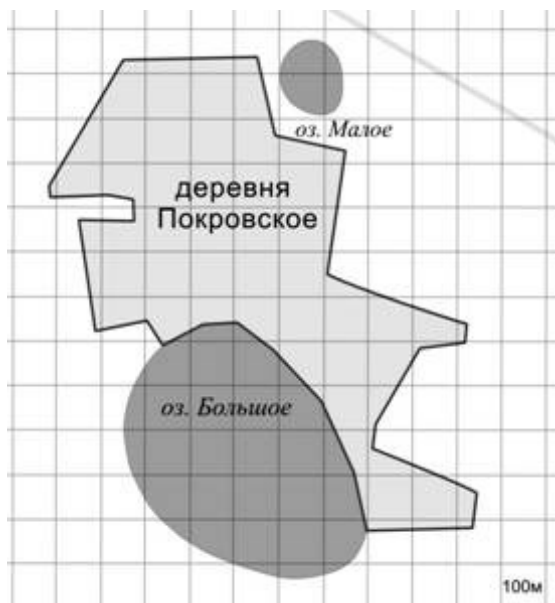


Задание 7. План местности разбит на клетки. Каждая клетка обозначает квадрат $1\text{ м} \times 1\text{ м}$. Найдите площадь участка, изображённого на плане. Ответ дайте в кв. метрах.

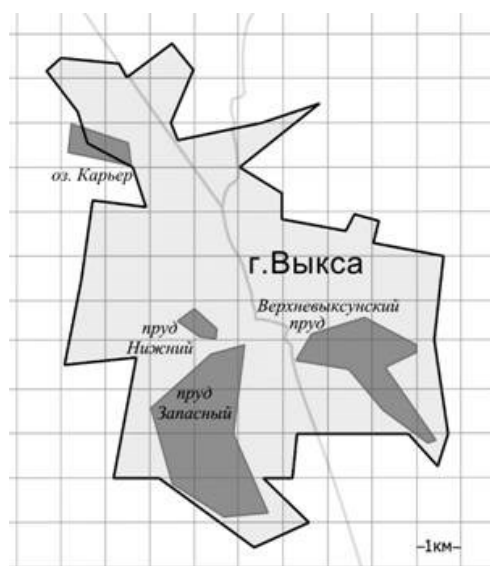




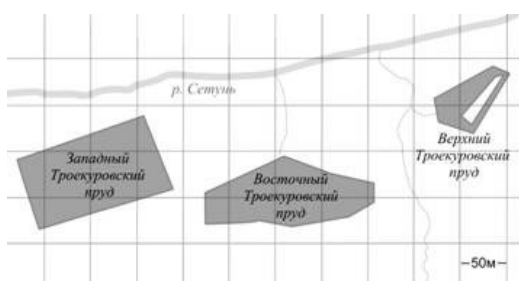
Задание 8. На фрагменте географической карты схематично изображены очертания Большого пруда Екатерининского парка с островами (площадь одной клетки равна одному гектару). Оцените приближённо площадь Большого острова. Ответ дайте в гектарах с округлением до целого числа.



Задание 9. На фрагменте географической карты схематично изображены границы деревни Покровское и очертания озёр Малое и Большое (площадь одной клетки равна одному гектару). Оцените приближённо площадь озера Малое. Ответ дайте в гектарах с округлением до целого числа.



Задание 10. На фрагменте географической карты схематично изображены границы города Выксы и очертания водоёмов (длина стороны квадратной клетки равна 1 км). Оцените приближённо площадь озера Карьер. Ответ дайте в квадратных километрах с округлением до целого числа.



Задание 11. На фрагменте географической карты схематично изображены очертания водоёмов парка «Усадьба Троекурово» (площадь одной клетки равна 0,25 га). Оцените приближённо площадь Западного Троекуровского пруда. Ответ дайте в гектарах с округлением до целого числа.